



REPUBLIKA E KOSOVËS
REPUBLIKA KOSOVO
REPUBLIC OF KOSOVA

QEVERIA E KOSOVËS - VLADA KOSOVA - GOVERNMENT OF KOSOVA


MINISTRIA E ARSIMIT E
SHKENCËS DHE E TEKNOLOGJISË
KQSHM

MINISTARSTVO OBRAZOVANJA
NAUKE I TEHNOLOGIJE

MINISTRY OF EDUCATION
SCIENCE & TECHNOLOGY
DVSM

TESTI I MATURËS

GJIMNAZI
(SHOQËROR, GJUHËSOR)



Prishtinë, qershor 2009

Emri dhe mbiemri i nxënësit

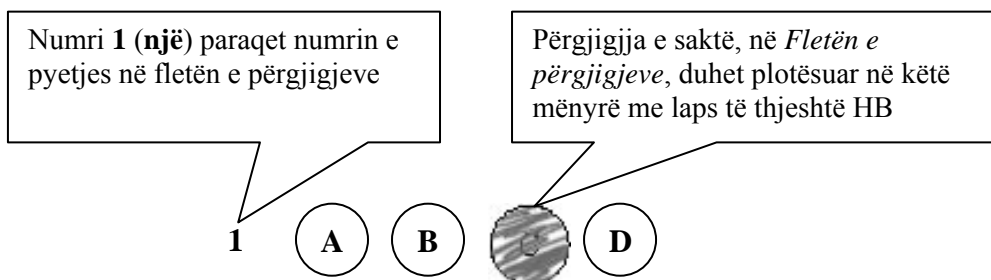
Shkolla.....

Udhëzime:

Koha: Keni 180 minuta që t'u përgjigjeni 100 kërkesave (pyetjeve). Koha numërohet prej momentit kur do të filloni t'i zgjidhni kërkesat.

Si të veproni?

1. Plotësojini me kujdes, sipas udhëzimeve, të gjitha kodet (në rreth), për: komunën, shkollën, paralelen, numrin e ditarit. Nëse këto të dhëna nuk i plotësoni saktë, nuk do të mund të nxirret rezultati i testit tuaj.
2. Para se të filloni t'u përgjigjeni pyetjeve, qetësohuni plotësisht, sepse kjo do t'ju ndihmojë.
3. Lexojini me kujdes kërkesat dhe pastaj shënojeni vetëm përgjigjen e saktë, nga 4 mundësitë e dhëna, për të cilën besoni se është e saktë.
4. Fleta e përgjigjeve duhet të plotësohet vetëm me laps të thjeshtë - laps HB.
5. Mbusheni kodin (në rreth) e përgjigjes së saktë me laps të thjeshtë, pa e shkarravitur jashtë. Shih shembullin e mëposhtëm.



6. Kini kujdes që përgjigjen e saktë të një pyetjeje të mos ia vendosni pyetjes tjetër të radhës.
7. Në Fletën e përgjigjeve nuk bën të shkruani tjetër gjë, përveç përgjigjeve për të cilat jeni të bindur se janë të sakta.
8. Përgjigjet e sakta plotësohen njëkohësisht – në Test dhe në Fletën e përgjigjeve.
9. Çdo lloj llogaritjeje mund ta bëni në faqen e fundit të testit, ndërsa në fletën e përgjigjeve nuk bën të shkruani tjetër gjë, përveç përgjigjeve, për të cilat jeni të bindur se janë të sakta.
10. Mos humbni kohë me pyetjet që nuk i dini, sepse koha mund të mos ju mjaftojë për pyetjet e tjera.
11. Përdoreni deri në fund kohën e testimit, në mënyrë që t'u përgjigjeni të gjitha pyetjeve.

GJUHË SHQIPE

Lexo paragrafin e dhënë më poshtë dhe përgjigju pyetjeve vijuese

Zoti nderçur' e vëlla i dashurë!

Punërat që po bën Lidhje e Shqipërisë në Gegëri, që nonjë muaj e tëhu, mbase nuk i kini dëgjuarë, se fletët e Evropësë nuk bëjnë shumë fjalë, duke me qenë mënjanë Turqia nuk lë të dëgjohenë nëpër botët, edhe mënjanë armiqtë tanë Greqt' e Shqehhtë, duanë t'i tregojnë të vogla e të mosgjëjta. Lidhja e Shqipëtarëvet që ka kërthizën në Pizdren, në Gegëri, ka kërkuar shumë herë, që nga tre vjet e tëhu, bashkimm' e Shqipërisë me një provincë me otonomi; po mbretëria gjer më sot e kish gënjyerë me fjalë, edhe s'ka dashurë të bënë gjë fare për Shqipërinë.

Sami Frashëri

1. Fragmenti i dhënë është pjesë e një:

- A. raporti
- B. artikulli
- C. letërkëmbimi
- D. memorandum

2. Ideja themelore e këtij fragmenti përmbledhet në fjalinë:

- A. Turqia, Greqia e Serbia e pengonin jehonën e Lidhjes së Prizrenit
- B. Turqia, Greqia e Serbia e ndalonin mbajtjen e Lidhjes së Prizrenit
- C. Evropa e përkrahte organizimin e Lidhjes së Prizrenit
- D. Turqia përpiqej ta vinte nën kontroll Lidhjen e Prizrenit

Lexo fragmentin e dhënë më poshtë dhe përgjigju pyetjeve vijuese

Konkurs për Petro Markon

Tiranë, 27 nëntor

Një skulpturë kushtuar shkrimtarit të njohur shqiptar, Petro Marko, do të vendoset në fshatin e tij të lindjes, në Dhërmi, në mars të këtij viti. Galeria Kombëtare e Arteve, dje në Tiranë ka shpallur konkursin, dhe fton artistët shqiptarë të marrin pjesë.

Në njoftimin e GKA-së thuhet se boceti mund të krijohet nga një artist i vetëm apo nga një grup artistësh. Ai nuk guxon të jetë pjesëmarrës apo të jetë ekspozuar në veprimtari të tjera të mëparshme. "Boceti duhet të jetë shprehje artistike figurative me destinacion përjetësimin e figurës dhe personalitetit psikologjik të Petro Markos", thuhet në njoftim.

Afati për dorëzimin e këtij boceti pranë Galerisë së Arteve është 9 shkurti i vitit 2009.

Më datën 14 shkurt 2009, në orën 10.00 do të shpallet fituesi i çmimeve nga Juria e konkursit, në mjediset e Ministrisë së Turizmit, Kulturës, Rinisë dhe Sportit.

"Juria e konkursit do të jetë e përbërë nga 5 anëtarë, personalitete nga fusha e artit dhe kulturës, caktuar nga MTKRS", thuhet në njoftim.

(Marrë dhe përshtatur nga gazeta "KOHA ditore")

3. Gjej se cila nga fjalitë në vijim është citat?

- A. Një skulpturë kushtuar shkrimtarit të njohur shqiptar, Petro Marko, do të vendoset në fshatin e tij të lindjes, në Dhërmi.
- B. Boceti duhet të jetë shprehje artistike figurative me destinacion përjetësimin e figurës dhe personalitetit psikologjik të Petro Markos.
- C. Në njoftimin e GKA-së thuhet se boceti mund të krijohet nga një artist i vetëm apo nga një grup artistësh.
- D. Më datën 14 shkurt 2009, në orën 10.00 do të shpallet fituesi i çmimeve nga Juria e konkursit, në mjediset e GKA-së në Tiranë.

4. Nëse në fjalinë: „Një skulpturë kushtuar shkrimtarit të njohur shqiptar, Petro Marko, do të vendoset në fshatin e tij të lindjes, në Dhërmi, në mars të këtij viti.”, jepet rendi i informatave sipas radhës **kush?; ku?; kur?; çka?**, atëherë në cilën nga alternativat renditja është e duhur?

- A. fshatin e tij / në mars të këtij viti / Petro Marko / një skulpturë...
- B. do të vendoset / në mars të këtij viti / në Dhërmi / një skulpturë...
- C. shkrimtarit të njohur shqiptar / në mars të këtij viti / në Dhërmi / Petro Marko...
- D. një skulpturë... / në fshatin e tij të lindjes / në mars të këtij viti / do të vendoset

Lexoje me kujdes deri në fund këtë fragment të transliteruar dhe përgjigju pyetjeve vijuese

Zogu i Egrë, ma të shumenë herë është mai bukurë, se aj qi ritetë nder duertë Nierëzet, e nder pluhunitë shtëpisë e hitë votresë. Kështu ende Pemetë, qi përkitenë nukë piqenë mirë: po ma te shumenë herë kalbenë. Drini, e Buena kur dalenë jashtë brigjeshit se tyne, e rjedhnë ndëper bërraketë Hassit e Zadrimesë, ndo Sitnica e si Vardari ndëper Shkupt', e nde per Kossovet, gjithëherë ecinë e janë ma të turbulla; tue bajtunë me vetehe plehë e baltë; se kur ecinë Amesë vet: kështu femëna e silla ndjek shetitë, tue dalë shpesh me shkuem mot, shumë herë turbullon të dëliretë vet.

(Pjetër Bogdani, *Çeta e Profetëve*, 1685)

5. Motivi kryesor i këtij fragmenti mbështetet në:

- A. mahnitjen nga bukuria e zogut të egër
- B. brengën për shpëtimin e moralit të femrës
- C. mbrojtjen e pemëve që nuk piqen mirë e kalben
- D. evitimin e vërshimeve të Sitnicës e Vardarit

6. Fjala transliterim do të thotë:

- A. Përshkrim germë për germë i një teksti, duke i zëvendësuar shkronjat e një alfabeti me shkronjat e alfabetit tjetër
- B. Kthim i fjalëve apo frazave, nga një gjuhë në tjetrën, duke e ruajtur plotësisht kuptimin e përmbajtjes
- C. Shpjegim që jepet në gjuhën e sotme në mënyrë të përmbledhur për përmbajtjen a kuptimin e një teksti të vjetër
- D. Komentim i një teksti letrar i ndërtuar mbi një dialekt, për të vënë në dukje vlerat ideore dhe artistike të tij

Lexo paragrafin dhe përgjigju pyetjes vijuese

Tozeri tregon për vështirësitë që kishte hasur njëherë gjatë një vizite në një kullë; ai me gjithë shoqëruesit e tij:

... e rrethuan kullën dhe zunë të trokitnin në portë me një gur të madh ngaqë dera që mbyllur dhe ne i dëgjoni hapat e të zotit të shtëpisë nga kati i epërm. Në e parë, u bë kinse s'na dëgjonte, dhe - kur më në fund zbriti, filloi të fliste diçka më vete para se të na pranonte, sepse - si i tha përkthyesit tonë, ai nuk e kishte të qartë pse ne duhej të vizitonim vendin pos nëse e kemi vendosur të ktheheshim rishmi për ta pushtuar më vonë.

(Faik Konica, *Shqipëria kopshti shkëmbor i Evropës Juglindore*, Prishtinë, 1990)

7. Sipas fragmentit të mësipërm, një tipar i karakterit të të zotit të shtëpisë, që vëzhguesit (Tozerit) i ka rënë në sy, është:

- A. frika nga mysafirët e paftuar
- B. mikpritja për mysafirin e shtëpisë
- C. pritja e dyshimit ndaj të huajve
- D. ndjenja e respektit ndaj të huajve

Lexo paragrafin dhe përgjigju pyetjeve vijuese

Tagri, perlimi e detyra e të zot't të shpis.

Mbas Kanunit, sundimi i shpis i perket ma të vjetrit nen kulm të shpis a se vllaut të parë; po s'paten ato veti, qi duhen per me krye ket zyre si e lyp detyra, atbotë zgjidhet kuvendisht prej shpjakve njaj, qi të jet ma i meqem, i urtë e ma kujdestar.

Zot shpije mundet m'u ba edhe njeri i pamartuem.

(*Kanuni i Lekë Dukagjinit*)

8. Sipas këtij neni, personi i pamartuar:

- A. preferohet të jetë Zot shtëpie
- B. rekomandohet të jetë Zot shtëpie
- C. sugjerohet të bëhet Zot shtëpie
- D. lejohet të bëhet Zot shtëpie

9. Fjalja: „Mbas Kanunit, sundimi i shpis i perket ma të vjetrit” në shqipen standarde bën:

- A. Simbas Kanunit, sundimi i shtëpisë i përket ma të vjetrit.
- B. Sipas Kanunit, sundimi i shtëpis i perket më të vjetërit.
- C. Sipas Kanunit, sundimi i shtëpisë i përket më të vjetrit.
- D. Simbas Kanunit, sundimi i shtëpis i perket ma të vjetrit.

Lexo këtë paragraf dhe përgjigju pyetjeve vijuese

... fryu një erë e hollë dhe e lartoi mjegullën. E lartoi dhe e shpuri në kodrën e Valdenuzit. Aty majë kodrës punonin tre vëllezër. Ndërtonin një kështjellë. Muri që e bënin, u prishej natën dhe kështu nuk e lartnin dot.

10. Mbështetur mbi këtë pjesë të shkurtër fragmenti, kuptohet se fjala është për baladën:

- A. Besa e Kostandinit
- B. Rozafati
- C. Fuqia e Mujit
- D. Martesa e Halilit

11. Fjalja: „majë kodrës punonin tre vëllezër”, në kohën e pakryer të mënyrës habitore, bën:

- A. majë kodrës punuakëshin tre vëllezër
- B. majë kodrës punuakan tre vëllezër
- C. majë kodrës paskan punuar tre vëllezër
- D. majë kodrës paskëshin punuar tre vëllezër

12. Nëse fjalitë: „Muri nuk lartohej se nuk lartohej dot” dhe „Kërkohej një flijim në themele”, i bashkojmë në një periudhë të nënrenditur me marrëdhënie shkakore, periudha bën:

- A. Muri nuk lartohej se nuk lartohej dot megjithëse kërkohej një flijim në themele
- B. Muri nuk lartohej se nuk lartohej dot edhe pse kërkohej një flijim në themele
- C. Muri nuk lartohej se nuk lartohej dot meqenëse kërkohej një flijim në themele
- D. Muri nuk lartohej se nuk lartohej ndonëse kërkohej një flijim në themele

Lexo vargjet dhe përgjigju pyetjeve vijuese

Zymtë e shikoi Akil këmbëshpejti e i foli:

- I. "o dhelpërak, me paturpësi i mbuluar,
po kush nga akejt është gati që t'u bindet
urdhërave të tu, e luan për ty nga vendi,
o rrëmben armët të luftojnë me burra?
Këtu s'kam ardhur të luftoj pse urreva
trimat trojanë, pse faj ata s'më kishin,
as kuaj, asgjë ata kurrë s'na grabitën,
- II. Por t'erdhëm pas, o faqezi pa cipë
për t'mirën tënde, që në vend të çonim
nderin e Atridit Menela ndër teukër,
gjithnjë për ty, o turiqen, por t'gjitha
këto ti i shkel dhe i përbuz me urrejtje,
dhe më kanosesh të më heqësh dore
frytin e djersës derdhur ndër beteja,
t'vetmin shërbim që më dhuruan akejt.

(Homeri, *Iliada*)

13. Nga vargjet e mësipërme del se Akili e bënte luftën e tij për:

- A. plaçkë
- B. pushtet
- C. nam
- D. nder

14. Mllef i Akilit shprehet në vargun:

- A. o dhelpërak, me paturpësi i mbuluar
- B. këto ti i shkel dhe i përbuz me urrejtje
- C. Këtu s'kam ardhur të luftoj pse urreva
- D. as kuaj, asgjë ata kurrë s'na grabitën

15. Akili, në vargjet e lartpërmendura, i drejtohet:

- A. një orakulli
- B. prijësit të tij
- C. ushtarit të tij
- D. një trojani

Lexo vargjet dhe përgjigju pyetjeve vijuese

N'at Berlin na janë bashkue,

Na kan nis me bisedue

Se si pûnen me e vendue,

Per me vû paq edhe besë,

Zemër t'keqe, mní e resë,

Tue ngulë gúr, tue ngulë kufí,

Per gjith vend, per gjith mbretní

Giatë Balkanit m'Dét të Zí

16. Diskursi poetik i këtyre vargjeve është:

- A. historik
- B. mitologjik
- C. elegjiak
- D. përkushtues

17. Vargjet e dhëna më lart janë marrë nga:

- A. Poemi kosovar
- B. Skanderbeku i pafan
- C. Lahuta e Malcís
- D. Këngët e Milosaos

Lexo paragrafët dhe përgjigju pyetjeve vijuese

- I. Në qytetin tonë asht një lagje... E në atë lagje asht një kishë. Mbrenda në kishë asht një lyps, në të cilin jeton një dëshirë: me jetue.
- II. Lypsi ka ardhë. Dhe me të vërtetë ka gjetë prehje. Lagshtina e kishës e fashiti të nxehtit e trupit të tij që gati e përvëloi. Jasht asht zheg. Dielli asht aq marrisht i nxehtë dhe aq egër të lëmon, sa që të rrahin tëmththat, si të rrahurat e farkëtarit mbi hekurin e skuqun.

(Migjeni, *Në kishë*)

18. Gradacioni zbritës në paragrafin e parë ndërtohet mbi këtë rend fjalësh:

- A. Lagje, Qytet, Brenda, Lyps, Me jetue
- B. Dëshirë, Lyps, Kishë, Lagje, Qytet
- C. Jetë, Lyps, Dëshirë, Kishë, Lagje
- D. Qytet, Lagje, Kishë, Lyps, Dëshirë

19. Fragmenti i mësipërm është me tematikë:

- A. sociale
- B. politike
- C. fetare
- D. historike

20. Cila nga fjalitë e mëposhtme ka gjuhë të figurshme?

- A. Në qytetin tonë asht një lagje
- B. Dielli egër të lëmon
- C. Në kishë asht një lyps
- D. Jasht asht shumë zheg

Lexo fragmentin dhe përgjigju pyetjeve vijuese

Ishe njëherë një gjeneral dhe një prift që kishin dalë për *kësmet*. Jo, nuk kishin dalë për *kësmet*. Ata kishin dalë për të mbledhur eshtrat e ushtarëve të tyre të vrrarë në një luftë të madhe. Ec e ec, kapërcyen shumë male e shumë fusha, duke kërkuar e duke mbledhur këto eshtra. Vendi ishte i ashpër e i keq. Frynin erëra e binin shira pa pushim. Por ata nuk u kthyen nga udha dhe ikën më tutje. Mblodhën sa mblodhën dhe u kthyen të numëronin ato që kishin mbledhur. Doli se mungonin ende shumë eshtra. Atëherë mbathën opingat e veshën zhgunat dhe u nisën prapë për udhë. Ec e ec, kapërcyen shumë male e shumë pllaja. Moti ishte i egër e i keq. U lodhën e u këputën e u plasi shpirtin kjo punë. As era, as dëbora nuk u tregonin ku gjendeshin ushtarët që kërkonin. Mblodhën sa mblodhën dhe u kthyen prapë të njehsonin ato që kishin mbledhur. I njehsuan dhe doli që kishin mbetur pa u gjetur ende shumë ushtarë. Atëherë, të lodhur e të rraskapitur, u nisën prapë për udhë të madhe. Ec e ec e udha s'kishte të sosur. Ishe dimër, binte borë.

21. Ky fragment dallohet që **nuk** është përrallë, për shkak të:

- A. përshkrimit
- B. rrëfimit
- C. personazheve
- D. hapësirës

22. Fragmenti i dhënë më lart, si përmbajtje dhe stil, i takon prozës letrare të:

- A. Ismail Kadaresë
- B. Zejnullah Rrahmanit
- C. Dritëro Agollit
- D. Teki Dërvishit

23. Nëse në fjalinë: „Ata kishin dalë për të mbledhur eshtrat e ushtarëve të vrarë”, përdoret **kryefjala në numrin njëjës** dhe **kallëzuesi i shprehur me folje në kohën e kryer të thjeshtë**, fjalia bën:

- A. Ai dilte për të mbledhur eshtrat e ushtarëve të vrarë
- B. Ata dilnin për të mbledhur eshtrat e ushtarit të vrarë
- C. Ata dolën për të mbledhur eshtrat e ushtarit të vrarë
- D. Ai doli për të mbledhur eshtrat e ushtarëve të vrarë

Lexo fragmentin dhe përgjigju pyetjes vijuese

Po ta vija veten në rolin e tregimtarit pretencioz, këtë rrëfim do ta nisja me përshkrimin e rrugës përplot kthesa, që shpie drejt fshatit. Pra do të duhej të bëja një retrospektivë nga ato të mërzitshmet, duke përshkruar ndodhi të ndryshme të rastisura aty-këtu në thellësitë e kohës së kaluar dhe në hapësirat e ndryshme, gjithnjë me bindjen se ajo do të zgjojë interes, duke gënjyer vetveten e të tjerët me zbulurime.

(Kim Mehmeti, *Lulehëna, Pejë, 1997*)

24. Në këtë fragment hetohet prania e dukshme e atij që rrëfen. Prania e kujt po hetohet?

- A. e personazhit
- B. e autorit
- C. e narratorit
- D. e dikujt tjetër

Lexo fragmentin dhe përgjigju pyetjeve

Idili mes Vitës, vashës së Shpiragajve, dhe Adilit, djalit të Tafilajve, është dimensionimi më fisnik i këtij romani; është vija tematike që i jep kuptim të fuqishëm tërë botës së këtij romani, botës së luftës për mbijetesë.

25. Mbështetur në fragmentin e mësipërm, cili nga përfundimet është i saktë?

- A. Ky fragment është i formës së kritikës letrare dhe lidhet me romanin „Lumi i Vdekur” të Jakov Xoxës
- B. Ky fragment është i formës eseistike dhe lidhet me romanin „Komisari Memo” të Dritëro Agollit
- C. Ky fragment është i formës së kritikës letrare dhe lidhet me romanin „Romani për Kosovën” të Zejnullah Rrahmanit
- D. Ky fragment është i formës eseistike dhe lidhet me romanin „Stina e stinëve” të Kasëm Trebeshinës

26. Përfaqësues të Modernizmit në letërsinë shqipe janë:

- A. Naim Frashëri, Zef Serembe, Fan Noli
- B. Jeronim de Rada, Sami Frashëri, Asdreni
- C. Faik Konica, Gjergj Fishta, Ernest Koliqi
- D. Konstandin Kristoforidhi, Zef Skiroi, Mitrush Kuteli

27. Përfaqësues të Romantizmit në letërsinë shqipe janë:

- A. Sami Frashëri, Fan Noli, Zef Skiroi
- B. Naim Frashëri, Zef Skiroi, Zef Serembe
- C. Jeronim de Rada, Ndre Mjeda, Anton Zako Çajupi
- D. Konstandin Kristoforidhi, Gjergj Fishta, Ernest Koliqi

Lexoje këtë poezi me kujdes, pastaj përgjigju pyetjeve

Bjen sharkija e Ymerit

Mjeshtrit të sharkisë – Ymer Rizës prej Gjakove

Bjen sharkija e Ymerit,
dridhen telat – shpirt’ i gjallë.
Rreth e rrotull rrin rinija,
kur fillon me ra sharkija –
zemrat flakë ajo i kallë.

Bjen sharkija e Ymerit,
gishtat k’cejnë, mbi tel lodrojnë.
Plaku kangën kur ia nisë
nën mekamin e sharkisë –
trupin dridhmat e përshkojnë.

Bjen sharkija e Ymerit,
flet mbi t’shkuemen plot me gjak:
mbi tiranë që shkretnu’n dhenë,
e mbi burra që mbrojnë atdhenë –
kur këndon Ymeri plak...

Bjen sharkija e Ymerit,
dridhen telat – shpirt’ i gjallë.
Rreth e rrotull rrin rinija,
zanat ndizen, s’menë sharkija –
zemrat rriten bahen mal!

(Esad Mekuli, *Brigjet, Prishtinë, 1981*)

28. Forma poetike e kësaj poezie karakterizohet si:

- A. ode
- B. baladë
- C. sonet
- D. epigram

29. Nëse e përjashtojmë në krye të çdo strofe refrenin: *Bjen sharkija e Ymerit*, rima do të jetë e:

- A. puthur
- B. kryqëzuar
- C. alternuar
- D. ndërprerë

30. Menjëherë pas viteve ’45 të shek. XX, letërsia shqipe:

- A. vazhdoi lidhjet me modernitetin e huaj
- B. zhvilloi zhanre e teknika të reja letrare
- C. humbi lidhjet me modernitetin shqiptar
- D. krijoi vetëdijen për individualitetin krijues

ENGLISH LANGUAGE

31. Choose the correct alternative to complete the following sentence:
Our generation reunion party was held on 28/4/2007. It was held on _____.

- A. April twenty-eighth, of two thousand and seven
- B. twenty-eighth of April, two thousand and seven
- C. twenty-eight of the April, two thousand and seven
- D. the twenty-eighth of April, two thousand and seven

32. Read the following sentences carefully:

1. Hello, Jenny. This is Marcus, remember me from school?
2. I'm awfully sorry. I'm travelling tonight and...
3. Fine, thanks. Listen I wanted to invite you to a party tomorrow night...
4. Hello, 793 728 356.
5. Which school? Oh, hi Marcus. How are you?

The correct order of sentences to form a dialogue is _____.

- A. 1 2 5 4 3
- B. 2 1 4 5 3
- C. 4 1 5 3 2
- D. 4 3 5 2 1

33. Pierre, Johanna, Patrick, and Rebecca are e-mail friends. They communicate daily because they have many things in common. Look at the table below and choose the correct answer:

	Pierre	Johanna	Patrick	Rebecca
Age?	22	18	23	16
Job?	No	Yes	Yes	No
Likes?	music, reading, cooking	reading, computers, going out	going to movies, music, writing	writing, cooking, eating
Plays (sports/instrument)	the guitar, the drums	ice hockey, ice-skating	the piano, baseball	tennis, basketball
Languages?	English, French	Swedish, English	English, Chinese	Spanish, English
Other information	Hates dogs, works long hours	Interested in all sports, loves dogs	Loves cats and dogs and all animals	Hates ducks and cats but loves ants

- A. Patrick likes going to movies, the others don't.
- B. Johanna likes cooking but Rebecca doesn't.
- C. Both Pierre and Johanna are employed.
- D. They all like reading and writing books.

34. ONLY ONE of the words below CANNOT be used to complete the following sentence. Which one?

Mat and his friends are in the final year of the high school. All the students in Mat's class are very successful. They have never failed at school because they are all very _____.

- A. hardworking
- B. idle
- C. diligent
- D. energetic

35. Read the following sentences and then choose a sentence to complete the dialogue:

Bleron: I didn't expect to find you home. What are you going to do tonight?

Arta: I don't know yet. _____.

Bleron: To tea?

- A. One of my neighbours has invited me...
- B. One of my neighbours has pleased me...
- C. One of my neighbours has welcomed me...
- D. One of my neighbours has suggested me...

36. The sentence 'We have never been so happy in our lives.' is in the _____.

- A. Present simple tense
- B. Present continuous tense
- C. Present perfect tense
- D. Present perfect continuous tense

37. In the following dialogue:

Bertha: I went to visit a friend of mine who lives in Leeds.

Maggie: Oh, really? Where is Leeds _____?

from the following words:

- 1. situated
- 2. built
- 3. found
- 4. repositioned

Maggie should say, 'situated' because _____.

- A. this is the place where they are building the city.
- B. this is the place where the city is located geographically.
- C. this is the exact place where you find the situation and place.
- D. this is where they have found the city and placed it again.

38. Choose the correct answer to complete the sentence:

Didn't you know that _____ cannot be bought in the library?

- A. books
- B. the books
- C. those books
- D. some books

39. Look at the following nouns. One of them does not exist. Which one?

- A. punishment
- B. parliament
- C. agreement
- D. recoverment

40. Choose the best way to join the following sentences:

They greeted a teenage girl like a hero.

She saved a drowning child's life.

- A. They greeted a teenage girl like a hero after she saved a drowning child's life.
- B. They greeted a teenage girl like a hero but she saved a drowning child's life.
- C. They greeted a teenage girl like a hero and she saved a drowning child's life.
- D. They greeted a teenage girl like a hero so she saved a drowning child's life.

41. Choose the correct sentence:

- A. I don't although in miracles believe, his recovery seems to defy the medical explanations.
- B. Although I don't believe in miracles, his recovery seems to confront the medical explanations.
- C. I don't believe in miracles although, his recovery to defy seems the medical explanations.
- D. I don't in miracles believe, his recovery although seems to defy the medical explanations.

42. Look at the words in the box:

offered – a – Kate – graduated – immediately – place - from - she - University – after - was

The correct combination to form a sentence is:

- A. Kate a place was offered after she from University immediately graduated.
- B. Kate after she immediately graduated was offered a place from University.
- C. Kate was offered a place immediately after she graduated from University.
- D. Kate after a place was offered from University immediately she graduated.

43. Which word is different?

- A. clinic
- B. hospital
- C. sanatorium
- D. hotel

44. Choose the correct word to complete the following sentences:

They decided to put that on _____ last minute.

I didn't know that his illness was at such an advanced _____.

- A. phase
- B. drama
- C. stage
- D. act

45. Which word below does NOT rhyme with the word **straight?**

- A. great
- B. night
- C. eight
- D. late

46. In the string of words: **water, milk, packet, petrol, money, the word **packet** is different because _____.**

- A. it is a countable noun
- B. it consists of six letters
- C. it consists of five sounds
- D. it is an uncountable noun

47. Read the paragraph carefully:

Cotton has been grown for over five thousand years in places so far apart as Mexico, China, Egypt, and India. It was a great luxury, more expensive than silk, because so many workers were needed to pick it. However, a huge increase in the number of slaves in the American South resulted in much greater cotton production and a fall of price. This, and new technology of the industrial revolution, made cotton the cheapest fabric in history.

Look at the highlighted part of the text and complete the following sentence:

The author _____.

- A. is sure that cotton was grown for five thousand years.
- B. is speculating about the origin of growing cotton.
- C. is certain about the history of growing cotton.
- D. knows when exactly the cotton cultivation began.

48. When you see this sign, you instantly know that _____.

- A. you are always allowed to park your car in the area.
- B. it's OK to park, it is not a strict 'No Parking' area.
- C. your car will be towed away if you park in the area.
- D. your parked car will be transported for free in this area.



49. Many people in the world celebrate one day in the year as a special day for that particular person. It is not related to the days of the week. It is related to a date in a month and is celebrated every year. On this day, a person may give a party, friends may bring presents, and everybody is happy. This day is known as _____.

- A. birthday
- B. mother's day
- C. father's day
- D. wedding day

50. Read the following paragraph:

Eileen works in a bank. She always goes to work by car. She drives for four kilometres to and from work every day. However, this is not all. After work she takes the children from school, which is three kilometres away from her working place. Then, together with them she goes to visit her mother to make sure that she is fine and doesn't need anything. That is additional five kilometres. On their way back home, they pass by the school and the bank. The distance Eileen travels **to work** is shorter from that **back home** for _____.

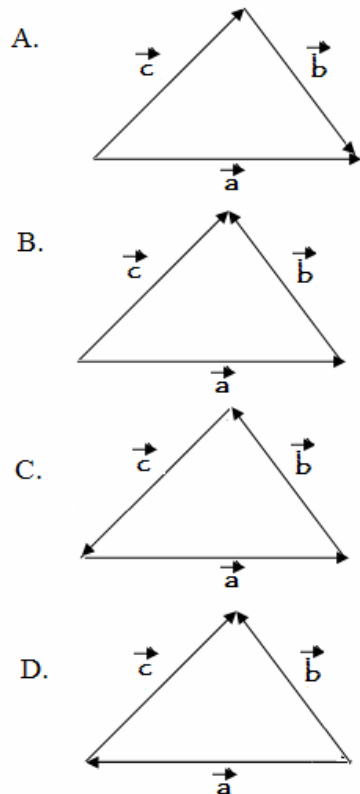
- A. three kilometres
- B. four kilometres
- C. five kilometres
- D. eight kilometres

MATEMATIKË

51. Pas thjeshtimit shprehja $\left(\frac{x^2 + 2ax}{x + 2a}\right) : \left(\frac{x^2 + x}{x^2 - 1}\right)$ ka formën:

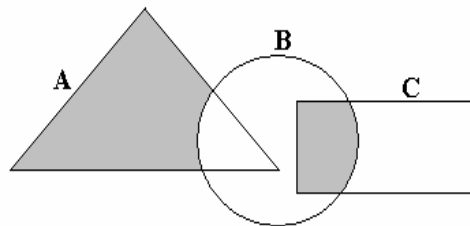
- A. $x - 1$
- B. $x + 1$
- C. $\frac{1}{x - 1}$
- D. $\frac{1}{x + 1}$

52. Cila nga figurat e mëposhtme paraqet shumën $\vec{a} + \vec{b}$?



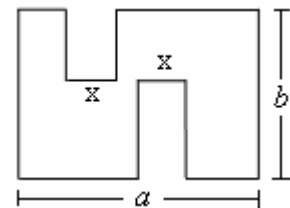
53. Cila nga shprehjet vijuese i përgjigjet pjesës së hijezuar në diagram?

- A. $A \setminus (B \cup C)$
- B. $(A \setminus B) \cap (B \cap C)$
- C. $(A \setminus B) \cup (B \cap C)$
- D. $B \setminus (A \cup C)$



54. Cila nga shprehjet vijuese paraqet perimetrin e figurës?

- A. $4a + 2b$
- B. $2a + b + 2x$
- C. $a + 2b + 2x$
- D. $2a + 4b$

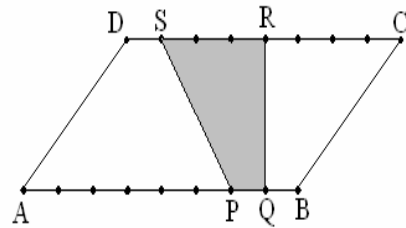


55. Cilat janë zgjidhjet e ekuacionit: $(3x-1)^2 - 9 = 0$?

- A. $x_1 = -\frac{2}{3}, x_2 = \frac{4}{3}$
- B. $x_1 = \frac{2}{3}, x_2 = -\frac{4}{3}$
- C. $x_1 = -\frac{2}{3}, x_2 = -\frac{4}{3}$
- D. $x_1 = \frac{2}{3}, x_2 = \frac{4}{3}$

56. Është dhënë paralelogrami ABCD syprina e të cilit është $S = 32 \text{ cm}^2$ dhe brinja $[AB] = 8 \text{ cm}$. Sa është syprina e trapezit PQRS të ndërtuar brenda paralelogramit?

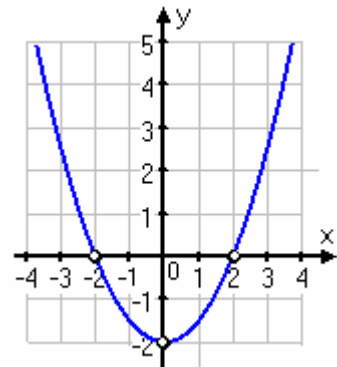
- A. $S = 4 \text{ cm}^2$
- B. $S = 6 \text{ cm}^2$
- C. $S = 8 \text{ cm}^2$
- D. $S = 10 \text{ cm}^2$



57. Është dhënë grafiku i funksionit $y = f(x)$. Sa është vlera:

$$3f(-2) + 2 \cdot f(0) - f(2)?$$

- A. -2
- B. -4
- C. -6
- D. -8

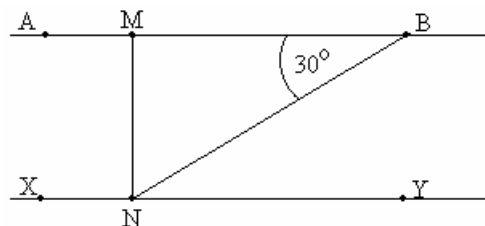


58. Le të jetë syprina e një kubi $S = 54 \text{ cm}^2$. Në qoftë se tehu i kubit rritet për 1 cm , atëherë për sa cm^2 rritet syprina e tij?

- A. 38 cm^2
- B. 40 cm^2
- C. 42 cm^2
- D. 44 cm^2

59. Në figurën e dhënë $\overline{AB} \parallel \overline{XY}$, $\overline{MN} \perp \overline{XY}$, $\angle(NB, MB) = 30^\circ$ dhe $\overline{NB} = 10 \text{ cm}$. Sa është gjatësia e segmentit \overline{MN} ?

- A. 5
- B. 7
- C. $5\sqrt{2}$
- D. $7\sqrt{2}$



60. Janë dhënë gjykimet:

$$p: |-2| = 2$$

$$q: \frac{2}{3} + \frac{5}{4} = \frac{2+5}{3+4} = \frac{7}{7} = 1$$

$$r: \text{Zgjidhja e sistemit } \left. \begin{array}{l} x + y = 2 \\ x - y = 0 \end{array} \right\} \text{ është } x = 2, y = 0.$$

Cili nga pohimet është i saktë:

- A. Gjykimet q dhe r janë të saktë.
- B. Të tre gjykimet janë të saktë.
- C. Vetëm gjykimi q është i saktë.
- D. Vetëm gjykimi p është i saktë.

61. Me cilën nga shprehjet vijuese është e barabartë shprehja $(3x^{-1})^3 \cdot x^2$?

- A. $27x^{-1}$
- B. $9x^{-3}$
- C. $\frac{9}{x^3}$
- D. $\frac{27}{x^3}$

62. Mesi aritmetik i numrave : 2, 6, 8, 11, x , 7 është i barabartë me 7. Sa është mesi aritmetik i numrave : 6, 7, x , 3?

- A. 5
- B. 6
- C. 7
- D. 8

63. Është dhënë numri kompleks $z = 2 + i$ (ku $i = \sqrt{-1}$). Sa është vlera e shprehjes $w = z^2 - 2z + 1$?

- A. $w = 4 + i$
- B. $w = 4 - i$
- C. $w = 2$
- D. $w = 2i$

64. Hedhen dy zare, me numrat 1 deri në 6 të shënuar në faqet e tyre. Ngjarje elementare janë 36. Sa është gjasa që shuma e numrave të rënë nga hedhja e dy zareve është 4?

- A. $P(A) = \frac{1}{6}$
- B. $P(A) = \frac{1}{9}$
- C. $P(A) = \frac{1}{12}$
- D. $P(A) = \frac{1}{16}$

65. Për numrat a dhe b vlen: $a \cdot b = 1$ dhe a është më i madh se 0.

Cili nga pohimet vijuese është i saktë ?

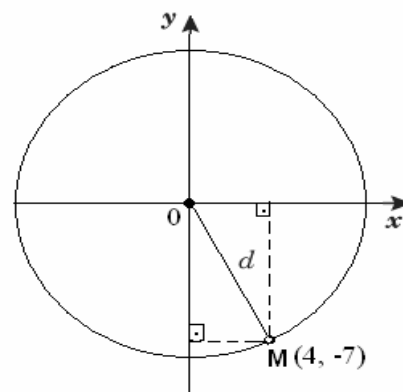
- A. Me rritjen e a , zvogëlohet b .
- B. Me rritjen e a , rritet b .
- C. Kur a është më i madh se 1, b është negativ.
- D. Kur a është më i madh se 1, b është më i madh se 1.

66. Në sa mënyra mund të ulen 7 persona në 4 ulëse?

- A. 28
- B. 35
- C. 38
- D. 45

67. Cili nga numrat e mëposhtëm është më afër gjatësisë $d = \overline{OM}$, ku $O(0,0)$ dhe $M(4,-7)$ (shih figurën)?

- A. 4
- B. 7
- C. 8
- D. 11



68. Në qoftë se n është numër i plotë, cili barazim i përgjigjet fjalisë: “Ndryshimi i katrorit të një numri tek me katrorin e paraardhësit tek të tij është 88”.

- A. $(n+1)^2 - (2n-1)^2 = 88$
- B. $(2n+1)^2 - 88(n-1)^2 = 0$
- C. $(n+1)^2 - 88(n-1)^2 = 0$
- D. $(2n+1)^2 - (2n-1)^2 = 88$

69. Numri i katrorëve në tabelën e mëposhtme është përcaktuar hap pas hapi sipas një rregulle.

Hapat	katrorët	nr
Hapi 1	<input type="checkbox"/> <input type="checkbox"/>	2
Hapi 2	<input type="checkbox"/> <input type="checkbox"/> <input type="checkbox"/> <input type="checkbox"/> <input type="checkbox"/> <input type="checkbox"/>	6
Hapi 3	<input type="checkbox"/> <input type="checkbox"/> <input type="checkbox"/> <input type="checkbox"/> <input type="checkbox"/> <input type="checkbox"/> <input type="checkbox"/> <input type="checkbox"/> <input type="checkbox"/> <input type="checkbox"/> <input type="checkbox"/> <input type="checkbox"/>	12
Hapi 4	<input type="checkbox"/> <input type="checkbox"/> <input type="checkbox"/> <input type="checkbox"/> <input type="checkbox"/> <input type="checkbox"/> <input type="checkbox"/> <input type="checkbox"/> <input type="checkbox"/> <input type="checkbox"/> <input type="checkbox"/> <input type="checkbox"/> <input type="checkbox"/> <input type="checkbox"/> <input type="checkbox"/> <input type="checkbox"/> <input type="checkbox"/> <input type="checkbox"/> <input type="checkbox"/>	20
...
Hapi n		

Cila shprehje përcakton numrin e katrorëve në hapin e n -të ?

- A. $n^2 + n$
- B. $2n^2$
- C. $4n - 2$
- D. $5n - 3$

70. Janë dhënë vlerat e funksioneve trigonometrike: $a = \tan 55^\circ$, $b = \cot 55^\circ$, $c = \cot 52^\circ$ dhe $d = \tan 61^\circ$. Cili nga inekuacionet e dhëna është i saktë?

- A. $a < c < d < b$
- B. $b < c < a < d$
- C. $c < a < d < b$
- D. $c < b < d < a$

INFORMATIKË

71. Opsioni i zgjedhur në figurë mundëson:

- A. Fillimin e prezantimit
- B. Mbylljen e prezantimit
- C. Përgaditjen e prezantimeve
- D. Përgatitjen e nën prezantimeve

72. Kush e mundëson monitorin që të operoj me rezolucione të ndryshme grafike?

- A. Audio kartela
- B. Video kartela
- C. Kartela e rrjetit
- D. Kartela e memories

73. Cila nga keto protokole mundëson **web service**?

- A. TCP
- B. UDP
- C. HTTP
- D. FTP

74. Çfarë prapashtese kanë faqet e Internetit ?

- A. .xls
- B. .doc
- C. .gif
- D. .html

75. Cila nga njësitë e dhëna është njësi përbërëse e Mikroprocesorit (CPU-së)?

- A. Regjistrat
- B. Kartela grafike
- C. Ram memoria
- D. Pllaka amë

76. Në bazë të të dhënave në figurë çfarë vlere do të fitohet në qelmin B1?

- A. 0
- B. 10
- C. 12
- D. 15

	A	B	C	D	E
1		=MAX(C4: D8)			
2					
3	15				
4			10		
5				12	
6					
7					
8					


77. Në figurë është treguar:

- A. Tastiera
- B. Skeneri
- C. Printeri
- D. Kartela e zërit



- 78.** Çfarë domethënie ka aplikacioni i tipit **Shareware**:
- A. Mund të përdoret pa pagesë dhe të modifikohet
 - B. Nuk mund të përdoret pa pagesë
 - C. Mund të përdoret pa pagesë për periudha të pakufizuara
 - D. Mund të përdoret pa pagesë për periudha të kufizuara

- 79.** Cila është paisje dalëse ?
- A. monitori
 - B. modemi
 - C. mikrofoni
 - D. tastjera

- 80.** Veglat vijuese të programit **MS Access**  , përdoren për :
- A. Fshirjen e shënimeve
 - B. Filtrimin e shënimeve
 - C. Sortimin e shënimeve
 - D. Kopjimin e shënimeve

HISTORI

- 81.** Tuma ishte forma më karakteristike e varrimit te:
- A. Ilirët
 - B. Grekët
 - C. Thrakët
 - D. Romakët
- 82.** Çka ndikoi në shkatërrimin e Egjiptit të vjetër?
- A. Vërshimet periodike të Lumit Nil
 - B. Sulmet e vazhdueshme të popujve fqinjë
 - C. Shpenzimet e mëdha për ndërtimin e Piramidave
 - D. Përqendrimi i pushtetit politik në duar të faraonit
- 83.** „Sulltan Abdyl Mexhidi ndërmori disa veprime që patën për qëllim forcimin e P.Osmane. Në nëntor të vitit 1839 ai shpalli Dekretin perandorak të njohur me emrin Dekreti i Shenjtë i Gjylhanës“

Në tekstin e dhënë bëhet fjalë për:

- A. reformat që i takojnë periudhës së Luftërave ruso-turke
- B. reformat që i takojnë periudhës së Luftërave austro-turke
- C. reformat që i takojnë periudhës së Revolucionit Xhon Turk
- D. reformat që i takojnë periudhës së Tanzimatit

- 84.** Çfarë kanë të përbashkët regjimet diktatoriale në Amerikën Latine dhe vendet komuniste?
- Mosrespektimin e të drejtës për tu bërë president i vendit dhe respektimin e votës së lirë
 - Mosrespektimin e të drejtës për të udhëtuar jashtë vendit dhe e drejta për tu shkolluar
 - Mosrespektimin e të drejtave elementare të popullsisë së vendit dhe ndalimin e votës së lirë
 - Mosrespektimin e të drejtës për të shprehur vullnetin e lirë në zgjedhje dhe e drejta për të udhëtuar jashtë vendit
- 85.** Detyra e Këshillit të Sigurimit të OKB-së është që t'i zbatojë ligjet që kanë të bëjnë me:
- sigurimin e dominimit politik në botë të anëtarëve të Këshillit të Sigurimit
 - ruajtjen e paqes dhe sigurisë në botë
 - ruajtjen e balansit në mes shteteve të zhvilluara dhe atyre të pazhvilluara
 - sigurimin e dominimit politik e ushtarak të SHBA-ve në botë
- 86.** Cilat ishin shkaqet e islamizimit të popullsisë shqiptare në kohën e Perandorisë Osmane ?
- Mungesa e një kishe të vetme kombëtare, si dhe mosmarrëveshjet ndërmjet kishës katolike dhe asaj ortodokse
 - Mungesa e një kishe unike katolike, si dhe mosmarrëveshjet ndërmjet kishës katolike dhe kishës ortodokse shqiptare
 - Islamizimi i popullsisë shqiptare ishte si kundërpërgjigjeje, ndaj pretendimeve territoriale të fqinjëve
 - Islamizimi i popullsisë shqiptare ishte si kundërpërgjigjeje, ndaj presionit fetar të Vatikanit
- 87.** Cilat ishin ngjashmëritë në politikën e brendshme të Teodor Ruzveltit dhe të Stalinit?
- Nacionalizimi i shkollave, spitaleve private dhe sigurimi i obliguar shëndetësor
 - Shtetëzimi i hekurudhave, bankave, fermave bujqësore dhe minierave
 - Shtetëzimi i fabrikave, bankave, fermave bujqësore dhe shpallja e jashtëligjshme e pronës private
 - Sigurimi i pagës minimale të punëtorëve, ngritja e nivelit të jetesës dhe masave të tjera me karakter social
- 88.** Prusia ishte shtyllë që mundësoi bashkimin e Gjermanisë më 1871. Cilët ishin faktorët që sollën deri tek ky bashkim?
- Krijimi i aleancës me Austrinë dhe Francën
 - Krijimi i aleancës me Francën dhe Italinë
 - Uniteti i brendshëm i Prusisë, përmbyjsja e pushtetit të mbretërve të vegjël dhe mposhtja e Austrisë
 - Uniteti i brendshëm i Prusisë, përmbyjsja e pushtetit të mbretërve të vegjël dhe mposhtja e Italisë
- 89.** Lindja e Islamit te fiset arabe ndikoi në :
- dobësimin e unitetit politik të fiseve arabe
 - forcimin e unitetit politik të fiseve arabe
 - fillimin e luftërave në mes të krishterëve dhe arabëve
 - fillimin e luftërave në mes të Mekës dhe Jerusalemit

90. Janë dhënë pohimet

- I. Përkrahja e Shtetit të Papës dhënë Skënderbeut ishte diplomatike dhe materiale
- II. Përkrahja e Venedikut dhënë Skënderbeut ishte diplomatike dhe ushtarake
- III. Përkrahja e Bizantit dhënë Skënderbeut ishte diplomatike dhe fetare

Cila nga pohimet është e saktë?

- A. Vetem I
- B. Vetëm II
- C. Vetëm III
- D. I, II dhe III

GJEOGRAFI

91. Si quhen format akumulative ku lumi me zvogëlimin e pjerrësisë gjatë rrjedhës së tij humb forcën dhe bëhet shtresëzimi i materialit?

- A. Stalaktite
- B. Stalagmite
- C. Delta
- D. Klife

92. Kroacia ka sipërfaqe prej 56.542km² dhe 4.5 milionë banorë. Sa është dendësia e popullsisë b/km²?

- A. 49
- B. 79
- C. 105
- D. 155

93. Nëse niveli i ujit në liqen është më i lartë se i oqeanit botëror, por fundi i tij gjendet nën të quhet:

- A. baticë
- B. zbaticë
- C. depresion
- D. kriptodepresion

94. Cilët lumenj i takojnë ujëmbledhësit të Detit të Zi?

- A. Ibri, Drenica, Sitnica, Llapi, Morava e Binçës, Kriva Reka
- B. Drenica, Morava e Binçës, Nerodimia, Llapi, Lepenci
- C. Sitnica, Ibri, Mirusha, Ereniku, Lepenci, Llapi
- D. Llapi, Mirusha, Nerodima, Sitnica, Drenica, Kriva Reka

95. Janë dhëne pohimet:

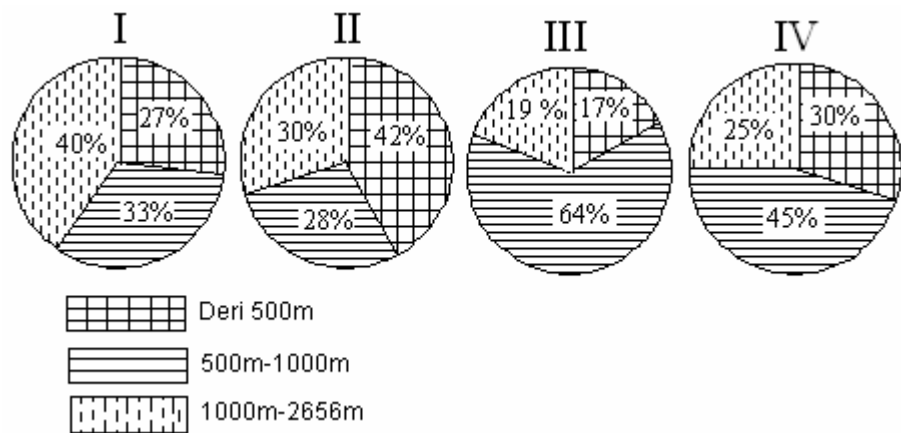
- I. Ultësira e Shkodrës shtrihet në pjesën jugore të ultësirës perëndimore të Shqipërisë, nëpër të rrjedh lumi Buna
- II. Fusha e Myzeqesë shtrihet nga Shkëmbi i Kavajes në veri, deri në afërsi të Vlorës në jug, nëpër të rrjedh lumi Drin
- III. Fusha e Elbasanit shtrihet në rrjedhën e mesme të lumit Shkumbin, ka klimë të ndryshuar mesdhetare

Cila nga pohimet është e saktë?

- A. Vetëm I
- B. Vetëm II
- C. Vetëm III
- D. I, II dhe III

96. Cili nga grafikonet paraqet shtrirjen e tipave të relievit sipas lartësisë mbidetare në Kosovë?

- A. I
- B. II
- C. III
- D. IV



97. Savanat janë:

- A. sipërfaqe të mbuluara me barë të lartë në viset tropike
- B. sipërfaqe të mbuluara me barë të ulët në viset e mesme kontinentale
- C. sipërfaqe me vegjetacion të vobektë e të shkurtër me myshqe
- D. sipërfaqe e madhe me pyje të pishave në Siberi

98. Në hartën e dhëne me shkallë të vogël është paraqitur Amerika Jugore.

Në cilin grup të hartave bënë pjesë?

- A. Plane
- B. Hidrologjike
- C. Topografike
- D. Gjeografike



99. Cila fushë është paraqitur e hijezuar në hartë?

- A. Pollogut
- B. Panonisë
- C. Vllahisë
- D. Selanikut



100. Varësisht prej pjesëmarrjes së popullsisë së re, të mesme dhe moshuar, dallohen tri tipe kryesore të popullsisë(progresiv, stacionar dhe regresiv).

Çka e karakterizon tipin progresiv?

- A. Pjesëmarrja pak më e ulët e popullsisë së re, më shumë popullsi e mesme dhe me shtim natyror mjaft të ulët
- B. Pjesëmarrja e lartë e popullsisë së re (0-14 dhe 0-19 vjet) dhe shtimi i lartë natyror
- C. Pjesëmarrja e ulët e fëmijëve dhe e moshës së re, pjesëmarrja e lartë e popullsisë së mesme dhe të moshuar dhe shtimi shumë i ulët natyror
- D. Pjesëmarrja e ulët e popullsisë së re (0-14 dhe 0-19 vjet) dhe me shumë popullsi të mesme