



REPUBLIKA E KOSOVËS  
REPUBLIKA KOSOVO  
REPUBLIC OF KOSOVA

QEVERIA E KOSOVËS - VLADA KOSOVA - GOVERNMENT OF KOSOVA

MINISTRIA E ARSIMIT E  
SHKENCËS DHE E TEKNOLOGJISË  
KQSHM


MINISTARSTVO OBRAZOVANJA  
NAUKE I TEHNOLOGIJE

MINISTRY OF EDUCATION  
SCIENCE & TECHNOLOGY  
DVSM

# *TESTI I MATURËS*

## **ARSIMI PROFESIONAL III**

(ADMINISTRATË, EKONOMI, ADMINISTRIM BIZNESI,  
HOTELERI, TURIZËM)



Prishtinë, qershor 2010

Emri dhe mbiemri i nxënësit .....

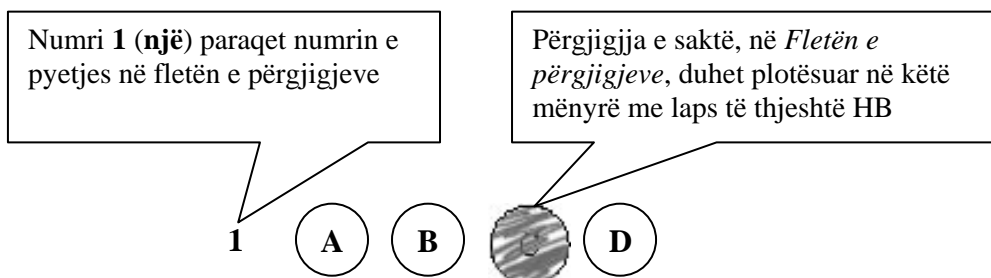
Shkolla.....

### Udhëzime:

**Koha:** Keni 180 minuta që t'u përgjigjeni 100 kërkesave (pyetjeve). Koha numërohet prej momentit kur do të filloni t'i zgjidhni kërkesat.

### Si të veproni?

1. Plotësojini me kujdes, sipas udhëzimeve, të gjitha kodet (në rreth), për: komunën, shkollën, paralelen, numrin e ditarit. Nëse këto të dhëna nuk i plotësoni saktë, nuk do të mund të nxirret rezultati i testit tuaj.
2. Para se të filloni t'u përgjigjeni pyetjeve, qetësohuni plotësisht, sepse kjo do t'ju ndihmojë.
3. Lexojini me kujdes kërkesat dhe pastaj shënojeni vetëm përgjigjen e saktë, nga 4 mundësitë e dhëna, për të cilën besoni se është e saktë.
4. Fleta e përgjigjeve duhet të plotësohet vetëm me laps të thjeshtë - laps HB.
5. Mbusheni kodin (në rreth) e përgjigjes së saktë me laps të thjeshtë, pa e shkarravitur jashtë. Shih shembullin e mëposhtëm.



6. Kini kujdes që përgjigjen e saktë të një pyetjeje të mos ia vendosni pyetjes tjetër të radhës.
7. Në Fletën e përgjigjeve nuk bën të shkruani tjetër gjë, përveç përgjigjeve për të cilat jeni të bindur se janë të sakta.
8. Përgjigjet e sakta plotësohen njëkohësisht – në Test dhe në Fletën e përgjigjeve.
9. Çdo lloj llogaritjeje mund ta bëni në faqen e fundit të testit, ndërsa në fletën e përgjigjeve nuk bën të shkruani tjetër gjë, përveç përgjigjeve, për të cilat jeni të bindur se janë të sakta.
10. Mos humbni kohë me pyetjet që nuk i dini, sepse koha mund të mos ju mjaftojë për pyetjet e tjera.
11. Përdoreni deri në fund kohën e testimit, në mënyrë që t'u përgjigjeni të gjitha pyetjeve.

### Lexo fragmentin e dhënë më poshtë dhe përgjigjiu pyetjeve në vijim

"Nëpër këtë rrugë kam pasë ardhë nuse!", e theu dikur heshtjen tonë si të donte t'u jepte fund mendimeve tona që na rëndonin dhe na këputnin mbas secilit hap si këmbët si shpresat. Po zërin edhe atëherë nëna ime e kishte trishtues, edhe pse po fliste për dasmë.

Babai e shikoi si me habi.

"S'ma ka marrë mendja kurr se për herë të fundit e gjallë do të largohem nëpër të, për mos me u kthye kurr ma... Randë qenka me vdekë kështu! Ta marrim rrugën e humbjes e të dështimit...", foli idhtas.

Ndjeu një dobësim që ia futi të dy këmbët në dhe.

Gjyshja ia lëshoi një shikim të rreptë e qortues.

"Na qoftë rrugë e mbarë, nuse!" tha, po sikur të mos bindej as vetë për atë që e tha, ndërroi bisedën. "Qofshin burrat e...", po s'mundi të përfundojë.

(Nazmi Rrahmani, *Rruga e shtëpisë sime*)

1. Vendin, si zonë gjuhësore, ku ndodh ngjarja e përshkruar mund ta kuptojmë nga fjalia:
  - A. "Na qoftë rrugë e mbarë, nuse!"
  - B. "Randë qenka me vdekë kështu!"
  - C. Ndjeu një dobësim që ia futi të dy këmbët në dhe.
  - D. Gjyshja ia lëshoi një shikim të rreptë e qortues.
2. Në fragmentin e mësipërm, nëna flet për:
  - A. dasmën e dikurshme
  - B. vdekjen që u kanosej
  - C. braktisjen e vendit
  - D. dëbimin nga vendi
3. Folja në fjalinë: "*Babai e shikoi si me habi*", është në mënyrën:
  - A. dëshirore
  - B. habitore
  - C. dëftore
  - D. urdhërore
4. Në fjalinë: "*Gjyshja ia lëshoi një shikim të rreptë*", hasim mbiemrin në shkallën:
  - A. pohore
  - B. sipërore
  - C. krahasore të barazisë
  - D. krahasore të ultësisë

## Lexo tekstin e dhënë më poshtë dhe përgjigju pyetjeve në vijim

Neni 33

(1) Në qoftë se personi i njëjtë fajësohet për shumë vepra penale dhe për disa prej tyre është kompetente një gjykatë më e ulët, kurse për disa të tjera gjykata më e lartë, atëherë kompetente është gjykata më e lartë. Kur kompetente janë gjykatat e nivelit të njëjtë, kompetente është gjykata në të cilën së pari është ngritur aktakuza, ndërsa kur nuk është paraqitur aktakuzë, kompetente është gjykata të cilës së pari i është dorëzuar aktvendimi i vulosur i hetimeve

(2) Paragrafi 1 i këtij neni zbatohet, gjithashtu, për të caktuar se cila gjykatë është kompetente në rastin kur i dëmtuari njëkohësisht ka kryer vepër penale ndaj të pandehurit.

(Ligji i Procedurës Penale i Kosovës)

**5.** Fragmenti i mësipërm ka tipare diskursive të shkrimit:

- A. letrar
- B. gazetaresk
- C. kodifikues
- D. eseistik

**6.** Periudha e parë në paragrafin (1), të këtij fragmenti, në bazë të mjeteve lidhëse, është periudhë me marrëdhënie:

- A. lejore
- B. kushtore
- C. shkakore
- D. kundërshtore

## Lexo tekstin e dhënë më poshtë pastaj përgjigju pyetjeve

“Mbrojtja e Interit ishte “nyja gordiane” për ekipin tonë”, tha mbrëmë në Barcelonë trajneri i kuqekaltërve pas ndeshjes që ekipi i tij e fitoi me rezultat minimal kundër Interit, duke mos arritur të kalojë në finale. Kronikën që do ta dëgjoni në vazhdim e ka përgatitur gazetari ynë.

(Lajm i përshtatur)

**7.** Nëse faktet nga fragmenti më lart do t’i rendisnim duke iu përgjigjur kronologjikisht pyetjeve themelore: “kush, kur, ku, çka”, do të kishim fjalinë:

- A. Trajneri i kuqekaltërve mbrëmë në Barcelonë tha se...
- B. Trajneri i kuqekaltërve tha mbrëmë në Barcelonë se...
- C. Mbrëmë në Barcelonë, trajneri i kuqekaltërve tha se...
- D. Mbrëmë, trajneri i kuqekaltërve tha në Barcelonë se...

**8.** Fjala “nyja gordiane” e ka kuptimin:

- A. problem i pazgjidhshëm
- B. problem i zgjidhshëm
- C. problem i vështirë për t’u zgjidhur
- D. problem i lehtë për t’u zgjidhur

**9.** Në fjalinë: “Kronikën që do ta dëgjoni në vazhdim e ka përgatitur gazetari ynë”, e-ja është:

- A. njëj e përparme
- B. pjesëz
- C. lidhëz
- D. trajtë e shkurtër

### Lexo tekstin e dhënë më poshtë dhe përgjigju pyetjeve në vijim

Lum për tÿ, o i lumi Zot!  
Fort po shndritë njaj diell e pak po xe'!  
Ç'p'e merr frima rrapin e Jutbinës!  
Borë e madhe, qi paská rá,  
Rândojnë ahát për me u thye;  
Ki'n çetinát vetëm kreshtat:  
Ushtojnë lugjet prej ortiqesh,

**10.** Ky fragment është shkëputur nga:

- A. Kënga e Rinjohjes
- B. Këngët e Gjergj Elez Alisë
- C. Këngët e Kreshnikëve
- D. Kënga e Ago Ymer Agës

**11.** Vargje të tipit: "*Lum për tÿ, o i lumi Zot!*", ku kërkohet ndihma e fuqive mbinatyrore, hasen edhe te:

- A. Epi i Gilgameshit
- B. Odiseja e Homerit
- C. Rubaitë e Khajamit
- D. Antigona e Sofokliut

**12.** Krijimet popullore, pjesë e të cilave është ky fragment, **nuk** shquhen për:

- A. ritmin e rregullt
- B. metrikën e rregullt
- C. figurat stilistike
- D. mbështetjen në fakte

### Lexo tekstin e dhënë më poshtë pastaj përgjigju pyetjeve

Ky autor lindi në fshatin Gur i Bardhë të Matit, më 1566. Shkollimin e parë e bëri në vend si autodidakt. Mësimet e larta i kreu në Kolegjin Ilirian të Loretos (Itali). Në moshën 21 vjeçare e shugurua prift dhe shërbeu në Kosovë e Maqedoni. Më 1599 u emërua vikar i përgjithshëm i Serbisë, ku qëndroi 17 vjet. Më 1616 shkoi në Romë, ku ndejti më 1621. Atje pos shtypjes së librave kreu edhe veprimtari të tjera rreth kryengritjes ballkanike kundër Turqisë dhe që pelegrin në Galici. Nga fundi i qëndrimit në Romë, ky autor u emërua ipeshkv i Zadrimës (1621). Në këtë detyrë ishte deri në dhjetor të vitit 1622, kur e mbytn duke e kaluar lumin Drin.

**13.** Mbështetur në të dhënat e mësipërme biografike që jep ky tekst për njërin nga autorët e Letërsisë së vjetër shqipe, bëhet fjalë për:

- A. Pjetër Budin
- B. Pjetër Bogdanin
- C. Frang Bardhin
- D. Marin Barletin

**Në poezinë XVI të veprës “Doktrina e Kërshtenë” të Pjetër Budit, janë vargjet:**

*Tashti të lus, ndritmë mua,  
Zoti im me një rrezë  
.....  
Sqip të mundënj me rrëfyem  
Ndonjë kankë të ré*

- 14.** Në këta dy distikë del frymëzimi krijues autorial i lidhur për tre elementë, që janë përcaktues edhe të programit poetik të këtij autori:
- A. tokësor, universal dhe idilik
  - B. fetar, atdhetar dhe individual
  - C. qiellor, adhurues dhe ëndërrimtar
  - D. imagjinar, dashuror dhe i ndjeshëm
- 15.** Këta dy distikë japin natyrën poetike të poezisë:
- A. elegjiake
  - B. përshkruese
  - C. refleksive
  - D. satirike
- 16.** Cilat nga vargjet e poemës: “Këngët e Milosaos” të Jeronim de Radës, shprehin njërin nga format e paradoksit:
- A. *Bota kish ndërruar lisa  
uji i ri në det*
  - B. *Duro, zemër duro, e duro  
sa duroi mali me borë*
  - C. *Thomni ju, të dashurit  
m’ëmbël ë të puthurit*
  - D. *Nesër ajo, në kët’ orë,  
Ulet në shtratin tim*

### Lexo tekstin e dhënë më poshtë dhe përgjigju pyetjeve në vijim

Unë nuk pretendoj të jem e zonja të mësoj diplomatin, gjeografin apo arkeologun. Qëllimi im është shumë më modest. Unë dëshiroj t'i jap lexuesit vetëm një ide më të drejtë për gjendjen e ngjarjeve në Gadishullin e Ballkanit nga ajo që ai zotëron zakonisht.

Njerëz të këtyre racave të tjera më janë lutur t'i tregoj të gjitha ato që kam parë e dëgjuar, për të kujtuar publikun britanik se, ka edhe popuj të tjerë veç bullgarëve që duhet t'u merren parasysh interesat, dhe për të theksuar që të hollat që jepen nga njerëz bujarë me qëllim, ashtu si mendohet për të ndihmuar Krishterimin, ka të ngjarë që t'i japë shkak Partisë Bullgare që të mendojë se ajo ka mbështetjen e Anglisë dhe për ta inkurajuar atë të shkaktojë dhuna të reja kundër të krishterëve të tjerë.

Kurse njerëz të tjerë më janë lutur që të mos i tregoj ato që kam parë e dëgjuar.

Është e pamundur t'i kënaqësh të gjithë. Mungesa e vendit ku do të mund të punoja natyrisht më pengon që të jap hollësitë e këtij udhëtimi tim të gjashtë, në Gadishullin Ballkanik, por jam munduar që të bëj një përshkrim të thjeshtë të fakteve kryesore. Sukseset që munda të arrij, ua detyroj kryesisht miqësisë së atyre që më ndihmuan gjatë udhëtimeve të mia.

Gabimet janë të gjitha të miat.

(Edith Durham: "Brenga e ballkanasve")

17. Cila fjali e jep më së miri qëllimin e veprës së kësaj autoreje?
- A. Njerëz të këtyre racave të tjera më janë lutur t'i tregoj të gjitha ato që kam parë
  - B. Mungesa e vendit natyrisht më pengon që të jap hollësitë e këtij udhëtimi.
  - C. Ka edhe popuj të tjerë veç bullgarëve që duhet t'u merren parasysh interesat.
  - D. Dëshiroj t'i jap lexuesit vetëm një ide më të drejtë për gjendjen e ngjarjeve
18. Autorja, në fragmentin e këtij teksti, përqendrohet kryesisht te problemi i:
- A. konfliktit midis populli bullgar dhe popujve të tjerë
  - B. mbështetjes së Anglisë ndaj interesave të bullgarëve
  - C. paanësisë gjatë paraqitjes së dëshmive dhe ngjarjeve
  - D. të hollave që jepen nga njerëz për të ndihmuar Krishterimin

### Lexo tekstin e dhënë më poshtë dhe përgjigju pyetjeve në vijim

**Afërdita** - Hyjnesha e dashurisë, e bukurisë, dhe e pjellorisë te grekët e vjetër. Thuhej se ishte e bija e Zeusit ose, ndryshe, se kishte lindur nga shkuma e detit. I shoqi ishte Hefesti, por ajo kishte edhe të dashur të tjerë, si ndër perënditë (më i njohuri Aresi), ashtu edhe ndër njerëzit e vdekshëm (më i njohuri Adonisi).

19. Ky tekst identifikohet si pjesë e fjalorit:
- A. enciklopedik
  - B. filologjik
  - C. të gjuhës letrare
  - D. të fjalëve të huaja
20. Cila nga veprat, **nuk** është vepër e autorit të cilit i referohet?
- A. Azem Shkreli: "Nga bibla e heshtjes"
  - B. Ismail Kadare: "Net shqiptare"
  - C. Nazmi Rrahmani: "Malsorja"
  - D. Dritëro Agolli: "Shkëlqimi dhe rënia e shokut Zylo"

## ENGLISH LANGUAGE

**21.** Jenna gave a birthday party last night. We all had great fun although we knew it was not her birthday because she was born on 13/06/1992. Jenna was born on\_\_\_\_\_.

- A. the thirteenth of June, nineteen ninety-two
- B. thirteen of the June, nineteen ninety-two
- C. thirteenth of June, nineteen ninety-two
- D. June thirteenth, of nineteen ninety-two

**22.** Lana, Roger, Debbie, and Steven all attend the same school. They spend a lot of time together. They have many things in common. However, this summer they have decided to plan their summer holidays on their own. They will go hitchhiking in Europe.

Look at the table below and choose the correct answer:

	<b>LANA</b>	<b>ROGER</b>	<b>DEBBIE</b>	<b>STEVEN</b>
<b>2<sup>nd</sup> part of June</b>	Austria	Belgium	Switzerland	France
<b>July</b>	Germany	France	Austria	Belgium
<b>August</b>	France	Germany	France	Switzerland
<b>1<sup>st</sup> part of September</b>	Switzerland	Austria	France	Germany

- A. All of them will visit different countries during the same months.
- B. None of them will be in the same country during the same month.
- C. Lana will visit three countries during the summer.
- D. Two of them will visit the same country during the same month.

**23.**

- 1. Yes, I've walked a lot and now I'm tired and hungry.
- 2. What is on the menu? Let me see...
- 3. I don't understand this. Let's ask the waiter for advice.
- 4. Have you had a good afternoon, Susan?
- 5. I am too. What shall we have?

The correct order of sentences to form a dialogue is \_\_\_\_\_.

- A. 1 2 5 4 3
- B. 2 1 4 5 3
- C. 4 1 5 2 3
- D. 4 3 5 2 1

**24. ONLY ONE of the words below CANNOT be used to complete the following sentence. Which one?**

Look! They're coming! Can't you see them? Jane is the \_\_\_\_\_ girl wearing a white hat.

- A. tall
- B. high
- C. smart
- D. elegant



**25. Read the following sentences and then choose a sentence to complete the dialogue:**

**Ben:** This is an Identikit picture of Brian Smith. Look for him at airports and seaports.

**Diana:** What has he done? Why is he wanted?

**Ben:** He's a pickpocket, \_\_\_\_\_

- A. he steals money, credit cards, passports...
- B. he robs banks and cash-points.
- C. he breaks into houses.
- D. he kidnaps children.

**26. In the following dialogue:**

**Rowena:** Prince Charles will be in Oxford tomorrow and meet the mayor of Oxford.

**Tim:** Who told you that? Let's go and \_\_\_\_\_ him?

from the following words:

- 1. salute
- 2. lecture
- 3. meet
- 4. chat with

Tim should say, '**salute**' because \_\_\_\_\_.

- A. this is what we do when we meet our friends.
- B. this is what people usually do when they meet a prince.
- C. this is how you show your respect to an important personality.
- D. it is not unusual for us to meet the members of the royal family.

**27. Choose the correct answer to complete the sentence:**

He always wants to give \_\_\_\_\_ to people around him.

- A. advise
- B. advice
- C. advises
- D. advices

**28. The sentence 'I have been reading for ages.' is in the \_\_\_\_\_.**

- A. Present simple tense
- B. Present perfect tense
- C. Present continuous tense
- D. Present perfect continuous tense

**29. Look at the following verbs. One of them DOES NOT exist. Which one?**

- A. analyze
- B. carelize
- C. stabilize
- D. harmonize

**30. Choose the best way to join the following sentences:**

They want to be happy.

Understanding what makes people happy is essential.

- A. They want to be happy so understanding what makes them happy is essential.
- B. They want to be happy because understanding what makes them happy is essential.
- C. They want to be happy that understanding what makes them happy is essential.
- D. They want to be happy although understanding what makes them happy is essential.

**31. Choose the correct sentence:**

- A. We thought of him never as part of the family despite that the fact he was one of us.
- B. We never thought of him as part of the family despite the fact that he was one of us.
- C. We never thought of him as of the family part despite that the fact he was one of us.
- D. Despite we never thought of him as part of the family the fact that he was one of us.

**32. Look at the words in the box:**

asked – one – interviewer – for – the – of – opinion – workers - the – his

**The correct combination to form a sentence is:**

- A. The interviewer asked one of the workers for his opinion.
- B. The interviewer asked for his opinion one of the workers.
- C. The interviewer for his opinion asked one of the workers.
- D. For his opinion the interviewer asked one of the workers.

**33. Which word is different?**

- A. goal
- B. stadium
- C. ball
- D. scorer

**34. Choose the correct word to complete the following sentences:**

I could not \_\_\_\_\_ his questions easily.

They will \_\_\_\_\_ all that you ask.

- A. take
- B. choose
- C. answer
- D. respond

**35. Which word below does NOT rhyme with the word victorious?**

- A. furious
- B. dangerous
- C. curious
- D. luxurious

**36.** In the string of words: **carefully, amazingly, wonderfully, carelessly, encouragingly,** the word **carelessly** is different because \_\_\_\_\_.

- A. it is an adjective
- B. it is an adverb
- C. its meaning is positive
- D. its meaning is negative

**37.** Read the paragraph carefully:

**Western Australia is eight times the size of Britain, but it has only one million people. 900,000 of them live in and around the state capital, Perth. The other 100,000 people live in ‘the outback’, an area of 2,500,000 square kilometres.** The area is hot and dry. Temperatures are usually over 30<sup>0</sup>C in summer and sometimes 40<sup>0</sup>C. It hardly ever rains. Sheep farming is the main occupation, and the farms are called ‘sheep stations’ in Australia. The children can’t go to school, and they hardly ever see a teacher. They have lessons from a two-way radio. It’s called ‘The School of the Air’. The children can speak to the teacher and other children in the class by radio.

**Look at the highlighted part of the text and complete the following sentence:**

**The author** \_\_\_\_\_.

- A. knows exactly how big the area and population of Western Australia is.
- B. is speculating about the size of the area and population of Western Australia.
- C. is not certain about the size of the area and population of Western Australia.
- D. doesn’t know the exact size of the area of Western Australia.

**38.** The following sign means:

- A. taxis are not allowed to park here.
- B. you can find a taxi near here.
- C. the road is blocked for taxis.
- D. taxi transport is for free in this area.



**39.** In many countries people celebrate holidays of different kinds. This particular holiday is very much appreciated by children. On this occasion they wear masks and fancy costumes and go door to door saying ‘Trick or treat’. Below is the symbol of this holiday:

The holiday is called:

- A. Christmas
- B. Easter
- C. Halloween
- D. Thanksgiving



**40.** Read the following paragraph:

Dianna went shopping yesterday. She first went into a greengrocer’s. She bought a kilo of English apples. They cost £1.85. Then she took a kilo of French pears. They were £1.25. She also bought a kilo of English strawberries and half a kilo of Italian grapes. She paid £2.70 for these. She paid \_\_\_\_\_ altogether.

- A. five pounds and eighty pence
- B. six pounds and eighty pence
- C. four pounds and eighty pence
- D. three pounds and eighty pence

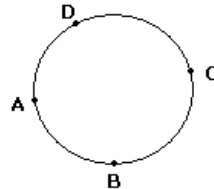
## MATEMATIKË

41. Cila nga barazitë vijuese është e saktë?

- A.  $a^2 : a^3 = a^{-1}$
- B.  $a^2 : a^3 = a^{2:3}$
- C.  $a^2 \cdot a^3 = a^{2 \cdot 3}$
- D.  $(a^2)^3 = a^{2+3}$

42. Në një rreth janë dhënë 4 pika të ndryshme. Sa trekëndësha mund të formohen me kulme në ato pika?

- A. 2
- B. 4
- C. 5
- D. 6



43. Cili nga gjykimet e dhëna është i saktë?

- A.  $p$ : Nëpër dy pika të dhëna kalojnë dy drejtëza të ndryshme.
- B.  $q$ : Çdo katërkëndësh ka dy boshte të simetrisë.
- C.  $r$ :  $\frac{a^2 - 1}{a + 1} = a - 1$ ,  $a \neq -1$
- D.  $s$ :  $\frac{2}{\frac{3}{5}} = \frac{3}{10}$

44. Zgjidhjet e ekuacionit kuadratik  $x^2 - 9 = 0$  janë:

- A.  $x_1 = -3$ ,  $x_2 = 0$
- B.  $x_1 = 0$ ,  $x_2 = 3$
- C.  $x_1 = -9$ ,  $x_2 = 9$
- D.  $x_1 = -3$ ,  $x_2 = 3$

45. Cila është zgjidhja e ekuacionit  $\sqrt{x-1} = 2$ ?

- A.  $x = 1$
- B.  $x = 3$
- C.  $x = 5$
- D.  $x = 7$

46. Është dhënë funksioni  $y = \frac{a}{x}$ . Cili funksion do të fitohet nëse pika  $P(-2, 3)$  i takon grafikut të funksionit të dhënë?

- A.  $y = -\frac{6}{x}$
- B.  $y = -\frac{2}{x}$
- C.  $y = -\frac{4}{x}$
- D.  $y = -\frac{8}{x}$

**47.** Cila është prerja e bashkësive  $A = [1, 6]$  dhe  $B = [3, 8]$  ?

- A.  $A \cap B = [1, 3]$
- B.  $A \cap B = [3, 8]$
- C.  $A \cap B = [3, 6]$
- D.  $A \cap B = [6, 8]$

**48.** Janë dhënë funksionet:  $f(x) = x^2 - 4$  dhe  $g(x) = -\frac{x}{2} - 1$ .

Sa është  $f(-2) + g(0)$  ?

- A. 0
- B. -1
- C. -2
- D. -4

**49.** Sa është 5% e numrit 20 ?

- A. 1
- B.  $\frac{1}{2}$
- C.  $\frac{1}{5}$
- D. 5

**50.** Shuma e tre numrave të njëpasnjëshëm është 126. Cili prej tyre është më i madhi?

- A. 37
- B. 39
- C. 43
- D. 47

**51.** Janë dhënë këndet  $\alpha = 90^\circ - x$  dhe  $\beta = 180^\circ - x$ . Sa është vlera e këndit  $x$  nëse  $\alpha + \beta = 130^\circ$  ?

- A.  $x = 60^\circ$
- B.  $x = 70^\circ$
- C.  $x = 80^\circ$
- D.  $x = 90^\circ$

**52.** Në cilin rast shprehja  $15 - 12 : 3 + 4 - [ -(-2 \cdot 4 + 1) ]$  është njehsuar saktë?

- A.  $15 - 12 : 3 + 4 - [ -(-2 \cdot 4 + 1) ] = 3 : 3 + 4 + 8 - 1 = 1 + 12 - 1 = 12$
- B.  $15 - 12 : 3 + 4 - [ -(-2 \cdot 4 + 1) ] = 15 - 4 + 4 - [ -8 - 1 ] = 15 - 9 = 6$
- C.  $15 - 12 : 3 + 4 - [ -(-2 \cdot 4 + 1) ] = 15 - 4 + 4 - [ 8 - 1 ] = 15 - 7 = 8$
- D.  $15 - 12 : 3 + 4 - [ -(-2 \cdot 4 + 1) ] = 3 + 4 + [ -8 + 1 ] = 7 + [ -7 ] = 7 - 7 = 0$

**53.** Është dhënë shprehja  $\sqrt{xy} = \frac{\sqrt{x}}{\sqrt{y}} - \frac{\sqrt{y}}{\sqrt{x}}$ ,  $x > 0, y > 0$ . Sa është vlera e  $y$ -it ?

- A.  $\frac{x}{x-1}$
- B.  $\frac{x}{x+1}$
- C.  $\frac{x-1}{x}$
- D.  $\frac{x+1}{x}$

**54.** Duke ditur se vlen barazia  $x^3 - y^3 = (x - y)(x^2 + xy + y^2)$ , tregoni se cila barazi është e saktë:

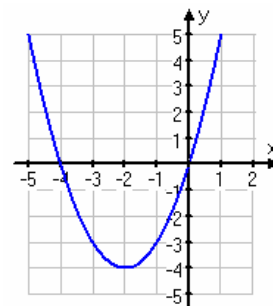
- A.  $x^3 - 8 = (x - 8)(x^2 + 8x + 64)$
- B.  $x^3 - 8 = (x - 2)(x^2 + 8x + 64)$
- C.  $x^3 - 8 = (x - 8)(x^2 + x + 8)$
- D.  $x^3 - 8 = (x - 2)(x^2 + 2x + 4)$

**55.** Shuma e dy numrave është 10, ndërsa shuma e katrorëve të tyre është 68. Cilët janë ata numra ?

- A.  $x_1 = 1, x_2 = 9$
- B.  $x_1 = 7, x_2 = 3$
- C.  $x_1 = 2, x_2 = 8$
- D.  $x_1 = 6, x_2 = 4$

**56.** Cili pohim është i saktë për funksionin  $y = x^2 + 4x$  ?

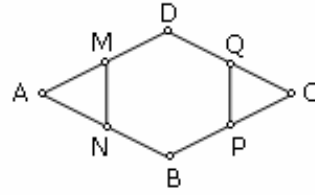
- A. Është funksion periodik .
- B. Ka minimum në pikën  $K(-2, -4)$ .
- C. Është pozitiv në intervalin  $x \in (-\infty, +\infty)$ .
- D. E pret boshtin Oy në dy pika.



**57.** Në një zarf gjendet numri  $x$ . Për cilin numër është fjala nëse mesatarja e numrave 3, 6,  $x$  është numri 10 ?

- A. 1
- B. 11
- C. 21
- D. 31

- 58.** Në figurën e dhënë është paraqitur paralelogrami ABCD dhe gjashtëkëndshi i rregullt MNBPQD te cili vlen  $[AM] = [MD]$  dhe  $[DQ] = [QC]$ . Sa është gjatësia e  $[AM]$ , nëse dihet se  $[DB] = 8 \text{ cm}$  ?



- A.  $2 \text{ cm}$
- B.  $3 \text{ cm}$
- C.  $4 \text{ cm}$
- D.  $5 \text{ cm}$

- 59.** Numri i kundërt i numrit  $a$ , ( $a \neq 0$ ) në lidhje me veprimin e shumëzimit është numri:

- A.  $-a$
- B.  $\frac{1}{a}$
- C.  $-\frac{1}{a}$
- D.  $+a$

- 60.** Është dhënë piramida e drejtë katërkëndore, baza e të cilës është drejtkëndsh me brinjët  $a = 16 \text{ cm}$ ,  $b = 12 \text{ cm}$  dhe lartësi  $H = 15 \text{ cm}$ . Sa është vëllimi i piramidës

(Vëllimi i piramidës njehsohet me formulën  $V = \frac{1}{3} B \cdot H$ ) ?

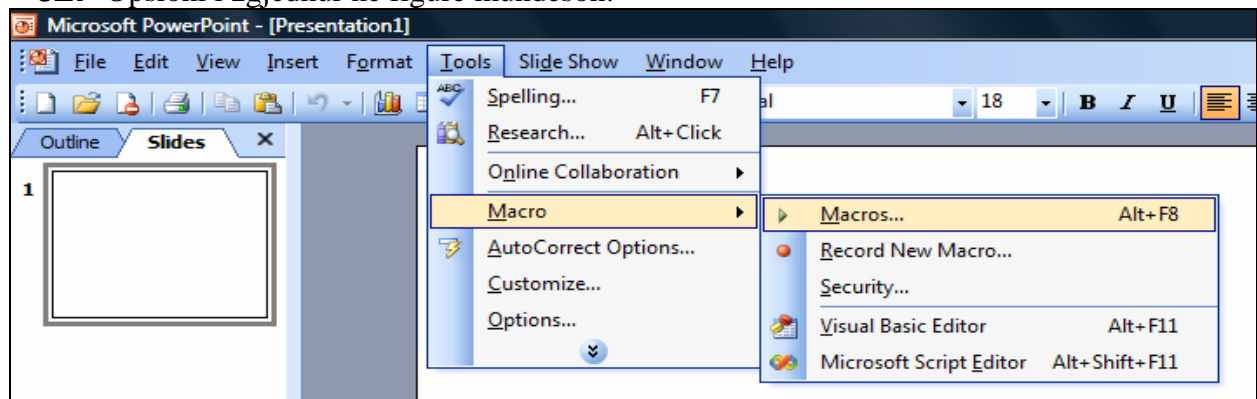
- A.  $V = 920 \text{ cm}^3$
- B.  $V = 940 \text{ cm}^3$
- C.  $V = 960 \text{ cm}^3$
- D.  $V = 980 \text{ cm}^3$

## INFORMATIKË

61. Shprehja **modulim** nënkupton:

- A. Gjenerimin e sinjalit burimor.
- B. Ndryshimin e vetive të sinjalit
- C. Rikthimin e vetive burimore të sinjalit.
- D. Transmetimin e sinjalit burimor.

62. Opsioni i zgjedhur në figurë mundëson:



- A. Ekzekutimin e një makro funksioni
- B. Fillimin e përgatitjes së një makro funksioni
- C. Fillimin e incizimit të një makro funksioni
- D. Fshirjen e një makro funksioni

63. Te sistemi i tipit **Client-server**, kompjuterët e lidhur në rrjetë kanë :

- A. Prioritet të njëjtë
- B. Programe të njëjta
- C. Prioritet të ndryshëm
- D. Programe të ndryshme

64. Mbrojtja nga qasja e paautorizuar në kompjuter, e njohur si **Firewall**:

- A. Nuk mund të sigurojë mbrojtje nga asnjë lloj i viruseve.
- B. Mund të mbrojtë kundër çdo lloj virusi.
- C. Mund të mbrojtë kundër viruseve që arrijnë me E-mail
- D. Nuk mund të mbrojtë kundër viruseve që arrijnë me E-mail

65. Opsioni Tasks i programit MS Outlook ka të bëjë me :

- A. Detyrat e pakryera
- B. Detyrat që duhet kryer
- C. Mbajtjen e adresave për kontakt
- D. Regjistrimin e angazhimeve të ndryshme sipas planifikimit



66. Cila nga prapashtesat e shënuara më poshtë, **nuk është** specifike e fajllave të tipit **image** (forografi) ?

- A. xls
- B. tif
- C. gif
- D. jpeg

67.

	A	B	C	D	E	F
1						
2				12		
3	17					
4		15				
5					=MIN(A3:C6)	
6			41			
7						
8						

Cila është vlera që do të fitohet në celulën E5, duke u bazuar në të dhënat në figurë?

- A. 12
- B. 15
- C. 17
- D. 41

68. Në figurë është treguar:

- A. Tastiera
- B. Monitori
- C. Kartela Grafike
- D. Njësia DVD-Rom



69. Sa bajt i ka një kilobajt:

- A. 1KB= 500 bajt
- B. 1KB= 1024 bajt
- C. 1KB= 1000 bajt
- D. 1KB= 2000 bajt

70. Çfarë domethënie ka shënimi “Times New Roman” në përpunimin e teksteve ?

- A. Madhësi e shkronjave
- B. Format i tabelës
- C. Hapësirë ndërmjet rreshtave
- D. Lloji i shkronjave

## EDUKATË QYTETARE

- 71.** Organizata ndërkombëtare që merret me strehimin e refugjatëve quhet:
- A. EULEX
  - B. UNHCR
  - C. Greenpeace International
  - D. Amnesty International
- 72.** Marrëdhëniet e individit me njerëz të tjerë dhe grupe njerëzish i trajton:
- A. Kodi civil
  - B. Kodi penal
  - C. Kodi zakonor
  - D. Kodi familjar
- 73.** Jetëgjatësia e qeverisë varet nga mbështetja e vazhdueshme e:
- A. grupeve parlamentare
  - B. kryetarit të parlamentit
  - C. shumicës parlamentare
  - D. pakicës parlamentare
- 74.** Me çfarë ligji do të duhej ta trajtonte rastin një gjykatës, kur personi A me qëllim i shkakton lëndime trupore personit B?
- A. Me ligjin penal
  - B. Me ligjin ndërkombëtar
  - C. Me kanunin e Lekë Dukagjinit
  - D. Me ligjin civil
- 75.** Presidenti i Kosovës mund të kontrollojë pushtetin e Parlamentit duke refuzuar të aprovojë një projektligj të kaluar prej tij. Ku është baza e veprimit të Presidentit?
- A. Në partinë e tij politike
  - B. Në autoritetin e tij personal
  - C. Në Parlamentin e Kosovës
  - D. Në kushtetutën e Kosovës
- 76.** Pse në shoqëritë demokratike parimisht qytetari voton për një parti të caktuar politike?
- A. Sepse e di me siguri se ajo parti politike do të fitojë zgjedhjet përkatëse
  - B. Sepse shpreson se partia që fiton do të marrë vendime në dobi të tij
  - C. Sepse i ka premtuar personalisht udhëheqësit të asaj partie se do t'ia japë votën
  - D. Sepse e njeh dikë nga ajo parti politike që i ka bërë disa favore dhe duhet t'ia kthejë borxhin

- 77.** Për mbrojtjen e mjedisit janë organizuar konferenca ndërkombëtare dhe janë nënshkruar marrëveshje e protokolle të ndryshme nga qeveritë e vendeve të industrializuara. Marrëveshja e Kyotos (Japoni) ka të bëjë me:
- A. reduktimin e gazrave të serrës
  - B. ruajtjen e biodiversitetit
  - C. pastrimin e ujërave të lumenjve, liqeneve dhe burimeve termale
  - D. pastrimin e deteve dhe oqeanëve nga ndotjet e shkaktuara prej naftës së derdhur
- 78.** Cili prej këtyre gjykimeve paraqet një “opinion publik”?
- A. Kur për vete deklaroj në media: “Unë jam njeri i mirë”
  - B. Kur e gjejmë të shkruar në një libër fizike “Toka është e rrumbullakët”
  - C. Kur e gjejmë të shkruar në një libër matematike “ $2+2=4$ ”
  - D. Kur mediet vazhdimisht theksojnë: “Kosova është e interesuar për integritet evropian”
- 79.** Globalizmi është një proces ekonomik-shoqëror i cili nënkupton:
- A. përhapjen e problemeve në të gjitha kontinentet
  - B. përhapjen e kulturës popullore në përmasa ndërkombëtare
  - C. lëvizjen e lirë të njerëzve, të ideve, të mallrave dhe shërbimeve
  - D. lëvizjen e kufizuar të njerëzve, por prodhimin e pakufishëm të mallrave
- 80.** Në qershor të vitit 1993 udhëheqësit e BE-së (Bashkimit Evropian) caktojnë kritere të qarta për vendet që duan të bëhen anëtarë të Bashkimit Evropian. Njëra prej atyre kritereve është që vendi duhet të ketë:
- A. institucione të pavarura që funksionojnë sipas vendimit të presidentit dhe mbrojnë të drejtat kombëtare
  - B. institucione të qëndrueshme që garantojnë shtetin ligjor, demokracinë, të drejtat e njeriut dhe mbrojtjen e minoriteteve
  - C. shoqëri të hapur me kufijë të menaxhuar sipas nevojës dhe me bashkëpunim ndërkombëtar në fushën e kulturës
  - D. shoqëri multikulturore dhe multietnike, por edhe të zhvilluar në planin ekonomik

## EKONOMI ME NDËRRMARRËSI

- 81.** Si quhet çmimi për shfrytëzimin e tokës?
- A. Divident
  - B. Interes
  - C. Rentë
  - D. Pagë
- 82.** Nëse norma e interesit e investimit është 20% dhe të ardhurat nga investimi pas një viti janë 1200 Euro, sa do të jetë vlera e tashme e këtij investimi?
- A. 1000
  - B. 1050
  - C. 950
  - D. 900
- 83.** Nga kush përcaktohet vlera e valutës në kursin fiks të këmbimit?
- A. Nga kërkesa dhe oferta
  - B. Nga ana e shtetit
  - C. Vetëm nga kërkesa
  - D. Vetëm nga oferta
- 84.** Nëse kostot variabile totale janë 1000 Euro dhe sasia e produkteve të prodhuara është 40 njësi, sa janë kostot variabile mesatare të produkteve të prodhuara?
- A. 25.00 €
  - B. 20.00 €
  - C. 37.50 €
  - D. 40.00 €
- 85.** Cili nga këto pozicione është pasuri korente e bilancit të gjendjes së ndërmarrjes?
- A. Llogaritë e pagueshme
  - B. Pagat e pagueshme
  - C. Llogaritë e arkëtueshme
  - D. Objektet e ndërmarrjes
- 86.** Te bizneset të cilat janë të organizuara në formë të korporatave, kush është përgjegjës për menaxhimin, qeverisjen e tyre?
- A. Aksionarët e korporatës
  - B. Sindikatat e punëtorëve
  - C. Punëtorët e korporatës
  - D. Bordet drejtuese të korporatës

**87.** Çka është karakteristik e ekonomisë së tregut?

- A. Dominimi i pronës private
- B. Dominimi i pronës shtetërore
- C. Prania e një shitësi në treg
- D. Prania e një blerësi në treg

**88.** Në kushtet e konkurrencës së plotë, çfarë ndodhë me çmimet në rastet kur oferta është më e madhe se sa kërkesa?

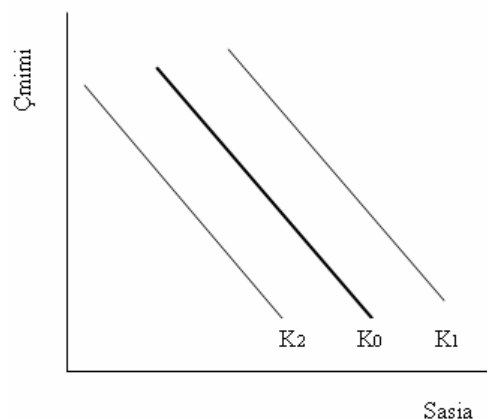
- A. Çmimet rriten
- B. Çmimet zvogëlohen
- C. Çmimet mbesin të njëjta
- D. Çmimet në fillim rriten e pastaj stagnojnë

**89.** Cilat nga këto tatime janë të drejtpërdrejta?

- A. Tatimi i vlerës së shtuar dhe tatimi në qira
- B. Doganat dhe tatimi i vlerës së shtuar
- C. Doganat dhe tatimet tjera në qarkullim
- D. Tatimi në fitim dhe tatimet në të ardhura personale

**90.** Çka ndodhë me kurben e kërkesës nëse numri i konsumatorëve rritet, mirëpo çmimet nuk ndryshojnë?

- A. Kurba e kërkesës zhvendoset në të djathtë nga  $K_0$  në  $K_1$
- B. Kurba e kërkesës zhvendoset në të majtë nga  $K_0$  në  $K_2$
- C. Kurba e kërkesës mbetet në pozicioni  $K_0$
- D. Kurba e kërkesës në fillim zhvendoset në  $K_2$  e pastaj kthehet në  $K_0$



**91.** Në piken më të lartë të ciklit të biznesit, bizneset punojnë me:

- A. kapacitete jo të plota dhe norma e papunësisë është e lartë
- B. kapacitete standarde, mirëpo indikatorët tjerë makroekonomik janë drejtë recesionit
- C. kapacitete të plota, ata që kërkojnë punë mund të gjejnë punë dhe ekonomia është në maksimumin e saj
- D. kapacitete minimale, ekonomia është në nivelin më të vogël të shfrytëzimit të kapaciteteve të saja

- 92.** Çfarë duhet ndërmarr Banka Qendrore në kuadër të politikës monetare për ta evituar rënien ekonomike të një vendi?
- Të ndaloj shtimin e kontributeve të qytetarëve
  - Ta rritë ofertën monetare të vendit, duke ringjallur ekonominë
  - Të rritë taksat dhe tatimet në mënyrë që të grumbulloj sa më shumë të hyra
  - Ta zvogëlojë ofertën monetare të vendit edhe më tutje
- 93.** Cili është dallimi ndërmjet inflacionit dhe deflacionit?
- Inflacioni tregon ngritjen e çmimeve kurse deflacioni rënien
  - Inflacioni tregon rënien e çmimeve kurse deflacioni ngritjen
  - Inflacioni tregon nivelin e zhvillimit ekonomik kurse deflacioni rënien
  - Inflacioni tregon ngritjen e vlerës së parasë kurse deflacioni rënien
- 94.** Çka ndodhë me normën e papunësisë në periudhat e reçesionit ekonomik?
- Norma e papunësisë zvogëlohet
  - Norma e papunësisë stagnon
  - Norma e papunësisë rritet
  - Norma e papunësisë në fillim zvogëlohet
- 95.** Cili është qëllimi i themelimit të GATT-it Marrëveshja e Përgjithshme mbi Tarifat dhe Tregtinë?
- Vendosja e instrumenteve të ndryshme doganore të cilat ndikojnë në pengimin e tregtisë ndërkombëtare
  - Vendosja e politikave të ndryshme të cilat lehtësojnë marrjen e kredive në vend dhe botën e jashtme
  - Caktimin e rregullave se si duhet të paraqiten bizneset në tregjet vendore
  - Krijimin e lehtësimeve në realizimin e tregtisë ndërkombëtare
- 96.** Cili është qëllimi i konsumatorëve në treg?
- Të blejë produkte me cilësi më të lart dhe çmime të volitshme
  - Të konsumojë sa më pak produkte pavarësisht çmimeve
  - Të shesë të gjitha produktet që disponon në treg
  - Të blejë sa më shumë produkte me çmime të larta
- 97.** Çka paraqesin kapacitetet optimale të ndërmarrjes?
- Shkallen e shfrytëzimit të kapaciteteve nga ndërmarrja pamvarsisht mundësive teknike
  - Shkallen e shfrytëzimit të kapaciteteve nga ndërmarrja në nivelin më të volitshëm (kënaqshëm)
  - Shkallën e shfrytëzimit të kapaciteteve nga ndërmarrja në nivelin minimal
  - Shkallen e shfrytëzimit të kapaciteteve nga ndërmarrja vetëm për të mbuluar shpenzimet

- 98.** Çka përmban pjesa e rezumesë në kuadër të planit të biznesit?
- A. Informata vetëm për numrin e punëtorëve
  - B. Të dhënat për gjendjen e përgjithshme financiare
  - C. Informatat të përmbledhura të cilësisë së prodhimit
  - D. Përmbledhjen e shkurtër të planit të biznesit
- 99.** Cili është qëllimi i themelimit të Shoqatës së Konsumatorëve?
- A. Mbrojtja e bizneseve të vendit në tregjet ndërkombëtare
  - B. Mbrojtja e të drejtave dhe interesave të bizneseve
  - C. Mbrojtja e të drejtave dhe interesave të konsumatorëve
  - D. Mbrojtja e të drejtave dhe interesave të bizneseve dhe OJQ-ve
- 100.** Me çfarë sistemi të udhëheqjes së ndërmarrjes kemi të bëjmë në këtë grafik?
- A. Sistem linjor të udhëheqjes
  - B. Sistem politik të udhëheqjes
  - C. Sistem të përzier të udhëheqjes
  - D. Sistem kufizues të udhëheqjes

