



REPUBLIKA E KOSOVËS
REPUBLIKA KOSOVO
REPUBLIC OF KOSOVA

QEVERIA E KOSOVËS - VLADA KOSOVA - GOVERNMENT OF KOSOVA


MINISTRIA E ARSIMIT E
SHKENCËS DHE E TEKNOLOGJISË
KQSHM

MINISTARSTVO OBRAZOVANJA
NAUKE I TEHNOLOGIJE

MINISTRY OF EDUCATION
SCIENCE & TECHNOLOGY
DVSM

TESTI I MATURËS

**ARSIMI
PROFESIONAL**



Prishtinë, gusht 2008

Emri dhe mbiemri i nxënësit

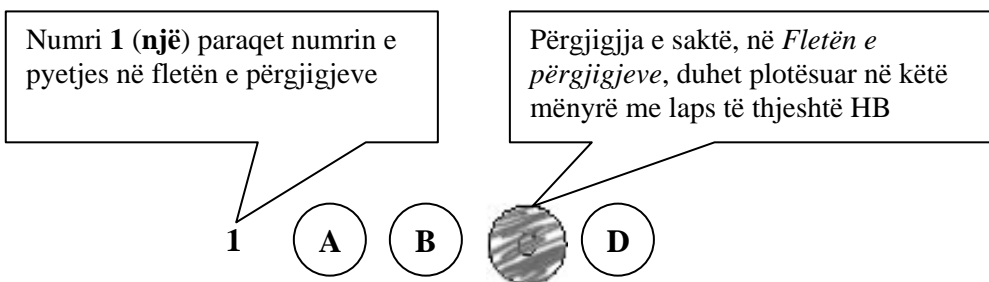
Shkolla.....

Udhëzime:

Koha: Keni 180 minuta që t'u përgjigjeni 100 kërkesave (pyetjeve). Koha numërohet prej momentit kur do të filloni t'i zgjidhni kërkesat.

Si të veproni?

1. Plotësojini me kujdes, sipas udhëzimeve, të gjitha kodet (në rreth), për: komunën, shkollën, paralelen, numrin e ditarit. Nëse këto të dhëna nuk i plotësoni saktë, nuk do të mund të nxirret rezultati i testit tuaj.
2. Para se të filloni t'u përgjigjeni pyetjeve, qetësohuni plotësisht, sepse kjo do t'ju ndihmojë.
3. Lexojini me kujdes kërkesat dhe pastaj shënojeni vetëm përgjigjen e saktë, nga 4 mundësitë e dhëna, për të cilën besoni se është e saktë.
4. Fleta e përgjigjeve duhet të plotësohet vetëm me laps të thjeshtë - laps HB.
5. Mbusheni kodin (në rreth) e përgjigjes së saktë me laps të thjeshtë, pa e shkarravitur jashtë. Shih shembullin e mëposhtëm.



6. Kini kujdes që përgjigjen e saktë të një pyetjeje të mos ia vendosni pyetjes tjetër të radhës.
7. Në Fletën e përgjigjeve nuk bën të shkruani tjetër gjë, përveç përgjigjeve për të cilat jeni të bindur se janë të sakta.
8. Përgjigjet e sakta plotësohen njëkohësisht – në Test dhe në Fletën e përgjigjeve.
9. Çdo lloj llogaritjeje mund ta bëni në faqen e fundit të testit, ndërsa në fletën e përgjigjeve nuk bën të shkruani tjetër gjë, përveç përgjigjeve, për të cilat jeni të bindur se janë të sakta.
10. Mos humbni kohë me pyetjet që nuk i dini, sepse koha mund të mos ju mjaftojë për pyetjet e tjera.
11. Përdoreni deri në fund kohën e testimit, në mënyrë që t'u përgjigjeni të gjitha pyetjeve.

Tregtar flamujsh**I**

-Posi... U ba Shqipnija. Dalin të marrët e vikasin: Rrnoftë Shqipnija! Ti i meçëm, përgjegje tue bërtitë në kupë të qiellës: Rrnoftë, po! e shpejt me porositë flamujt. Na shkyeju: rrnoftë! e ti shit, ban pare tue tregtue mbi ndiesit t'ona. Lojë e bukur, por s'të ka dalë...

II

Gaspër Tragaci lëshoi shtizën e u avit kërcnueshëm kah djali. Flamuri ra për tokë. Hilushi s'luejti vendit. Shikonte syt e ftohtë qi lëshojshin shkëndija idhnimi. Tregtari u ndal para tij.

-Mos me kenë hatri i mikses së moçme qi kam me shtëpen t'ande, dij un...

I riu i a priti:

Për hatër t'asaj miksjie tash qes bejta me t'u shit flamujt.

Me za qi dridhej prej pezmit, tjetri i a këthei:

-Po, zati ti s'din veç me qitë bejta. Jeto me prralla, bieru mbas andrrave. Më vjen keq për gjind të tuej se tash i qet në rrugë të madhe, më shka shof un. Hajt, hajt qit bejta e dueje Shqipnin: bejta e Shqipnija kanë me të qitë në dritë...

III

U afrue edhe ma tepër e pëshpëriti si në një fishkullimë:

-U shitne a s'u shitne flamujt, qëndroi a s'qëndroi Shqipnija, un kam mjaft, shyqyr, me jetue: a more vesht? e tash jashtë...

-Kadalë... – i a priti djaloshi me t'eger e syt i vetuen: dal vetë, s'asht nevoja me më qitë jashtë. Por edhe një fjalë due me t'a thanë e të lutem vire në vesh si at këshill qi më dhae par në dugajë. Ti thue se jeton, por rrehesh. Ti je shlye prej numrit të të gjallve qyshse je ndry në kët dugajë mbushë me mall. Ky asht vorri yt. E sa për Shqipni, po të siguroj un se ka me qindrue.

Ernest Koliqi

1. E folmja e narratorit në këtë fragment tregon se ngjarja ndodh më afër:

- A. Shkodrës
- B. Tiranës
- C. Elbasanit
- D. Prishtinës

2. Fjalja „e tash jashtë!” shpreh:

- A. dëshirë
- B. sugjerim
- C. urdhër
- D. çudi

3. Teksti i narratorit të jashtëm në këtë fragment argumentohet përmes:

- A. dialogut ndërmjet personazheve
- B. gjuhës së personazheve
- C. përshkrimit narrativ
- D. gjuhës së narratorit

4. Zëri i narratorit në këtë fragment del në fjalinë:
- Dalin të marrët e vikasin: Rrnoftë Shqipnija
 - U afrue edhe ma tepër e pëshpëriti si në një fishkullimë
 - Për hatër t'asaj miksije tash qes bejta me t'u shit flamujt
 - E sa për Shqipni po të siguroj un se ka me qindrue
5. Paragrafi i dytë shquhet për:
- cinizëm
 - simbolikë
 - sarkazëm
 - retorikë
6. Informata themelore e fragmentit përmbledhet në fjalinë:
- Dalin të marrët e vikasin: Rrnoftë Shqipnija!
 - Na shkyeju: rrnoftë! e ti shit, ban pare tue tregtue mbi ndiesit t'ona
 - Po, zati ti s'din veç me qitë bejta. Jeto me pralla, bieru mbas andrrave
 - Për hatër t'asaj miksije tash qes bejta me t'u shit flamujt
7. Personazhi i drejtohet tjetrit: „*Ti thue se jeton po rrelesh*”, sepse :
- jeton fshehurazi
 - jeton me gënjeshtër
 - vrapon pas fitimit
 - vrapon pas iluzioneve
8. Lidhëza „*por*”, në fjalinë: „*Por, edhe një fjalë due me t'a thanë e të lutem vire në vesh si atë këshill qi më dhae par në dugajë*”, mund të zëvendësohet me lidhëzën:
- prandaj
 - andaj
 - ndërsa
 - mirëpo
9. Fjalja: „*Me za qi dridhej prej pezmit, tjetri i a këthei*” në shqipen standarde bën:
- Me za qi dridhej prej pezmit, tjetri ia kthei
 - Me za që dridhej prej pezmit, tjetri ia këtheu
 - Me zë që dridhej nga pezmi, tjetri ia ktheu
 - Me zë qi dridhej nga pezmi, tjetri ia këthei
10. Frazja „*vire në vesh* “ në paragrafin e tretë do të thotë:
- vare në vesh
 - dëgjoje mirë
 - mbaje mend
 - kuptoje drejt
11. Në fjalinë: „*Shikonte syt e ftoftë qi lëshojshin shkëndija idhnimi*”, figura e paradoksit ndërtohet ndërmjet gjymtyrëve:
- sytë dhe idhnimi
 - ftoftë dhe shkëndija
 - shikonte dhe lëshojshin
 - idhnimi dhe ftoftë

12. Optimizmi dhe atdhedashuria shprehen në fjalinë:

- A. U shitne a s'u shitne flamujt, qëndroi a s'qëndroi Shqipnija , un kam mjaft, shyqyr, me jetue
- B. Ti i meçëm, përgjegje tue bërtitë në kupë të qiellës: Rrnoftë, po! e shpejt me porositë flamujt
- C. E sa për Shqipni, po të siguroj un se ka me qindrue
- D. Bejttat e Shqipnija kanë me të qitë në dritë...

13. Forma „u avit” në paragrafin e dytë është folje në diatezën:

- A. veprore
- B. pësore
- C. vetvetore
- D. mesore

Lexo me kujdes poezinë e mëposhtme dhe përgjigju pyetjeve!

ME JETUE

Erdhe në jetë
Nuk ka më nevojë për kuje lutje
Kryesorja të jetosh
Këtë gur ta hedhësh më lart se Unë

Prandaj

Sa më pak shikoje veten në pasqyrë
Dhe kurrë mos mendo: i pari
Ai që ka ekzistuar para teje jam unë
Ai që do të kujdeset për ditët e mia të mbrema
Për ëndrrat e mia e qetësinë je Ti
Me pleh kurrë mos u pajto: Nxirre në gjysmë
të natës
në pikë të vapës
asgjë mos rrit, asgjë mos krijo me dhunë
rast i humbur nuk je edhe pse pylli
Dendësohet
Mund ta kalosh natën në Kullën time të vetmuar
Në botë
Dhe si të duash Ti Lumi
Kryesorja: Jetën ta jetosh pa e vrarë
Dhe pa të mbetur në këmbë ndonjë therrë
E saj e zezë
Bashkudhëtari im
Ta provojmë vetveten derisa të kemi frymë.

Ali Podrimja

14. Motivi i kësaj poezie është:

- A. erotik dhe meditativ
- B. patriotik dhe filozofik
- C. social dhe përshkrues
- D. meditativ dhe personal

- 15.** Si formë poezia e dhënë mbështetet në:
- A. varg të rimuar
 - B. varg të bardhë
 - C. varg të dyzuar
 - D. varg të lirë
- 16.** Vargu: „*Nuk ka më nevojë për kuje lutje*” mund të interpretohet si:
- A. besim në jetë
 - B. nxitje për jetën
 - C. zhgënjim nga jeta
 - D. lutje për jetën
- 17.** Përfillja e këshillës së vargut: „*Sa më pak shikoje veten në pasqyrë
Dhe kurrë mos mendo: i pari*”
pengon formimin e një personaliteti:
- A. narcisoid
 - B. injorant
 - C. të ndërgjegjshëm
 - D. të papërgjegjshëm
- 18.** Folja modale haset në vargun:
- A. Mund ta kalosh natën në Kullën time të vetmuar
 - B. Me pleh kurrë mos u pajto, nxirre në gjysmë të natës
 - C. Ta provojmë vetveten derisa të kemi frymë
 - D. Dhe pa të mbetur në këmbë ndonjë therrë
- 19.** Lidhëza „*derisa*” në vargun: „*Ta provojmë vetveten derisa të kemi frymë*”, mund të zëvendësohet me lidhëzën:
- A. mbasi
 - B. teksa
 - C. përderisa
 - D. qëkurse
- 20.** Gradacioni zbritës hetohet në vargjet:
- A. Ai që do të kujdeset për ditët e mia të mbrama je Ti
 - B. Asgjë mos rrit, asgjë mos krijë me dhunë
 - C. Sa më pak shikoje veten në pasqyrë
 - D. Ta provojmë vetveten derisa të kemi frymë
- 21.** Theksi logjik në vargun: „*Nuk ka nevojë më për kuje e lutje*” bie në fjalën apo togfjalëshin:
- A. nuk ka nevojë
 - B. më
 - C. për kuje
 - D. e lutje

22. Folja urdhërore „*mos rrit*” në mënyrën dëshirore, veta e tretë njëjës, diateza joveprore, bën:

- A. mos u rritsh
- B. mos rritsh
- C. mos u rrittë
- D. mos rritshin

Lexo me kujdes paragrafin e mëposhtëm dhe përgjigju pyetjeve!

Problematiciteti shqiptar

Problemi ose Problematiciteti shqiptar... - Kemi trashëguar, thonë, një të shkuar kaotike; po kalojmë, thonë, një të tanishme kaotike: e ardhmja paraqitet si një zero matematike: „*Shiko të shpëtosh kokën tënde!*” - Këtë këngë vajtuese të këndojnë sot Pleq e të Rinj, dogmatikë e liberalë. Të ditur, të paditur, të gjithë njerëzit këtu brenda, i ka zënë një dobësi mistike, një lodhje morale dhe materiale. Dhe, si një rrjedhje e natyrshme e gjithë kësaj gjendjeje, një egoizëm vetjak, materialist, i lidhur ngusht me indiferencën, mërinë, ligësinë, dinakërinë më të përçmuar tejprtej!. – Simptoma më tipike dhe me klasike të dekompozimit. Simptoma të dekadencës, që paraqitin popujt në mbrëmjen e historisë së tyre...

Ku gjendemi?

Branko Merxhani

23. Forma e shkrimit si në fragmentin e dhënë më lart është tipike për:

- A. kritikën
- B. poezinë
- C. prozën
- D. esenë

24. Diskursi i përdorur në këtë fragment është:

- A. letrar - shkencor
- B. eseistik - politik
- C. letrar - artistik
- D. gazetaresk - politik

25. Në tekstin e dhënë, cilat janë simptomat e „*dekadencës, që paraqitin popujt në mbrëmjen e historisë së tyre...*”?

- A. e shkuara kaotike, e tanishmja kaotike, e ardhmja si zero matematike
- B. të gjithë njerëzit, pleq e të rinj, këndojnë të njëjtën këngë vajtuese
- C. të gjithë njerëzit, si dogmatikët dhe liberalët i ka zënë një dobësi mistike
- D. egoizmi vetjak, materializmi, indiferenca, mëria, ligësia, dinakëria

26. Titulli më i përshtatshëm për këtë tekst do të ishte:

- A. rrëmuja shqiptare
- B. prishja morale
- C. politika shqiptare
- D. mbrëmja e historisë

- 27.** Sinonimi i fjalës „*egoist*” në shqip është:
- A. i pacipë
 - B. i pagdhendur
 - C. vetjak
 - D. keqbërës
- 28.** Fraza: „*Shiko të shpëtoç, kokën t'ënde!*” në kuptim jo të figurshëm bën:
- A. përpiqu të shpëtosh vetveten
 - B. shiko të shpëtosh kokën
 - C. shiko të shpëtosh vetveten
 - D. përpiqu ta shpëtosh kokën
- 29.** Në strukturë të rregullt, sindetike të periudhës: „*Kemi trashëguar, thonë, një të shkuar kaotike; po kalojmë, thonë, një të tashme kaotike, e ardhmja na paraqitet si një zero matematike*” fitohet:
- A. periudhë me fjali të varur shkakore
 - B. periudhë me fjali të varur lejore
 - C. periudhë me fjali të varur kohore
 - D. periudhë me fjali e varur vendore
- 30.** Pas Kongresit të Drejtshkrimit, gjuha jostandarde mund të përdoret në:
- A. shkresa administrative
 - B. punime shkencore
 - C. shkrime letrare
 - D. relacione zyrtare

ENGLISH LANGUAGE

31. Tom owns Jack a large amount of money. Jack says he owns him exactly 11,875 Euros. Tom owns Jack _____.

- A. eleven thousand and eight hundred and seventy-five Euros
- B. eleven thousand and eight hundred seventy-five Euros
- C. eleven thousand, eight hundred and seventy-five Euros
- D. eleven thousand, eight hundred, seventy-five Euros

32. Samantha, John and Ricky are students. They have had six examinations so far. Below is the table with their examination scores taken from students' examination records.

Read the table carefully and choose the correct answer:

EXAMS	SAMANTHA	JOHN	RICKY
ENGLISH	10	9	6
LITERATURE	7	8	9
SPANISH	8	8	7
ARTS	9	10	6
MEDIA & COMMUNICATIONS	6	9	10
GENDER STUDIES	10	8	9
Average grade	8.33	8.66	7.83

- A. Ricky is as good as John in literature.
- B. John's got the highest score in arts.
- C. Samantha isn't the best student in English.
- D. Ricky's score in literature isn't the highest.

33. Read this text and then choose a sentence to complete the paragraph:

It was a cold winter evening and we were driving through the forest on an icy road. Suddenly the car stopped and we couldn't go on. We left the car on the road and decided to walk. We soon saw a house in the forest. We knew someone must be in since _____.

- A. the smoke was coming from the chimney
- B. everything was very quiet and peaceful
- C. we couldn't see anyone around
- D. there were no lights on in it

34. Choose the correct answer to complete the question:

I didn't sleep all night long. The wind blew and I felt very _____.

- A. uncomfortably
- B. uncomfortable
- C. much comfortable
- D. non-comfortable

35. Choose a word to complete the following sentence:

I wanted to give a big party at a restaurant in the outskirts of the city. The manager told me that he had to _____ additional staff if I wanted to have a real successful party.

- A. beg
- B. invite
- C. ask
- D. hire

36. Look at the following nouns. One of them DOES NOT exist. Which one?

- A. organization
- B. celebration
- C. realation
- D. collation

37. Choose the correct sentence:

- A. I had expected to find him at home as usual.
- B. I expected to had find him at home as usual.
- C. I had expected to find him as usual at home.
- D. I expected to had find him as usual at home.

38. Look at the words in the box and choose which sentence below is correct:

presents – could – the – see – not – children – wait – to - their

- A. The presents could not wait to see their children.
- B. The children not could wait to see their presents.
- C. The children could not wait to see their presents.
- D. The children could not see to wait their presents.

39. In this group of words three words have similar meaning except one.

Choose one word that is NOT similar to other three.

- A. receive
- B. give
- C. take
- D. accept

40. You go into a shop and you are not sure whether you want to buy something or not. If the shop assistant asks you, 'Can I help you?' from the following expressions:

1. I'm just browsing.
2. I'm just surfing.
3. I'm just viewing.
4. I'm just shop-lifting.

you should say '**I'm just browsing**' because _____.

- A. you are just checking
- B. you are just observing
- C. you are just bargaining
- D. you are just looking

41. The word **float** does **NOT** rhyme with only one of these words. Which one?

- A. antidote
- B. toast
- C. taught
- D. remote

42. In the string of words: **badly, lovely, smoothly, roughly, brilliantly**, the word **lovely** is different because _____.

- A. it is an adverb
- B. it is an adjective
- C. it ends in 'ly'
- D. it begins in 'l'

43. Read the paragraph carefully:

The big challenge facing scientists trying to rid mankind of the misery of common flu is finding a drug that can combat the huge and ever-changing variety of cold viruses. Researchers are looking for features that all such viruses share. **Whichever drug company comes up with something is guaranteed to make a fortune.**

Look at the highlighted text and complete the following sentence:

The author _____.

- A. is positive that the company will make a lot of money
- B. supposes the company will make a lot of money
- C. thinks that the company will make a lot of money
- D. hopes that the company will make a lot of money

44. Read the following sentences carefully:

1. I believe this is what life-long learning is about.
2. However, he always said he learnt a lot from us, the youngsters.
3. Always calm and understanding, he served as a mentor to many of us.
4. My grandfather was a really remarkable person.
5. We never made big decisions without having turned to him.

The correct order of sentences to form a paragraph is _____.

- A. 1 4 5 3 2
- B. 4 5 3 1 2
- C. 4 3 5 2 1
- D. 5 4 2 1 3

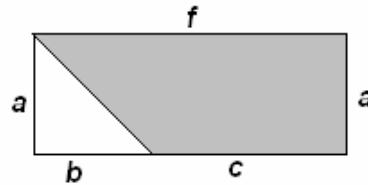
45. There are only two countries in the world in which drivers drive on the left side of the road. One of these countries is Japan, whereas the other is _____.

- A. Portugal
- B. South Africa
- C. Gambia
- D. Great Britain

MATEMATIKË

46. Është dhënë figura. Cila nga shprehjet vijuese paraqet syprinën e pjesës së hijezuar të figurës?

- A. $af - \frac{1}{2}ab$
- B. $ab + \frac{1}{2}ac$
- C. $\frac{1}{2}(af + ab)$
- D. $\frac{1}{2}(af - ab)$



47. Një trup është hedhur nga lartësia prej 250 m. Gjatë sekondës së parë ai zbrit për 15 m, gjatë sekondës së dytë 25 m, gjatë sekondës së tretë 35 m e kështu me radhë. Kur do të bjerë trupi në tokë?

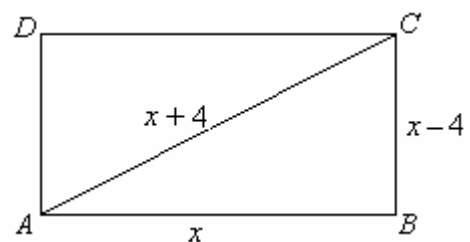
- A. për më pak se 6 sek.
- B. ndërmjet sekondës së 6 dhe 7
- C. ndërmjet sekondës 7 dhe 8
- D. pas sekondës së 8

48. Cila është pikë e përbashkët e funksioneve $y = x^2 - x$ dhe $y = 1 - x$?

- A. (0, 0)
- B. (0, 1)
- C. (1, 0)
- D. (1, 1)

49. Është katërkëndëshi ABCD. Cili ekuacion kuadratik përcakton vlerën e x -it, sipas të dhënave në figurë ?

- A. $x^2 + 16x = 0$
- B. $x^2 - 16x = 0$
- C. $x^2 - 20x + 16 = 0$
- D. $x^2 + 20x + 16 = 0$



50. Në qoftë se vlen: $a^2 - b^2 = 117$ dhe $a + b = 3$, atëherë sa është vlera e shprehje $a - b$?

- A. 31
- B. 33
- C. 36
- D. 39

51. Sa është vlera shprehjes numerike komplekse: $A = (\sqrt{1-i})^4$, ku $i^2 = -1$?

- A. $A = -2i$
- B. $A = 1 - 2i$
- C. $A = 1$
- D. $A = -i$

52. Në një bufe ndodhen 50 mysafirë, prej të cilëve 32 pinë kafe, 24 pinë ujë, kurse 12 pinë edhe kafe edhe ujë. Sa prej tyre nuk pinë as kafe e as ujë ?

- A. 0
- B. 1
- C. 6
- D. 8

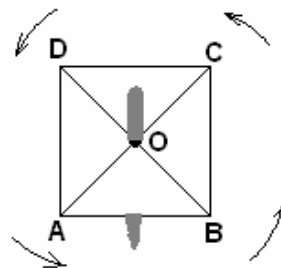
53. Në një kompani janë tri grupe punëtorësh që marrin të ardhura sipas kualifikimeve, siç është paraqitur në tabelë. Sa janë, përafërsisht, të ardhurat mesatare ?

- A. 260 €
- B. 262.85 €
- C. 263.95 €
- D. 263 €

Grupi	Numri i punëtorëve	Të ardhurat
I	20	240€
II	10	280 €
II	5	320€

54. Është dhënë katrori ABCD (shih figurën) i cili rrotullohet për 450° me qendrën e rrotullimit në pikën e prerjes së diagonaleve të tij. Cili përkëmbim i përgjigjet këtij rrotullimi ?

- A. $f \begin{pmatrix} A & B & C & D \\ B & C & D & A \end{pmatrix}$
- B. $f \begin{pmatrix} A & B & C & D \\ C & D & A & B \end{pmatrix}$
- C. $f \begin{pmatrix} A & B & C & D \\ D & A & B & C \end{pmatrix}$
- D. $f \begin{pmatrix} A & B & C & D \\ A & B & C & D \end{pmatrix}$



55. Cila shprehje numerike i përgjigjet fjalisë:

“Prodhimi i shumës së numrave 0.6 dhe 0.4 me diferencën e tyre, i rritur për 0.64” ?

- A. 0.82
- B. 0.84
- C. 1.12
- D. 1.14

56. Me cilën shprehje është ekuivalente shprehja $(\sqrt{3} \cdot 2^{-1})^{-2}$?

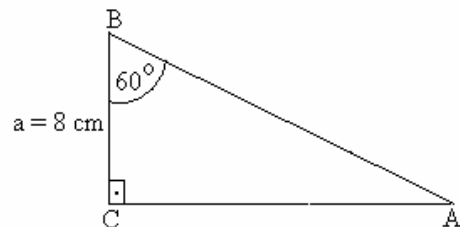
- A. $\frac{2}{3}$
- B. $\frac{3}{2}$
- C. $\frac{3}{4}$
- D. $\frac{4}{3}$

57. Në qoftë se $\log_2 x = 3$ dhe $\log_3 y = 4$, atëherë sa është vlera e $\frac{y}{x}$?

- A. $\frac{81}{8}$
- B. $\frac{8}{81}$
- C. $\frac{8}{9}$
- D. $\frac{64}{81}$

58. Në trekëndëshin kënddrejtë njëri kënd i ngushtë është $\beta = 60^\circ$ dhe njëri katet është $a = 8 \text{ cm}$. Sa është kateti tjetër ?

- A. 4 cm
- B. 8 cm
- C. $4\sqrt{3} \text{ cm}$
- D. $8\sqrt{3} \text{ cm}$



59. Në një mbrëmje shoqërore marrin pjesë 32 nxënës të drejtimit shoqëror, 24 të drejtimit natyror dhe 26 të drejtimit matematikor. Nga salla nxirret rastësisht një nxënës. Sa është probabiliteti $P(x)$ që nxënësi i nxjerrë të jetë i drejtimit shoqëror ?

- A. $0.1 < P(x) < 0.2$
- B. $0.2 < P(x) < 0.3$
- C. $0.3 < P(x) < 0.4$
- D. $0.4 < P(x) < 0.5$

60. Janë dhënë tre termat e parë të vargut gjeometrik: x , 12, 48. Sa është vlera e x ?

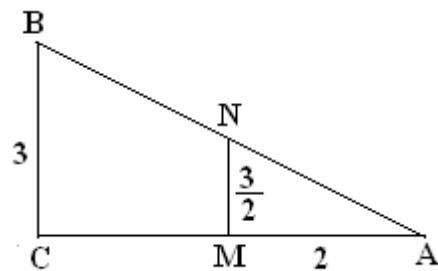
- A. 2
- B. 3
- C. 4
- D. 6

61. Me sa është e barabartë shuma: $S = 2 + 4 + 6 + 8 + \dots + 28$?

- A. 200
- B. 210
- C. 300
- D. 310

62. Është dhënë figura e mëposhtme ku $[BC] = 3$, $[MA] = 2$ dhe $[MN] = \frac{3}{2}$, kurse BC është paralele me NM. Sa është $[AB]$?

- A. 5
- B. 6
- C. $\sqrt{15}$
- D. $\sqrt{16}$



63. Në cilin rast vlerat e funksioneve vijuese janë të barabarta ndërmjet vete ?

- A. $y = 1$ dhe $y = \sin^2 x + \cos^2 x$
- B. $y = \frac{x^3 + x^2}{x+1}$ dhe $y = \frac{x^3 - x^2}{x-1}$
- C. $y = \sqrt[3]{x^2}$ dhe $y = \sqrt[4]{x^3}$
- D. $y = |x|$ dhe $y = \sqrt{x}$


64. Në sa mënyra prej katër kandidatëve të propozuar për kryesi të klasës mund të zgjidhen tre ?

- A. C_3^4
- B. V_3^4
- C. 4!
- D. 4!3!

65. Cila është zgjidhja e ekuacionit: $|x + 2| = 3$?

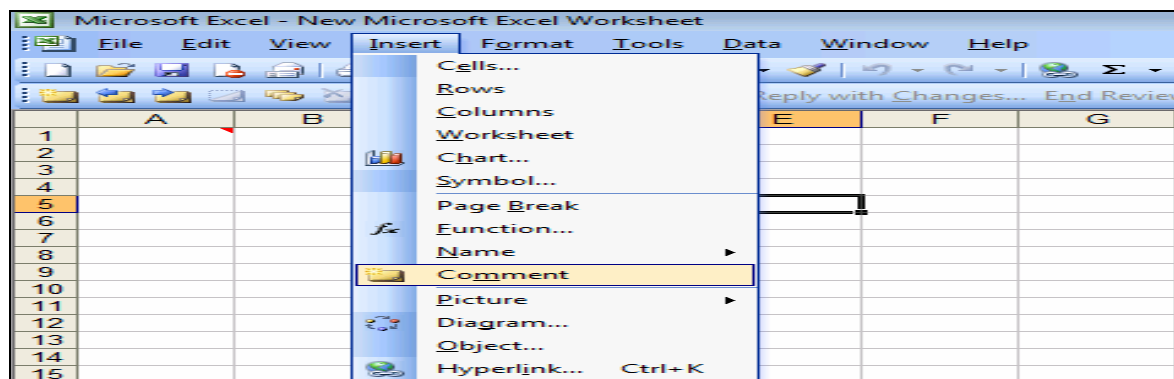
- A. $x = 5 \vee x = 1$
- B. $x = -5 \vee x = 1$
- C. $x = 5 \vee x = -1$
- D. $x = -5 \vee x = -1$

INFORMATIKË

- 66.** Opsioni i Windowsit me ndihmën e të cilit rivendosen fajllat sistemorë nga një moment i mëhershëm kohor, është:
- A. Reinstall sistem
 - B. Restore point
 - C. Restore System
 - D. Undo changes
- 67.** Shkurtesa BIOS e cila paraqet programin e instaluar në kompjuter dhe që starton në momentin e kyçjes së tij, ka këtë kuptim:
- A. Basic input/output system
 - B. Basic insert/ougoing system
 - C. Base infomation over system
 - D. Bio system
- 68.** Në figurë janë paraqitur:
- A. Modemi
 - B. Disa pjesë të sistemit kompjuterik
 - C. Njësia për CD
 - D. Hard disku me pjesët për mirëmbajtjen e tij
- 
- 69.** Lloji i CD-së në të cilin mund të ruhen fajllat, të fshihen dhe të rivendosen sërish , karakterizohet me këtë shënim:
- A. DVD
 - B. CD
 - C. Disketë
 - D. CD-RW
- 70.** Keni pranuar një E-mail me një fajll të bashkëngjitur nga një burimi i panjohur. Si do ta trajtoni nga aspekti i sigurisë:
- A. Si të pa rrezikshëm në aspektin e sigurisë
 - B. Do ta fshijmë menjëherë
 - C. Si i infektuar dhe do ta trajtojmë me program antivirus aktual
 - D. Vazhdojmë punën normalisht
- 71.** Në cilat raste preferohet të bëhet kompresimi i fajllave.
- A. Kur duhet të hapet më shpejt
 - B. Kur duhet të mbrohet nga viruset
 - C. Kur duhet të ruhet për kohë të gjatë
 - D. Kur duhet të zërë më pak hapësirë në memorie
- 72.** Kapaciteti i nevojshëm i memories (kujtesës) për ruajtjen e një libri me 500 faqe, të cilat kanë mesatarisht nga 4000 simbole për faqe është:
- A. 2 KB
 - B. 2 MB
 - C. 2 GB
 - D. 2 TB

73. Nëse në celulën C3 është shënuar numri 130, në E5 numri 30, ndërsa në atë D5 numri 60, funksioni = LOG10(C3+E5-D5), i shënuar në celulën A2 jep këtë rezultat:
- A. 2
 - B. 4
 - C. 8
 - D. 100

74. Opsioni i zgjedhur në dritaren e programit MS Excel përdoret për:



- A. Insertimin e një komenti për një rresht të tërë
 - B. Insertimin e një komenti në celulën e zgjedhur
 - C. Insertimin e një komenti për një fletë pune
 - D. Insertimin e një komenti për një libër pune
75. Si mund të zvogëloni rrezikun nga qasja e paautorizuar në një sistem kompjuterik?
- A. Duke përdorë një firewall.
 - B. Duke e riinstaluar programin për e-mail
 - C. Duke shifruar të gjitha të dhënat e sistemit.
 - D. Duke krijuar kopje të të dhënave në intervale të shpeshta kohore
76. Keni vendosur të tregtoni nëpërmjet Internetit. Në çka do të vini aksenti kryesor:
- A. Në llojin e kartelave me të cilat mund të kryhen pagesat
 - B. Në respektimin e afateve kohore
 - C. Në sigurinë e procedurave të pagesës
 - D. Në saktësinë e numrit të kartelës
77. Shkurtesa HTTP është shumë me rëndësi gjatë :
- A. Leximit të Web faqeve
 - B. Shifrimit të informacioneve
 - C. Këmbimit të fajllave
 - D. Fshirjes së Web faqeve
78. Cili është dallimi ndërmjet një rrjeti LAN dhe një rrjeti WAN
- A. Lloji i kompjuterëve të lidhur në rrjet
 - B. Mënyra e lidhjes së kompjuterëve në rrjet
 - C. Shpërndarja gjeografike
 - D. Lloji i shërbimeve që ofrojnë

- 79.** Adresa e cila në mënyrë unike identifikon një lokacion në Internet , quhet :
- ADSL (Asymmetric Digital Subscriber Line)
 - HTTP (Hypertext Transfer Protocol)
 - HTML (Hypertext Markup Language)
 - URL (Uniform Resource Locator)
- 80.** Cilat janë veprimet më të preferuara, për të zvogëluar lodhjen dhe tendosjet gjatë punës me kompjuter:
- Evitimi i punës së gjatë dhe marrja e pauzave të shpeshta
 - Puna me programe të ndryshme, jo të mërzitshme
 - Rregullimi i vendit të punës sipas përmasave të trupit
 - Puna në pozitë të shtrirë ose si ju përgjigjet më së miri
- 81.** Menyja rënëse, si në figurën e mëposhtme, krijohet me përdorimin e opsionit

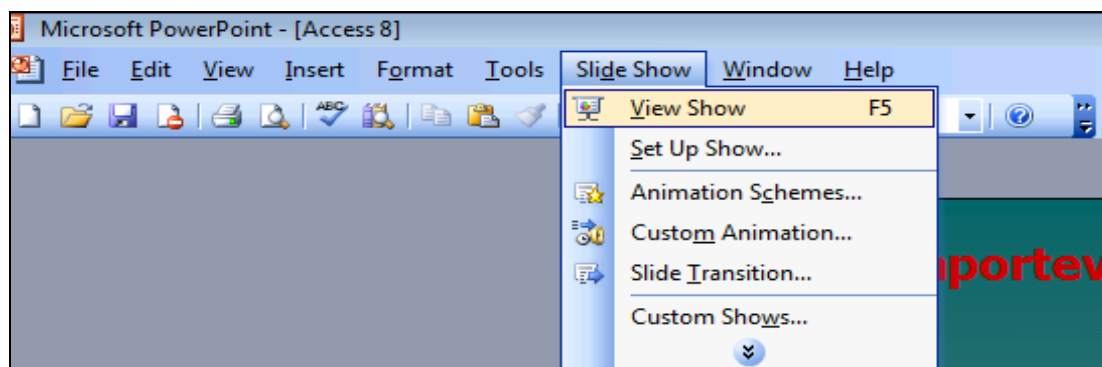
	Kodi postar	Shenime	telefoni	pagesa	lloji i klientit
+	4456	Nuk është vizito	(038) 22-345	<input type="checkbox"/>	privat
+	2451	Nuk është vizito	(025) 22-666	<input type="checkbox"/>	biznes
+	1267	Eshte vizitor i rr	(078) 45-456	<input checked="" type="checkbox"/>	biznes
+	4325	Eshte vizitor i rr	(028) 22-767	<input checked="" type="checkbox"/>	privat
+	1243	Eshte vizitor i rr	(042) 40-341	<input checked="" type="checkbox"/>	biznes
+	1348	Eshte vizitor i rr	(042) 32-853	<input type="checkbox"/>	privat
+	4255	Nuk është vizito	(064) 28-403	<input type="checkbox"/>	privat
+	2346	Nuk është vizito	(052) 23-679	<input checked="" type="checkbox"/>	biznes

Menyja rënëse

- MEMO
 - Input Mask
 - Relationships
 - Lookup Wizard
- 82.** Për incizim të një audio fajlli , në formatin .wma , në kohëzgjatje prej 5 minutash, nevojiten përafërsisht :
- 2.5 MB
 - 3.5 MB
 - 4.5 MB
 - 5.5 MB
- 83.** Fajllat e tipit video karakterizohen me ekstensionet vijuese:
- .avi, .m1v, .mp2, .mp2v, .mpe, .mpeg, .mpg, .mpv2, .wm, and .wmv
 - .aif, .aifc, .aiff, .asf, .au, .mp2, .mp3, .mpa, .snd, .wav, and .wma
 - .doc, .ppt, .xls, .com, .exe,
 - .cdrw, .cdr, cdr6

84. Cila nga alternativat në vazhdim është Protokoll për komunikime në internet:
- A. C++
 - B. OS/2
 - C. TCP/IP
 - D. Windows

85. Opsioni i zgjedhur në figurë mundëson:



- A. Startimin e prezantimit
- B. Startimin e animacioneve
- C. Startimin e një dokumenti në MS Access
- D. Startimin e programit Microsoft PowerPoint

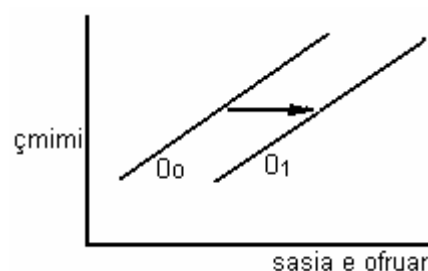
EKONOMI ME NDERRRMARËSI

86. Si quhet metoda ekonomike e cila fillon me mbledhjen, përpunimin dhe analizën e të dhënave ekonomike dhe vazhdon me zbulimin e lidhjeve midis variablave ekonomike?
- A. Metodë e vrojtimit
 - B. Metodë e induksionit
 - C. Metodë e krahasimit
 - D. Metodë e deduksionit

87. Politikat të cilat kanë të bëjnë me rritjen apo zvogëlimin e taksave, tatimeve dhe shpenzimeve qeveritare i quajmë:
- A. politika monetare
 - B. politika kreditore
 - C. politika fiskale
 - D. politika tregtare

88. Cili nga faktorët e mëposhtëm ka ndikuar në zhvendosjen e kurbës së ofertës nga O_0 në O_1 ?

- A. të ardhurat e konsumatorëve
- B. zvogëlimi i numrit të popullsisë
- C. shpenzimet qeveritare
- D. progresi teknologjik



- 89.** Synimet themelore të një ekonomie janë:
- stabiliteti i çmimeve, rritja ekonomike, punësimi
 - zvogëlimi e papunësisë, rritja e inflacionit, ngritja e pagave
 - produktiviteti i lartë, rritja e shpenzimeve, rritja e inflacionit
 - rritja ekonomike, zvogëlimi i punësimit, inflacioni
- 90.** Ligji i ofertës tregon:
- sasinë e produkteve që shitësit janë në gjendje ta ofrojnë në treg me një çmim të dhënë
 - kur çmimet e produkteve ulen, sasia që blerësit janë të gatshëm dhe në gjendje ta blejnë rritet dhe anasjelltas
 - sasinë e produkteve dhe shërbimeve që konsumatorët janë në gjendje ta blejnë në një kohë të dhënë
 - kur çmimet e produkteve rriten, shitësit janë në gjendje të ofrojnë sasi më të madhe për shitje dhe e kundërta
- 91.** Çka kuptojmë me elasticitet të ofertës?
- shkallën e ndryshimit të ndryshimit të sasisë së ofruar të një të mire, kur çmimi i saj ndryshon
 - shkallën e ndryshimit të konsumatorëve ndaj ndryshimit të çmimit të një të mire apo shërbimi
 - përqindjen e rritjes së çmimeve
 - përqindjen e zvogëlimit të çmimeve
- 92.** Vlerën e tregut të produkteve dhe shërbimeve përfundimtare të prodhuara në një vend, në një periudhë të caktuar kohore, plus të hyrat e rezidentëve jashtë vendit, minus të hyrat e fituara nga jorezidentët në ekonominë vendore e tregon:
- GDP (produkti i brendshëm bruto)
 - GNP (produkti kombëtar bruto)
 - NNP (produkti kombëtar neto)
 - NX (eksporti neto)
- 93.** Produkti i brendshëm bruto (GDP) është i barabartë me:
- $GDP = \text{shpenzimet publike} - \text{investimet} + \text{konsumi} + \text{eksporti}$
 - $GDP = \text{investimet} - \text{eksporti} + \text{importi} + \text{shpenzimet qeveritare}$
 - $GDP = \text{konsumi individual} + \text{konsumi qeveritar} + \text{investimet} + \text{eksporti} - \text{importi}$
 - $GDP = \text{kursimi individual} + \text{konsumi qeveritar} - \text{investimet} - \text{eksporti} + \text{importi}$
- 94.** Në periudhat e ekspansionit ekonomik kemi:
- rritje të prodhimit të të ardhurave dhe zvogëlim të papunësisë
 - rritje të inflacionit, keqësim të bilancit të pagesave dhe të bilancit tregtar
 - rritje të papunësisë, zvogëlim të prodhimit dhe të të ardhurave
 - rritje të shpenzimeve, rritje të deflacionit dhe rënie ekonomike
- 95.** Cili nga faktorët e mëposhtëm është shkaktari më i shpeshtë i deflacionit?
- rritja e investimeve
 - rritja e pagave
 - mungesa e parave në ekonomi
 - emetimi i tepërt i parave në ekonomi

- 96.** Të drejtën e emetimit të Eurove si mjete ligjore të pagesave në Kosovë e ka:
- A. Banka Komerciale e Kosovës
 - B. Banka Qendrore Evropiane
 - C. Banka Qendrore e Kosovës
 - D. Banka Investive Evropiane
- 97.** Vetitë kryesore të cilat duhet t'i ketë paraja janë:
- A. vetia e njëllojshmërisë, e fuqisë ekonomike dhe e inflacionit
 - B. vetia e mjetit të shkëmbimit, e njësisë matëse dhe e vlerës
 - C. vetia e qëndrueshmërisë, e jetëgjatësisë, dhe e lehtësisë në përdorim
 - D. vetia e lehtësisë në përdorim, e depozitimit të vlerave dhe e njësisë matëse
- 98.** Si i klasifikojmë shpenzimet buxhetore sipas karakterit funksional?
- A. në shpenzime fikse dhe shpenzime kapitale
 - B. në shpenzime afatshkurtra dhe shpenzime afatgjata
 - C. në shpenzime të cilat i bëjnë qytetarët e një vendi për të paguar borxhet e tyre të jashtme
 - D. në shpenzime të njësive administrative (ministrive) që kanë përdorur burimet buxhetore
- 99.** Politikat monetare të cilat realizohen nga Banka Qendrore për arritjen e objektivave të veta në stabilizimin e ekonomisë i përdorin këto instrumente:
- A. taksat, tatimet dhe kontributet
 - B. shpenzimet qeveritare, taksat dhe inflacionin
 - C. rezervat e detyrueshme, refinancimin dhe operacionet e tregut të hapur
 - D. shpenzimet publike, kontributet dhe rezervat e detyrueshme
- 100.** Bilanci tregtar në llogaritë e tij i regjistron:
- A. vetëm importin dhe eksportin e mallrave ndërmjet banorëve të një vendi dhe pjesës tjetër të botës
 - B. të gjitha transaksionet financiare ndërmjet banorëve të një vendi dhe pjesës tjetër të botës
 - C. vetëm shpenzimet të cilat i realizojnë banorët e një vendi ndaj pjesës tjetër të botës
 - D. të gjitha shpenzimet dhe të hyrat buxhetore të cilat realizohen gjatë një viti