



REPUBLIKA E KOSOVËS
REPUBLIKA KOSOVO
REPUBLIC OF KOSOVA

QEVERIA E KOSOVËS - VLADA KOSOVA - GOVERNMENT OF KOSOVA


MINISTRIA E ARSIMIT E
SHKENCËS DHE E TEKNOLOGJISË
KQSHM

MINISTARSTVO OBRAZOVANJA
NAUKE I TEHNOLOGIJE

MINISTRY OF EDUCATION
SCIENCE & TECHNOLOGY
DVSM

TESTI I MATURËS

**GJIMNAZI
(SHOQËROR, GJUHËSOR)**



Prishtinë, qershor 2010

Emri dhe mbiemri i nxënësit

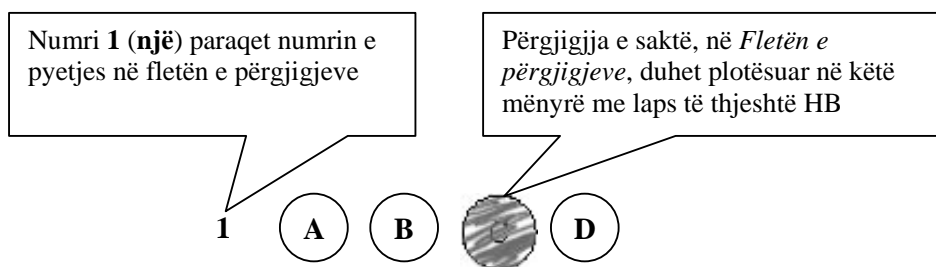
Shkolla.....

Udhëzime:

Koha: Keni 180 minuta që t'u përgjigjeni 100 kërkesave (pyetjeve). Koha numërohet prej momentit kur do të filloni t'i zgjidhni kërkesat.

Si të veproni?

1. Plotësojini me kujdes, sipas udhëzimeve, të gjitha kodet (në rreth), për: komunën, shkollën, paralelen, numrin e ditarit. Nëse këto të dhëna nuk i plotësoni saktë, nuk do të mund të nxirret rezultati i testit tuaj.
2. Para se të filloni t'u përgjigjeni pyetjeve, qetësohuni plotësisht, sepse kjo do t'ju ndihmojë.
3. Lexojini me kujdes kërkesat dhe pastaj shënojeni vetëm përgjigjen e saktë, nga 4 mundësitë e dhëna, për të cilën besoni se është e saktë.
4. Fleta e përgjigjeve duhet të plotësohet vetëm me laps të thjeshtë - laps HB.
5. Mbusheni kodin (në rreth) e përgjigjes së saktë me laps të thjeshtë, pa e shkarravitur jashtë. Shih shembullin e mëposhtëm.



6. Kini kujdes që përgjigjen e saktë të një pyetjeje të mos ia vendosni pyetjes tjetër të radhës.
7. Në Fletën e përgjigjeve nuk bën të shkruani tjetër gjë, përveç përgjigjeve për të cilat jeni të bindur se janë të sakta.
8. Përgjigjet e sakta plotësohen njëkohësisht – në Test dhe në Fletën e përgjigjeve.
9. Çdo lloj llogaritjeje mund ta bëni në faqen e fundit të testit, ndërsa në fletën e përgjigjeve nuk bën të shkruani tjetër gjë, përveç përgjigjeve, për të cilat jeni të bindur se janë të sakta.
10. Mos humbni kohë me pyetjet që nuk i dini, sepse koha mund të mos ju mjaftojë për pyetjet e tjera.
11. Përdoreni deri në fund kohën e testimi, në mënyrë që t'u përgjigjeni të gjitha pyetjeve.

Lexo fragmentin e dhënë më poshtë dhe përgjigju pyetjeve në vijim

"Nëpër këtë rrugë kam pasë ardhë nuse!", e theu dikur heshtjen tonë si të donte t'u jepte fund mendimeve tona që na rëndonin dhe na këputnin mbas secilit hap si këmbët si shpresat. Po zërin edhe atëherë nëna ime e kishte trishtues, edhe pse po fliste për dasmë.

Babai e shikoi si me habi.

"S'ma ka marrë mendja kurr se për herë të fundit e gjallë do të largohem nëpër të, për mos me u kthye kurr ma... Randë qenka me vdekë kështu! Ta marrim rrugën e humbjes e të dështimit...", foli idhtas.

Ndjeu një dobësim që ia futi të dy këmbët në dhe.

Gjyshja ia lëshoi një shikim të rreptë e qortues.

"Na qoftë rrugë e mbarë, nuse!" tha, po sikur të mos bindej as vetë për atë që e tha, ndërroi bisedën. "Qofshin burrat e...", po s'mundi të përfundojë.

(Nazmi Rrahmani: "Rruga e shtëpisë sime")

- 1.** Vendin, si zonë gjuhësore, ku ndodh ngjarja e përshkruar mund ta kuptojmë nga fjalia:
 - A. "Na qoftë rrugë e mbarë, nuse!"
 - B. "Randë qenka me vdekë kështu!"
 - C. Ndjeu një dobësim që ia futi të dy këmbët në dhe.
 - D. Gjyshja ia lëshoi një shikim të rreptë e qortues.

- 2.** Gjuha e narratorit në këtë fragment është:
 - A. gegërishte
 - B. toskërishte
 - C. standarde
 - D. arbërishte

- 3.** Në fragmentin e mësipërm, nëna flet për:
 - A. dasmën e dikurshme
 - B. vdekjen që u kanosej
 - C. braktisjen e vendit
 - D. dëbimin nga vendi

- 4.** Folja në fjalinë: "*Babai e shikoi si me habi*", është në mënyrën:
 - A. dëftore
 - B. dëshirore
 - C. habitore
 - D. urdhërore

- 5.** Në fjalinë: "*Gjyshja ia lëshoi një shikim të rreptë*", hasim mbiemrin në shkallën:
 - A. sipërore
 - B. pohore
 - C. krahasore të barazisë
 - D. krahasore të ultësisë

Lexo fragmentin e dhënë më poshtë dhe përgjigju pyetjeve në vijim

Dihet se romani im "Rinia e kohës sonë" është shkruar që më 1948, kurse romani tjetër "Mbarimi i një mbretërie" është shkruar më 1951. Por nuk duhet harruar se romani "Harbutët" i Sterjo Spasses është shkruar që më 1946!... Atëherë pse Partia vë këmbën dhe i ndal këto shkrime më të hershme dhe i jep kohë Dhimitër Shuteriqit që të shkruajë në 1952 romanin e tij pa asnjë vlerë "Çlirimtarët"?... Pse Partia ia boton me një zhurmë shurdhuese këtë roman?

(Kasëm Trebeshina)

6. Përmes këtij fragmenti autori dëshiron të bëjë më dije se:

- A. romani "Harbutët" nuk ka asnjë vlerë
- B. romani "Rinia e kohës sonë" është i pari
- C. autori kishte shkruar dy romane
- D. partia po falsifikonte faktet

7. Fragmenti ka tipare të:

- A. prozës letrare
- B. komentit gazetaresk
- C. letrës së hapur
- D. shkrimit kritik

8. Në aspektin përmbajtjesor, fragmenti jep të kuptohet se bëhet fjalë për mospajtim:

- A. religjioz
- B. ideologjik
- C. filozofik
- D. personal

9. Në këtë fragment, mbizotërojnë:

- A. pyetjet retorike
- B. krahasimet
- C. figurat e fjalës
- D. epentezat

Lexo tekstin e dhënë më poshtë dhe përgjigju pyetjeve në vijim

Neni 33

(1) Në qoftë se personi i njëjtë fajësohet për shumë vepra penale dhe për disa prej tyre është kompetente një gjykatë më e ulët, kurse për disa të tjera gjykata më e lartë, atëherë kompetente është gjykata më e lartë. Kur kompetente janë gjykatat e nivelit të njëjtë, kompetente është gjykata në të cilën së pari është ngritur aktakuza, ndërsa kur nuk është paraqitur aktakuzë, kompetente është gjykata të cilës së pari i është dorëzuar aktvendimi i vulosur i hetimeve

(2) Paragrafi 1 i këtij neni zbatohet, gjithashtu, për të caktuar se cila gjykatë është kompetente në rastin kur i dëmtuari njëkohësisht ka kryer veprën penale ndaj të pandehurit.

(Ligji i Procedurës Penale i Kosovës)

10. Fragmenti i mësipërm ka tipare diskursive të shkrimit:

- A. letrar
- B. gazetaresk
- C. kodifikues
- D. eseistik

11. Periudha e parë në paragrafin (1), të këtij fragmenti, në bazë të mjeteve lidhëse, është periudhë me marrëdhënie:

- A. lejore
- B. kushtore
- C. shkakore
- D. kundërshtore

Lexo tekstin e dhënë më poshtë pastaj përgjigju pyetjeve

“Mbrotjtja e Interit ishte “nyja gordiane” për ekipin tonë”, tha mbrëmë në Barcelonë trajneri i kuqekaltërve pas ndeshjes që ekipi i tij e fitoi me rezultat minimal kundër Interit, duke mos arritur të kalojë në finale. Kronikën që do ta dëgjoni në vazhdim e ka përgatitur gazetari ynë.

(Lajm i përshtatur)

12. Në fjalinë: “Kronikën që do ta dëgjoni në vazhdim e ka përgatitur gazetari ynë”, e-ja është:

- A. nyjë e përparme
- B. pjesëz
- C. lidhëz
- D. trajtë e shkurtër

13. Nëse faktet nga fragmenti më lart do t’i rendisnim duke iu përgjigjur kronologjikisht pyetjeve themelore: “kush, kur, ku, çka”, do të kishim fjalinë:

- A. Trajneri i kuqekaltërve mbrëmë në Barcelonë tha se...
- B. Trajneri i kuqekaltërve tha mbrëmë në Barcelonë se...
- C. Mbrëmë në Barcelonë, trajneri i kuqekaltërve tha se...
- D. Mbrëmë, trajneri i kuqekaltërve tha në Barcelonë se...

- 14.** Fjala “nyja gordiane” e ka kuptimin:
- A. problem i pazgjidhshëm
 - B. problem i zgjidhshëm
 - C. problem i vështirë për t’u zgjidhur
 - D. problem i lehtë për t’u zgjidhur

Lexo tekstin e dhënë më poshtë dhe përgjigju pyetjeve në vijim

Lum për tÿ, o i lumi Zot!
Fort po shndritë njaj diell e pak po xe’!
Ç’p’e merr frima rrapin e Jutbinës!
Borë e madhe, qi paská rá,
Râdojnë ahát për me u thye;
Ki’n çetinát vetëm kreshtat:
Ushtojnë lugjet prej ortiqesh,

- 15.** Ky fragment është shkëputur nga:
- A. Kënga e Rinjohjes
 - B. Këngët e Kreshnikëve
 - C. Këngët e Gjergj Elez Alisë
 - D. Kënga e Ago Ymer Agës
- 16.** Vargje të tipit: “*Lum për tÿ, o i lumi Zot!*”, ku kërkohet ndihma e fuqive mbinatyrore, hasen edhe te:
- A. Odiseja e Homerit
 - B. Epi i Gilgameshit
 - C. Rubaitë e Khajamit
 - D. Antigona e Sofokliut
- 17.** Krijimet popullore, pjesë e të cilave është ky fragment *nuk* shquhen për:
- A. ritmin e rregullt
 - B. metrikën e rregullt
 - C. figurat stilistike
 - D. mbështetjen në fakte

Lexo tekstin e dhënë më poshtë pastaj përgjigju pyetjeve

(... Në këto e sipër vjen Hermes, që kërkon t'i shkëpusë heroit të fshehtë për të ardhmen e Zeusit. Ky është shërbëtori më servil dhe më i pamëshirshëm i tiranit.)

HERMESI

Me ty, o dhelpër, tallës e përbuzës,
me ty, o tradhtar i perëndive,
me ty, që pasurove njerëzit e vdekshëm,
me ty, hajdut i zjarrit të hyjnive,
me ty po flas! ...

18. Nga personazhet dhe struktura e këtij fragmenti kuptojmë se bëhet fjalë për dramën:

- A. Antigona
- B. Prometheu i mbërthyer
- C. Ajaksi
- D. Edipi në kolonë

19. Në vargjet: "*Me ty, o dhelpër, tallës e përbuzës,
me ty, o tradhtar i perëndive*",

Hermesi shpreh:

- A. inat
- B. zili
- C. mllef
- D. xheloz

Lexo tekstin e dhënë më poshtë pastaj përgjigju pyetjeve

Ky autor lindi në fshatin Gur i Bardhë të Matit, më 1566. Shkollimin e parë e bëri në vend si autodidakt. Mësimet e larta i kreu në Kolegjin Ilirian të Loretos (Itali). Në moshën 21 vjeçare e shugurua prift dhe shërbeu në Kosovë e Maqedoni. Më 1599 u emërua vikar i përgjithshëm i Serbisë, ku qëndroi 17 vjet. Më 1616 shkoi në Romë, ku ndejti më 1621. Atje pos shtypjes së librave kreu edhe veprimtari të tjera rreth kryengritjes ballkanike kundër Turqisë dhe qe pelegrin në Galici. Nga fundi i qëndrimit në Romë, ky autor u emërua ipeshkv i Zadrimës (1621). Në këtë detyrë ishte deri në dhjetor të vitit 1622, kur e mbytën duke e kaluar lumin Drin.

20. Mbështetur në të dhënat e mësipërme biografike që jep ky tekst për njërin nga autorët e Letërsisë së vjetër shqipe, kuptojmë se bëhet fjalë për:

- A. Pjetër Budin
- B. Pjetër Bogdanin
- C. Frang Bardhin
- D. Marin Barletin

Në poezinë XVI të veprës “Doktrina e Kërshtenë” të Pjetër Budit, janë vargjet:

*Tashti të lus, ndritmë mua,
Zoti im me një rrezé
.....
Sqip të mundënj me rrëfyem
Ndonjë kankë të ré*

- 21.** Në këta dy distikë del frymëzimi krijues autorial i lidhur për tre elementë, që janë përcaktues edhe të programit poetik të këtij autori:
- A. tokësor, universal dhe idilik
 - B. fetar, atdhetar dhe individual
 - C. qiellor, adhurues dhe ëndërrimtar
 - D. imagjinar, dashuror dhe të ndjeshëm
- 22.** Këta dy distikë japin natyrën poetike të poezisë:
- A. elegjiake
 - B. përshkruese
 - C. refleksive
 - D. satirike
- 23.** Cilat nga vargjet e poemës: “Këngët e Milosaos” të Jeronim de Radës, shprehin njërin nga format e paradoksit:
- A. *Bota kish ndërruar lisa
uji i ri në det*
 - B. *Duro, zemër duro, e duro
sa duroi mali me borë*
 - C. *Thomni ju, të dashurit
m’ëmbël ë të puthurit*
 - D. *Nesër ajo, në kët’ orë,
Ulet në shtratin tim*

Jeronim de Rada në veprën “Parime të estetikës”, shkruan:

Kudo qoftë e bukura ka gjithmonë karakter moral. Mendja e dikton e zbulon të bukurën dhe e vë në shërbim të shpirtit.

- 24.** Arsyeja pse autori ka zgjedhur këto fjalë, është për të treguar:
- A. të bukurën që e dikton shpirti
 - B. të bukurën e përjetshme
 - C. të bukurën e cila ndodhet kudo
 - D. të bukurën si vlerë mendore

Lexo tekstin e dhënë më poshtë dhe përgjigju pyetjeve në vijim

Unë nuk pretendoj të jem e zonja të mësoj diplomatin, gjeografin apo arkeologun. Qëllimi im është shumë më modest. Unë dëshiroj t'i jap lexuesit vetëm një ide më të drejtë për gjendjen e ngjarjeve në Gadishullin e Ballkanit nga ajo që ai zotëron zakonisht.

Njerëz të këtyre racave të tjera më janë lutur t'i tregoj të gjitha ato që kam parë e dëgjuar, për të kujtuar publikun britanik se, ka edhe popuj të tjerë veç bullgarëve që duhet t'u merren parasysh interesat, dhe për të theksuar që të hollat që jepen nga njerëz bujarë me qëllim, ashtu si mendohet për të ndihmuar Krishterimin, ka të ngjarë që t'i japë shkak Partisë Bullgare që të mendojë se ajo ka mbështetjen e Anglisë dhe për ta inkurajuar atë të shkaktojë dhuna të reja kundër të krishterëve të tjerë.

Kurse njerëz të tjerë më janë lutur që të mos i tregoj ato që kam parë e dëgjuar.

Është e pamundur t'i kënaqësh të gjithë. Mungesa e vendit ku do të mund të punoja natyrisht më pengon që të jap hollësitë e këtij udhëtimi tim të gjashtë, në Gadishullin Ballkanik, por jam munduar që të bëj një përshkrim të thjeshtë të fakteve kryesore. Sukseset që munda të arrij, ua detyroj kryesisht miqësisë së atyre që më ndihmuan gjatë udhëtimeve të mia.

Gabimet janë të gjitha të miat.

(Edith Durham: “Brenge e ballkanasve”)

25. Cila fjali e jep më së miri qëllimin e veprës së kësaj autoreje?

- A. Dëshiroj t'i jap lexuesit vetëm një ide më të drejtë për gjendjen e ngjarjeve
- B. Njerëz të këtyre racave të tjera më janë lutur t'i tregoj të gjitha ato që kam parë
- C. Mungesa e vendit natyrisht më pengon që të jap hollësitë e këtij udhëtimi.
- D. Ka edhe popuj të tjerë veç bullgarëve që duhet t'u merren parasysh interesat.

26. Autorja, në fragmentin e këtij teksti, përqendrohet kryesisht te problemi i:

- A. konfliktit midis popullit bullgar dhe popujve të tjerë
- B. mbështetjes së Anglisë ndaj interesave të bullgarëve
- C. paanësisë gjatë paraqitjes së dëshmive dhe ngjarjeve
- D. të hollave që jepen nga njerëz për të ndihmuar Krishterimin

27. Në novelën “E madhe është gjëma e mëkatit” (Tat Tanushi i Bubutimës), përmes fjalisë: “*Rrëfimi nga liqeri i kaltër..., punuar pas dy legjendash të dëgjura në Pogradec*”, Mitrush Kuteli shpall relacionin e:

- A. novelës së tij me liqenin e kaltër
- B. novelës së tij me dy legjendat
- C. dy legjendave me liqenin e kaltër
- D. njëres legjendë me legjendën tjetër

Lexo tekstin e dhënë më poshtë dhe përgjigju pyetjeve në vijim

Afërdita - Hyjnesha e dashurisë, e bukurisë, dhe e pjellorisë te grekët e vjetër. Thuhej se ishte e bija e Zeusit ose, ndryshe, se kishte lindur nga shkuma e detit. I shoqi ishte Hefesti, por ajo kishte edhe të dashur të tjerë, si ndër perënditë (më i njohuri Aresi), ashtu edhe ndër njerëzit e vdekshëm (më i njohuri Adonisi).

- 28.** Ky tekst identifikohet si pjesë e fjalorit:
- A. filologjik
 - B. të gjuhës letrare
 - C. enciklopedik
 - D. të fjalëve të huaja
- 29.** Cila nga veprat, **nuk** është vepër e autorit të cilit i referohet?
- A. Ismail Kadare: “Net shqiptare”
 - B. Azem Shkreli: “Nga bibla e heshtjes”
 - C. Dritëro Agolli: “Shkëlqimi dhe rënia e shokut Zylo”
 - D. Nazmi Rrahmani: “Malsorja”
- 30.** Cila lëvizje letrare në letërsinë shqipe filloi nga gjysma e dytë e shekullit XIX, e cila favorizon imagjinatën dhe emocionin mbi logjikën dhe arsyen?
- A. klasicizmi
 - B. modernizmi
 - C. realizmi
 - D. romantizmi

ENGLISH LANGUAGE

31. Jenna gave a birthday party last night. We all had great fun although we knew it was not her birthday because she was born on 13/06/1992. Jenna was born on_____.

- A. the thirteenth of June, nineteen ninety-two
- B. thirteen of the June, nineteen ninety-two
- C. thirteenth of June, nineteen ninety-two
- D. June thirteenth, of nineteen ninety-two

32. Lana, Roger, Debbie, and Steven all attend the same school. They spend a lot of time together. They have many things in common. However, this summer they have decided to plan their summer holidays on their own. They will go hitchhiking in Europe.

Look at the table below and choose the correct answer:

	LANA	ROGER	DEBBIE	STEVEN
2nd part of June	Austria	Belgium	Switzerland	France
July	Germany	France	Austria	Belgium
August	France	Germany	France	Switzerland
1st part of September	Switzerland	Austria	France	Germany

- A. All of them will visit different countries during the same months.
- B. None of them will be in the same country during the same month.
- C. Lana will visit three countries during the summer.
- D. Two of them will visit the same country during the same month.

33.

- 1. Yes, I've walked a lot and now I'm tired and hungry.
- 2. What is on the menu? Let me see...
- 3. I don't understand this. Let's ask the waiter for advice.
- 4. Have you had a good afternoon, Susan?
- 5. I am too. What shall we have?

The correct order of sentences to form a dialogue is _____.

- A. 1 2 5 4 3
- B. 2 1 4 5 3
- C. 4 1 5 2 3
- D. 4 3 5 2 1

34. ONLY ONE of the words below CANNOT be used to complete the following sentence. Which one?

Look! They're coming! Can't you see them? Jane is the _____ girl wearing a white hat.

- A. tall
- B. high
- C. smart
- D. elegant

35. Read the following sentences and then choose a sentence to complete the dialogue:

Ben: This is an Identikit picture of Brian Smith. Look for him at airports and seaports.

Diana: What has he done? Why is he wanted?

Ben: He's a pickpocket, _____

- A. he steals money, credit cards, passports...
- B. he robs banks and cash-points.
- C. he breaks into houses.
- D. he kidnaps children.

36. In the following dialogue:

Rowena: Prince Charles will be in Oxford tomorrow and meet the mayor of Oxford.

Tim: Who told you that? Let's go and _____ him?

from the following words:

- 1. salute
- 2. lecture
- 3. meet
- 4. chat with

Tim should say, '**salute**' because _____.

- A. this is what we do when we meet our friends.
- B. this is what people usually do when they meet a prince.
- C. this is how you show your respect to an important personality.
- D. it is not unusual for us to meet the members of the royal family.

37. Choose the correct answer to complete the sentence:

He always wants to give _____ to people around him.

- A. advise
- B. advice
- C. advises
- D. advices

38. The sentence 'I have been reading for ages.' is in the _____.

- A. Present simple tense
- B. Present perfect tense
- C. Present continuous tense
- D. Present perfect continuous tense

39. Look at the following verbs. One of them DOES NOT exist. Which one?

- A. analyze
- B. carelize
- C. stabilize
- D. harmonize

40. Choose the best way to join the following sentences:

They want to be happy.

Understanding what makes people happy is essential.

- A. They want to be happy so understanding what makes them happy is essential.
- B. They want to be happy because understanding what makes them happy is essential.
- C. They want to be happy that understanding what makes them happy is essential.
- D. They want to be happy although understanding what makes them happy is essential.

41. Choose the correct sentence:

- A. We thought of him never as part of the family despite that the fact he was one of us.
- B. We never thought of him as part of the family despite the fact that he was one of us.
- C. We never thought of him as of the family part despite that the fact he was one of us.
- D. Despite we never thought of him as part of the family the fact that he was one of us.

42. Look at the words in the box:

asked – one – interviewer – for – the – of – opinion – workers - the – his

The correct combination to form a sentence is:

- A. The interviewer asked one of the workers for his opinion.
- B. The interviewer asked for his opinion one of the workers.
- C. The interviewer for his opinion asked one of the workers.
- D. For his opinion the interviewer asked one of the workers.

43. Which word is different?

- A. goal
- B. stadium
- C. ball
- D. scorer

44. Choose the correct word to complete the following sentences:

I could not _____ his questions easily.

They will _____ all that you ask.

- A. take
- B. choose
- C. answer
- D. respond

45. Which word below does NOT rhyme with the word **victorious?**

- A. furious
- B. dangerous
- C. curious
- D. luxurious

46. In the string of words: **carefully, amazingly, wonderfully, carelessly, encouragingly**, the word **carelessly** is different because _____.

- A. it is an adjective
- B. it is an adverb
- C. its meaning is positive
- D. its meaning is negative

47. Read the paragraph carefully:

Western Australia is eight times the size of Britain, but it has only one million people. 900,000 of them live in and around the state capital, Perth. The other 100,000 people live in 'the outback', an area of 2,500,000 square kilometres. The area is hot and dry. Temperatures are usually over 30°C in summer and sometimes 40°C. It hardly ever rains. Sheep farming is the main occupation, and the farms are called 'sheep stations' in Australia. The children can't go to school, and they hardly ever see a teacher. They have lessons from a two-way radio. It's called 'The School of the Air'. The children can speak to the teacher and other children in the class by radio.

Look at the highlighted part of the text and complete the following sentence:

The author _____.

- A. knows exactly how big the area and population of Western Australia is.
- B. is speculating about the size of the area and population of Western Australia.
- C. is not certain about the size of the area and population of Western Australia.
- D. doesn't know the exact size of the area of Western Australia.

48. The following sign means:

- A. taxis are not allowed to park here.
- B. you can find a taxi near here.
- C. the road is blocked for taxis.
- D. taxi transport is for free in this area.



49. In many countries people celebrate holidays of different kinds. This particular holiday is very much appreciated by children. On this occasion they wear masks and fancy costumes and go door to door saying 'Trick or treat'. Below is the symbol of this holiday:

The holiday is called:

- A. Christmas
- B. Easter
- C. Halloween
- D. Thanksgiving



50. Read the following paragraph:

Dianna went shopping yesterday. She first went into a greengrocer's. She bought a kilo of English apples. They cost £1.85. Then she took a kilo of French pears. They were £1.25. She also bought a kilo of English strawberries and half a kilo of Italian grapes. She paid £2.70 for these. She paid _____ altogether.

- A. five pounds and eighty pence
- B. six pounds and eighty pence
- C. four pounds and eighty pence
- D. three pounds and eighty pence

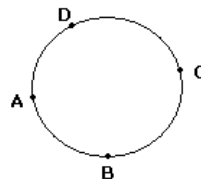
MATEMATIKË

51. Cila nga barazitë vijuese është e saktë?

- A. $a^2 : a^3 = a^{-1}$
- B. $a^2 : a^3 = a^{2:3}$
- C. $a^2 \cdot a^3 = a^{2 \cdot 3}$
- D. $(a^2)^3 = a^{2+3}$

52. Në një rreth janë dhënë 4 pika të ndryshme. Sa trekëndësha mund të formohen me kulme në ato pika?

- A. 2
- B. 4
- C. 5
- D. 6



53. Cili nga gjykimet e dhëna është i saktë?

- A. p : Nëpër dy pika të dhëna kalojnë dy drejtëza të ndryshme.
- B. q : Çdo katërkëndësh ka dy boshte të simetrisë.
- C. r : $\frac{a^2 - 1}{a + 1} = a - 1$, $a \neq -1$
- D. s : $\frac{2}{5} = \frac{3}{10}$

54. Zgjidhjet e ekuacionit kuadratik $x^2 - 9 = 0$ janë:

- A. $x_1 = -3$, $x_2 = 0$
- B. $x_1 = 0$, $x_2 = 3$
- C. $x_1 = -9$, $x_2 = 9$
- D. $x_1 = -3$, $x_2 = 3$

55. Cila është zgjidhja e ekuacionit $\sqrt{x-1} = 2$?

- A. $x = 1$
- B. $x = 3$
- C. $x = 5$
- D. $x = 7$

56. Është dhënë funksioni $y = \frac{a}{x}$. Cili funksion do të fitohet nëse pika $P(-2, 3)$ i takon grafikut të funksionit të dhënë?

- A. $y = -\frac{6}{x}$
- B. $y = -\frac{2}{x}$
- C. $y = -\frac{4}{x}$
- D. $y = -\frac{8}{x}$

57. Cila është prerja e bashkësive $A = [1, 6]$ dhe $B = [3, 8]$?

- A. $A \cap B = [1, 3]$
- B. $A \cap B = [3, 8]$
- C. $A \cap B = [3, 6]$
- D. $A \cap B = [6, 8]$

58. Janë dhënë funksionet: $f(x) = x^2 - 4$ dhe $g(x) = -\frac{x}{2} - 1$.

Sa është $f(-2) + g(0)$?

- A. 0
- B. -1
- C. -2
- D. -4

59. Sa është 5% e numrit 20 ?

- A. 1
- B. $\frac{1}{2}$
- C. $\frac{1}{5}$
- D. 5

60. Shuma e tre numrave të njëpasnjëshëm është 126. Cili prej tyre është më i madhi?

- A. 37
- B. 39
- C. 43
- D. 47

61. Janë dhënë këndet $\alpha = 90^\circ - x$ dhe $\beta = 180^\circ - x$. Sa është vlera e këndit x nëse $\alpha + \beta = 130^\circ$?

- A. $x = 60^\circ$
- B. $x = 70^\circ$
- C. $x = 80^\circ$
- D. $x = 90^\circ$

62. Në cilin rast shprehja $15 - 12 : 3 + 4 - [-(-2 \cdot 4 + 1)]$ është njehsuar saktë?

- A. $15 - 12 : 3 + 4 - [-(-2 \cdot 4 + 1)] = 3 : 3 + 4 + 8 - 1 = 1 + 12 - 1 = 12$
- B. $15 - 12 : 3 + 4 - [-(-2 \cdot 4 + 1)] = 15 - 4 + 4 - [-8 - 1] = 15 - 9 = 6$
- C. $15 - 12 : 3 + 4 - [-(-2 \cdot 4 + 1)] = 15 - 4 + 4 - [8 - 1] = 15 - 7 = 8$
- D. $15 - 12 : 3 + 4 - [-(-2 \cdot 4 + 1)] = 3 + 4 + [-8 + 1] = 7 + [-7] = 7 - 7 = 0$

63. Është dhënë shprehja $\sqrt{xy} = \frac{\sqrt{x}}{\sqrt{y}} - \frac{\sqrt{y}}{\sqrt{x}}$, $x > 0, y > 0$. Sa është vlera e y -it ?

- A. $\frac{x}{x-1}$
- B. $\frac{x}{x+1}$
- C. $\frac{x-1}{x}$
- D. $\frac{x+1}{x}$

64. Duke ditur se vlen barazia $x^3 - y^3 = (x - y)(x^2 + xy + y^2)$, tregoni se cila barazi është e saktë:

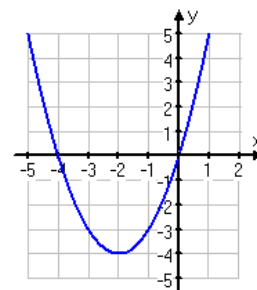
- A. $x^3 - 8 = (x - 8)(x^2 + 8x + 64)$
- B. $x^3 - 8 = (x - 2)(x^2 + 8x + 64)$
- C. $x^3 - 8 = (x - 8)(x^2 + x + 8)$
- D. $x^3 - 8 = (x - 2)(x^2 + 2x + 4)$

65. Shuma e dy numrave është 10, ndërsa shuma e katrorëve të tyre është 68. Cilët janë ata numra ?

- A. $x_1 = 1, x_2 = 9$
- B. $x_1 = 7, x_2 = 3$
- C. $x_1 = 2, x_2 = 8$
- D. $x_1 = 6, x_2 = 4$

66. Cili pohim është i saktë për funksionin $y = x^2 + 4x$?

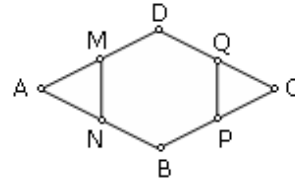
- A. Është funksion periodik .
- B. Ka minimum në pikën $K(-2, -4)$.
- C. Është pozitiv në intervalin $x \in (-\infty, +\infty)$.
- D. E pret boshtin Oy në dy pika.



67. Në një zarf gjendet numri x . Për cilin numër është fjala nëse mesatarja e numrave 3, 6, x është numri 10 ?

- A. 1
- B. 11
- C. 21
- D. 31

- 68.** Në figurën e dhënë është paraqitur paralelogrami ABCD dhe gjashtëkëndshi i rregullt MNB PQD te cili vlen $[AM] = [MD]$ dhe $[DQ] = [QC]$. Sa është gjatësia e $[AM]$, nëse dihet se $[DB] = 8 \text{ cm}$?



- A. 2 cm
- B. 3 cm
- C. 4 cm
- D. 5 cm

- 69.** Numri i kundërt i numrit a , ($a \neq 0$) në lidhje me veprimin e shumëzimit është numri:

- A. $-a$
- B. $\frac{1}{a}$
- C. $-\frac{1}{a}$
- D. $+a$

- 70.** Është dhënë piramida e drejtë katërkëndore, baza e të cilës është drejtkëndsh me brinjët $a = 16 \text{ cm}$, $b = 12 \text{ cm}$ dhe lartësi $H = 15 \text{ cm}$. Sa është vëllimi i piramidës

(Vëllimi i piramidës njehsohet me formulën $V = \frac{1}{3} B \cdot H$) ?

- A. $V = 920 \text{ cm}^3$
- B. $V = 940 \text{ cm}^3$
- C. $V = 960 \text{ cm}^3$
- D. $V = 980 \text{ cm}^3$

HISTORI

- 71.** Cili nga dijetarët grek bëri studimin e trupit të njeriut dhe i vuri bazat e mjekësisë antike?
- A. Aristoteli
 - B. Platoni
 - C. Hipokrati
 - D. Demokriti
- 72.** Shtetet fqinje ballkanike synonin t'i copëtonin trojet shqiptare dhe për këtë qëllim kishin krijuar programe të posaçme politike. Si quhej programi politik shovenist grek që pretendonte pushtimin e tokave shqiptare?
- A. Megali Idea
 - B. Greqia e Madhe
 - C. Vorio Epiri
 - D. Naçertania
- 73.** Ilirët praktikonin besimin politeist që nënkuptonte adhurimin e shumë zotrave. Cilët nga zotrat ishin ilire?
- A. Seti dhe Ozirisi
 - B. Pani dhe Medauri
 - C. Jupiteri dhe Venera
 - D. Zeusi dhe Afrodita
- 74.** Punëtorët e Parisit në luftë kundër Asamblesë kushtetuese ia dolën ta merrnin drejtimin e kryeqytetit dhe e shpallën Komunën e Parisit si organ i vetëqeverisur. Kur filloi së funksionuari komuna e Parisit?
- A. Nga 20 maj 1881
 - B. Nga 1 prill 1891
 - C. Nga 1 shtator 1861
 - D. Nga 26 mars 1871
- 75.** Më 1958 Franca kaloi nga Republika Parlamentare në republikë gjysmë presidenciale. Cili ishte Kryetari Francez që bëri reformën e tillë qeverisëse?
- A. Charl De Gol
 - B. Fransua Miteran
 - C. Zhak Shirak
 - D. Zhiskar D'Esten
- 76.** Pas Kongresit të Berlinit më 1878 u pavarësuan:
- A. Greqia, Bullgaria dhe Bosnja
 - B. Mali i Zi, Serbia dhe Rumania
 - C. Mali i Zi, Bullgaria dhe Rumania
 - D. Greqia, Bullgaria dhe Bosnja
- 77.** Cilat janë burimet kryesore historike?
- A. Burimet shpirtërore të miteve dhe legjendave
 - B. Burimet dokumentare, biblike dhe kuranore
 - C. Burimet materiale të shkruara dhe gojore
 - D. Burimet dokumentare, greke dhe romake

- 78.** Cilat territore përfshinte Pashallëku i Janinës?
- Territorin e Shqipërisë veriore dhe viset deri në Shkup
 - Tokat shqiptare në veri deri në Tivar dhe në jug deri te Butrinti
 - Tokat shqiptare në veri deri në Ulqin dhe në jug deri te Vlora
 - Territorin e Shqipërisë së poshtme dhe viset e Thesalisë
- 79.** Komiteti „Mbrojtja Kombëtare e Kosovës“ është themeluar në Shkodër më 1 maj 1918. Cili ishte programi politik i këtij komiteti?
- Çlirimi dhe bashkimi i Kosovës me shtetin amë
 - Çlirimi dhe shpallja e Kosovës si shtet i pavarur
 - Çlirimi i Kosovës dhe krijimi i federatës së shteteve ballkanike
 - Çlirimi i Kosovës dhe krijimi i federatës Kosovë-Shqipëri
- 80.** Cilat nga këto ngjarje historike kanë ndodhur sipas rendit kronologjik nga më vjetra tek më e reja?
- Beteja e Stalingradit, Beteja e Maratonës, Beteja e Parë e Kosovës
 - Beteja e Maratonës, Beteja e Stalingradit, Beteja e Parë e Kosovës
 - Beteja e Stalingradit, Beteja e Parë e Kosovës, Beteja e Maratonës
 - Beteja e Maratonës, Beteja e Parë e Kosovës, Beteja e Stalingradit
- 81.** Me çka rezultoi dobësimi i vazhdueshëm i Perandorisë Romake deri në vitin 395?
- Me ndarjen në Perandorinë Osmane dhe në Perandorinë Bizantine
 - Me ndarjen në Perandorinë Latine dhe në Perandorinë Bizantine
 - Me ndarjen në Perandorinë Perëndimore dhe në Perandorinë Latine
 - Me ndarjen në Perandorinë Lindore dhe në Perandorinë Greke
- 82.** Pse princi Vilhelm Von Vid u vlerësua si më i përshtatshmi për të qeverisur Shqipërinë?
- Ishte i besimit katolik dhe vinte nga Holanda e cila kishte qenë neutrale ndaj çështjes shqiptare
 - Ishte i besimit ortodoks dhe vinte nga Austria e cila kishte ndihmuar çështjen shqiptare
 - Ishte i besimit protestan dhe vinte nga Gjermania e cila kishte qenë neutrale ndaj çështjes shqiptare
 - Ishte i besimit të krishterë dhe vinte nga Italia e cila e kishte ndihmuar çështjen shqiptare
- 83.** Lufta qytetare në SHBA 1861-1865 u zhvillua në mes të jugut dhe veriut dhe përveç dëmeve materiale dhe njerëzore rezultoi edhe me efekte pozitive për SHBA. Cilat ishin efektet pozitive të kësaj ngjarje?
- U rivendos shteti i njësuar dhe u hoq skllavëria në tërë territorin duke mundësuar zhvillimin e formave kapitaliste të prodhimit
 - U rivendos shteti i njësuar dhe u shtua skllavëria në tërë territorin duke mundësuar zhvillimin e formave feudale të prodhimit
 - U mundësua krijimi i shteteve të pavarura, u shtua skllavëria në tërë territorin dhe u mundësua zhvillimi i formave kapitaliste të prodhimit
 - U mundësua krijimi i shteteve të pavarura, u hoq skllavëria në tërë territorin dhe u mundësua zhvillimi i formave feudale të prodhimit

- 84.** Cilat ngjarje ishin vendimtare që ndikuan në rënien e sistemit monist dhe të cilat bënë që qytetarët në Shqipëri sot të jetojnë në demokraci dhe të lirë?
- Shembja e Murit të Varshavës, Lëvizja demokratike në Kosovë dhe Shqipëri, si dhe ndryshimet demokratike në ish-republikat komuniste të BRSS-së
 - Revolucioni në Hungari, themelimi i OSBE-së, si dhe demonstratat e përgjakshme në Rumani dhe Poloni
 - Shembja e Murit të Berlinit, Lëvizja demokratike gjithë popullore në Shqipëri e Kosovë, si dhe ndryshimet demokratike në ish-vendet komuniste të Lindjes
 - Revolucioni në Çekosllovakia, themelimi i OSBE-së, si dhe demonstratat e përgjakshme në Rumani dhe në RD Gjermane
- 85.** Në Konferencën e Paqes në Paris, në shkurt të vitit 1919, delegacioni shqiptar paraqiti dy memorandume. Cilat ishin kërkesat e palës shqiptare në memorandumun e parë?
- Të pranohet pavarësia e Shqipërisë por duke garantuar të drejtat e shqiptarëve në shtetet ballkanike
 - Të pranohen kufijtë e Shqipërisë së 1913 por duke siguruar autonomi politike për viset e okupuara shqiptare
 - Të pranohen kufijtë e Shqipërisë së 1913 por duke vendosur protektorat ndërkombëtar në viset e okupuara shqiptare
 - Të pranohet pavarësia e Shqipërisë por duke eliminuar padrejtësitë e Kongresit të Berlinit dhe Konferencës së Londrës

GJEOGRAFI

- 86.** Si quhet dukuria e gjërryerjes së tokës nën veprimin e forcave të jashtme?
- Akumulacion
 - Bifurkacion
 - Erozion
 - Erupsion
- 87.** Cili nga lumenjtë e Shqipërisë ka gjatësi më të madhe?
- Shkumbini
 - Drini
 - Mati
 - Buna
- 88.** Në qoftë se në hartë me shkallë 1 : 600 000, largësia Prishtinë – Mitrovicë është 6 cm. Sa është largësia në mes këtyre dy qyteteve?
- 36 km
 - 46 km
 - 56 km
 - 26 km

- 89.** Cila prej këtyre vijave përdoret për punimin e hartave klimatike për paraqitjen e reshjeve?
- A. Izobatet
 - B. Izotermat
 - C. Izohalinet
 - D. Izohjetet
- 90.** Me lëvizjet tektonike horizontale janë krijuar:
- A. malet e vjetra - mollake
 - B. horsti
 - C. malet e reja – vargmalet
 - D. shëmtirat dhe luginat tektonike
- 91.** Pjesa më e madhe e popullsisë së botës jeton në:
- A. hemisferën perëndimore
 - B. hemisferën veriore
 - C. hemisferën jugore
 - D. hemisferën lindore
- 92.** Me rritjen e lartësisë mbidetare temperaturat e ajrit zbresin në çdo 100 m për 0.56°C . Sa do të jetë temperatura në 800 m lartësi nëse në 0 metra lartësi temperatura është 14°C ?
- A. $h = 800 \text{ m, temp.} = 9.52^{\circ}\text{C}$
 - B. $h = 800 \text{ m, temp.} = 11.62^{\circ}\text{C}$
 - C. $h = 800 \text{ m, temp.} = 12.45^{\circ}\text{C}$
 - D. $h = 800 \text{ m, temp.} = 15.32^{\circ}\text{C}$
- 93.** Hapësira gjeografike e cila shtrihet në të dy anët e lumit Lumbardhi i Prizrenit njihet si:
- A. rajoni malor i Siriniqit
 - B. rajoni malor i Sreckës
 - C. rajoni malor i Shalës së Bajgorës
 - D. rajoni malor i Kollashinit të Ibërit
- 94.** Pse pjesa perëndimore e Republikës së Kosovës ka bimësi më të pasur se pjesa lindore?
- A. Për shkak reshjeve të mëdha
 - B. Për shkak të lartësisë së madhe mbidetare
 - C. Për shkak të temperaturave të larta dhe reshjeve të pakta
 - D. Për shkak erërave të fuqishme dhe ndërtimit pedologjik
- 95.** Fusha e Llapit shtrihet në:
- A. veriperëndim të Fushës së Kosovës, në mes maleve të Drenicës dhe Zhegovcit
 - B. juglindje të Fushës së Kosovës, në mes maleve të Zhegovcit dhe Karadakut
 - C. verilindje të Fushës së Kosovës, në mes maleve të Kopaunikut dhe Gallapit
 - D. jugperëndim të Fushës së Kosovës, në mes maleve të Gollakut dhe Karadakut

96. Cilat janë malet e reja në Europë?

- A. Alpet, Karpatet, Rodopet, Apeninet, Pirinejet dhe Ardenet
- B. Vogezet, Shvarcvald, Harts, Penine, Ardenet dhe Dinariket
- C. Dinariket, Rodopet, Pirinejet, Vogezet, Karpatet, dhe Peninet
- D. Pirinejet, Alpet, Apeninet, Karpatet, Dinariket dhe Sharopindet

97. Janë dhënë pohimet:

- I. Ciklonet krijohen rreth Islandës dhe duke lëvizur në drejtim të Evropës sjellin shi, bor, mjegull dhe erë
- II. Ciklonet krijohen rreth Ishujve Azore dhe duke lëvizur në drejtim të Evropës sjellin kohë të ftohtë
- III. Ciklonet krijohen mbi Siberi dhe duke lëvizur në drejtim të Evropës sjellin kohë të nxehtë

Cili pohim është i saktë ?

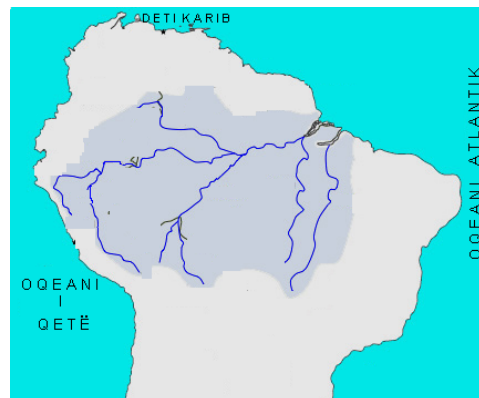
- A. Vetëm I
- B. Vetëm II
- C. Vetëm III
- D. I,II dhe III

98. Salanitet më të lartë kanë:

- A. hapësirat ujore që ndodhen në zonën e ftohtë, sidomos zonat e akullit
- B. hapësirat ujore që ndodhen në zonën e nxehtë, sidomos në gjerësitë subtropikale
- C. hapësirat ujore që ndodhen në zonën e ftohtë, sidomos në gjerësitë polare
- D. hapësirat ujore që ndodhen në zonën mesatare, sidomos në gjerësitë mesatare

99. Cili lumë është paraqitur në hartën e dhenë?

- A. Amazoni
- B. Misisipi
- C. Nili
- D. Kongo



100. Tundra është :

- A. bashkësi bimore e barishteve të larta në viset tropike
- B. bashkësi bimore me bari të ulët në viset e mesme kontinentale
- C. bashkësi bimore e myshqeve, likeneve dhe barishteve moçalike në viset polare
- D. bashkësi e pyjeve të larta halore në rajonet e ftohta klimatike të Siberisë dhe Kanadës