



REPUBLIKA E KOSOVËS
REPUBLIKA KOSOVO
REPUBLIC OF KOSOVA

QEVERIA E KOSOVËS - VLADA KOSOVA - GOVERNMENT OF KOSOVA


MINISTRIA E ARSIMIT E
SHKENCËS DHE E TEKNOLOGJISË
KQSHM

MINISTARSTVO OBRAZOVANJA
NAUKE I TEHNOLOGIJE

MINISTRY OF EDUCATION
SCIENCE & TECHNOLOGY
DVSM

TESTI I MATURËS

GJIMNAZI
(SHOQËROR, GJUHËSOR)



Prishtinë, gusht 2009

Emri dhe mbiemri i nxënësit

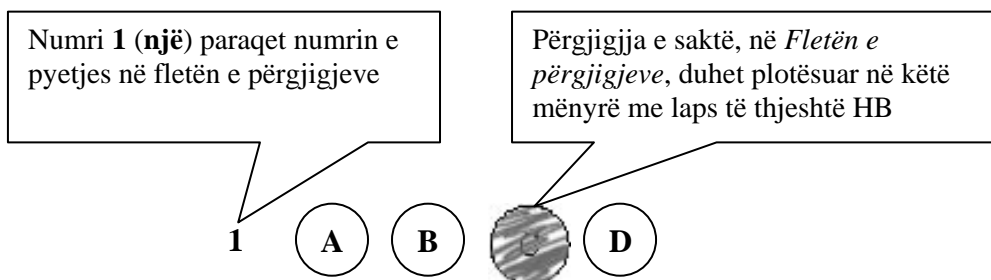
Shkolla.....

Udhëzime:

Koha: Keni 180 minuta që t'u përgjigjeni 100 kërkesave (pyetjeve). Koha numërohet prej momentit kur do të filloni t'i zgjidhni kërkesat.

Si të veproni?

1. Plotësojini me kujdes, sipas udhëzimeve, të gjitha kodet (në rreth), për: komunën, shkollën, paralelen, numrin e ditarit. Nëse këto të dhëna nuk i plotësoni saktë, nuk do të mund të nxirret rezultati i testit tuaj.
2. Para se të filloni t'u përgjigjeni pyetjeve, qetësohuni plotësisht, sepse kjo do t'ju ndihmojë.
3. Lexojini me kujdes kërkesat dhe pastaj shënojeni vetëm përgjigjen e saktë, nga 4 mundësitë e dhëna, për të cilën besoni se është e saktë.
4. Fleta e përgjigjeve duhet të plotësohet vetëm me laps të thjeshtë - laps HB.
5. Mbusheni kodin (në rreth) e përgjigjes së saktë me laps të thjeshtë, pa e shkarravitur jashtë. Shih shembullin e mëposhtëm.



6. Kini kujdes që përgjigjen e saktë të një pyetjeje të mos ia vendosni pyetjes tjetër të radhës.
7. Në Fletën e përgjigjeve nuk bën të shkruani tjetër gjë, përveç përgjigjeve për të cilat jeni të bindur se janë të sakta.
8. Përgjigjet e sakta plotësohen njëkohësisht – në Test dhe në Fletën e përgjigjeve.
9. Çdo lloj llogaritjeje mund ta bëni në faqen e fundit të testit, ndërsa në fletën e përgjigjeve nuk bën të shkruani tjetër gjë, përveç përgjigjeve, për të cilat jeni të bindur se janë të sakta.
10. Mos humbni kohë me pyetjet që nuk i dini, sepse koha mund të mos ju mjaftojë për pyetjet e tjera.
11. Përdoreni deri në fund kohën e testimit, në mënyrë që t'u përgjigjeni të gjitha pyetjeve.

GJUHË SHQIPE

Lexo fragmentin e dhënë më poshtë dhe përgjigju pyetjeve vijuese

"Meqenëse pata një armëpushim me armiqtë e mij turq, nuk desha t'ja kursej ndihmën time mikut tim Ferdinando, sepse Alfonsi, i jati i tij, më ka ndihmuar në luftë kundër turkut.

Sa për punë fisnikërie që ti më përmend unë dua të të kujtoj se sot fisnik të bën vetëm një luftë e drejtë dhe e ndershme. Mos harro këtë që po të them, nuk ka fisnikëri më të madhe se trimëria dhe neve nesër do t'ja shohim fisnikërinë njëri tjetrit.

Deri më sot që jam duke luftuar me ushtarët e tu, s'kam parë asnjë trim tëndin që të guxojë të më vështrojë drejt e në sy siç bëj unë me ata!

Unë nuk e kam zili shtëpinë tënde dhe të askujt mbase më mjafton shtëpia ime, por, nëse do të ngelesh gjallë, kërkoj që të mos i prekësh kurrë tokat e mikut tim Ferdinando!

Mbeç me shëndet! Skënderbeu."

1. Fragmenti i mësipërm është pjesë e një:

- A. fjalimi
- B. shkrese
- C. letërkëmbimi
- D. kredenciali

2. Fragmenti mbizotërohet nga diskursi:

- A. politik
- B. religjioz
- C. historik
- D. letrar

3. Ironia shprehet në fjalinë:

- A. pata një armëpushim me armiqtë e mij turq
- B. sot fisnik të bën vetëm një luftë e drejtë
- C. unë nuk e kam zili shtëpinë tënde
- D. nesër do t'ja shohim fisnikërinë njëri tjetrit

4. Periudha: "*Meqenëse pata një armëpushim me armiqtë e mij turq, nuk desha t'ja kursej ndihmën time mikut tim*" shpreh marrëdhënie:

- A. kushtore
- B. shkakore
- C. lejore
- D. kundërshtore

Lexo fragmentin e dhënë më poshtë dhe përgjigju pyetjeve vijuese

Askush nuk do të ishte i interesuar të investojë në kapacitete që mund t'i shfrytëzojë vetëm një çerekshekulli. Nëse duhen pesë vjet për ndërtimin e termocentralit, koncesionarit i mbeten 20 vjet që ta shfrytëzojë këtë pasuri. Kur kemi parasysh shkallën e amortizimit të kapaciteteve prodhuese, fitimi do të jetë i barabartë me zero. Për këtë kohë investitori ka mundësi të kthejë edhe tërë kapitalin që e ka futur. Ai nuk humb asgjë. Të këtilla janë edhe përvojat nga vendet që i kanë dhënë pasuritë e tyre në shfrytëzim për afate të caktuara. Duket se për këtë vendim janë marrë për bazë vetëm rezervat e qymyrit.

(Marrë dhe përshtatur nga gazeta *Express*)

5. Fragmenti i mësipërm i takon zhanrit të:

- A. reportazhit
- B. komentit
- C. analizës
- D. lajmit

6. Nga teksti i dhënë më lart del se investimet e huaja në Kosovë:

- A. Nuk janë atraktive për shkak të afatit të shkurtër të koncesionimit
- B. Nuk janë atraktive për shkak të mungesës së resurseve natyrore
- C. Janë atraktive për shkak të afatit të shkurtër të koncesionimit
- D. Janë atraktive për shkak të resurseve të bollshme natyrore

7. Informata themelore që nxirret nga ky fragment është:

- A. Koncesionimi nuk është mbështetur në përvojat e vendeve të tjera
- B. Investuesit e huaj dalin me humbje nga periudha e koncesionit
- C. Afatet kohore për koncesionim janë tepër të shkurtra
- D. Investuesit dalin me fitime nga periudha e koncesionit

8. Periudha: “*Të këtilla janë edhe përvojat nga vendet e tjera*” në kohën më se të kryer të mënyrës habitore bën:

- A. Të këtilla paskëshin qenë edhe përvojat nga vendet e tjera
- B. Të këtilla paskan qenë edhe përvojat nga vendet e tjera
- C. Të këtilla qenkëshin edhe përvojat nga vendet e tjera
- D. Të këtilla qenkan edhe përvojat nga vendet e tjera

Lexo fragmentin e dhënë më poshtë dhe përgjigju pyetjeve vijuese

Në aktet juridike e shkresat zyrtare të zbatohet drejtshkrimi i njësuar dhe norma e gjuhës letrare kombëtare. Për këtë arsye urdhërohet ministria e arsimit, institucionet qendrore, komitetet ekzekutive të këshillave popullore, të rretheve, ndërmarrjet e mëdha, organet e shtypit, teatrot profesioniste, kinostudioja, të kenë redaktorë letrarë me arsimim të lartë filologjik të cilët përgjigjen për çdo material që botohet, shpallet a lexohet ose që u drejtohet organeve eprore e vartëse.

9. Përmbajtja e këtij fragmenti ngarkon me përgjegjësinë e zbatimit të drejtshkrimit të njësuar:

- A. Ministrinë e Arsimit, institucionet qendrore dhe komitetet
- B. Organet e shtypit, teatrot profesioniste dhe kinostudion
- C. Eprorët dhe vartësit që u drejtohen shkresa juridike
- D. Redaktorët letrarë me arsimim të lartë filologjik

10. Fjalinë: *Në aktet juridike e shkresat zyrtare të zbatohet drejtshkrimi i njësuar dhe norma e gjuhës letrare kombëtare, e bën urdhërore fjala a formanti:*

- A. në
- B. të
- C. zbatohet
- D. zyrtare

Lexo paragrafin e dhënë dhe përgjigju pyetjeve vijuese

- Të falem motër mos më përqafo! Unë kam një mot që po lëngoju në shtrat. Mezi kam ardhur të të marrë në shtëpi. Eja të shkojmë se të kërkon nëna.

11. Mbështetur mbi këtë pjesë të shkurtër fragmenti, ju mund të identifikoni rrethanat se fjala është për:

- A. motrën e Halil Garrisë
- B. motrën e Avdisë
- C. motrën e Gjergj Elez Alisë
- D. motrën e Mujit

12. Arsyeja pse vëllai i thotë motrës të mos e përqafojë është se:

- A. e urrente që ishte martuar pa lejen e tij
- B. kishte frikë se mund ta infektonte me sëmundjen
- C. kishte frikë se mos e zbulonte që nuk ishte i gjallë
- D. nuk kishte mjaft kohë dhe nxitonte për t'u kthyer

13. Cili nga autorët njihet me veprën e parë origjinale në gjuhën shqipe?

- A. Marin Barleti
- B. Gjon Buzuku
- C. Pjetër Budi
- D. Pjetër Bogdani

Lexo fragmentin e dhënë më poshtë dhe përgjigju pyetjeve vijuese

Nuk do ta merrja këtë libër tepër seriozisht. Kjo nuk është një përpjekje për të zgjidhur një pe në një ballkanike; nuk është studim për popujt primitivë; nuk është kontribut për dijet njerëzore dhe shpresoj se asnjëri nuk do ta lexojë për ta përmirësuar trurin e vet. Kjo duhet të lexohet ashtu siç janë përjetuar aventurat në të, me një ngarendje të hareshme të mendjes, me një shije për popujt e huaj dhe shtigje të panjohura dhe me një kënaqësi për të papriturën.

Këtu po u jap vetëm atë që kam parë, ndier dhe sidomos që kam mësuar në baritjet në mesin e fiseve në brendi të maleve veriore shqiptare. Madje, kjo nuk është as e tërë Shqipëria, ai vend i vogël, tepër i vogël edhe për ta gjetur edhe në hartë. Ky nuk është pos një fragment i kësaj bote të gjerë, tjetërfare dhe romantike, që ua sjell me vete një shtegtare atyre që rrinë në shtëpi.

R. W. L. (Rouz Uajlder Lein "Majat e Shalës")

14. Mbështetur në shpjegimin autorial të këtij teksti, mund të konstatohet se ky libër është i zhanrit:

- A. autobiografik
- B. udhëpërshkrues
- C. historik
- D. letrar

- 15.** Cila nga fjalitë e këtij teksti shpreh më së miri zhanrin të cilit i takon ky libër?
- shpresoj se asnjëri nuk do ta lexojë për ta përmirësuar trurin e vet
 - kjo duhet të lexohet me një ngarendje të hareshme të mendjes
 - kjo duhet të lexohet me një shije për popujt e huaj dhe shtigje të panjohura
 - këtu po u jap vetëm atë që kam parë, ndier dhe sidomos që kam mësuar
- 16.** Kuptimisht, fjalisë: “*duhet të lexohet ashtu siç janë përjetuar aventurat në të*” **nuk** i referohet vetëm fjalia:
- nuk do ta merrja këtë libër tepër seriozisht
 - libri nuk është kontribut për dijet njerëzore
 - Shqipëria është vend i vogël edhe për ta gjetur në hartë
 - po ua jap vetëm atë që kam parë, ndier e sidomos mësuar
- 17.** Përgjatë gjithë fragmentit, autorja përpiket të shpjegojë:
- të dhënat që ofron në libër
 - se Shqipëria është një vend i vogël
 - se veriu i Shqipërisë është primitiv
 - zgjidhjen e nyjës ballkanike
- 18.** Në aspektin kompozicional, fragmenti i shkëputur mund të vendoset:
- vetëm në fund të librit
 - vetëm në fillim të librit
 - vetëm në mes të librit
 - qoftë në fillim qoftë në fund

Lexo poezinë e dhënë më poshtë dhe përgjigju pyetjeve vijuese

Le mbas vetes Detin, Malin, Tokën, Fushën,
E shtëpisë së moçme i vë dry në derë
Me litar shpëtimi prapë e lidhe gushën
Frymën zënë që pate e hudhe në erë

I ikur nga dheu nis mërgim të ri
Ta gjesh botën tënde që ik diku larg
Nëpër terr të qiellit që të vesh në zi
Ndjek yjet e shpresës të nisur në varg

Me ngulm e ndjek kohën që ik e ik
Ajo të vjen mbas gjurmëve si breshkë
Duke ngrënë veten në fund gjaku pik
I kuq, jo i zverdhur si gjethi në vjeshtë

Këmba doras koha nuk është ti, është rrenë
Nuk do ta thotë lajmin pos qeshjes së kotë
Tash gjurmët e breshkës i ruan një qen
Në qafë i var ndërrimet që bëhen në botë

.....
(Sabri Hamiti “*Trungu Ilir*”)

- 19.** Në këtë poezi shprehet një ndjesi e rrëfimit lirik për:
- kthimin
 - largimin
 - zemërimin
 - përmallimi

20. Vargjet: *Nëpër terr të qiellit që të vesh në zi
Ndjek yjet e shpresës të nisur në varg,*
janë gërshetim i figurës së:

- A. hiperbolës dhe alegorisë
- B. personifikimit dhe krahasimit
- C. antitezës dhe ironisë
- D. metaforës dhe simbolit

21. Cila vetë është subjekt lirik i kësaj poezie?

- A. veta e parë njëjës
- B. veta e parë shumës
- C. veta e dytë njëjës
- D. veta e dytë shumës

22. Kjo poezi është me:

- A. rimë të alternuar dhe varg të matur
- B. rimë të kryqëzuar dhe varg të bardhë
- C. rimë të puthur dhe varg të lirë
- D. rimë të ndërprerë dhe varg të thyer

Lexo fragmentin e dhënë më poshtë dhe përgjigju pyetjeve vijuese

I.

Terri u derdh, e një rrigë e praruar e rrezëve të hënës e lau kreshtën e malit, luginën dhe u ngrit poshtë, atje mbi syprinën e lëmuar të lumit që rimon buzët dredharake të fushës. Çdo gjë është lidhur e shtrënguar mirë e mirë nga penjtë e qetësisë, nga penjtë e kësaj heshtjeje, e cila është e rëndë, e palëvizshme. Edhe qyqja hesht. As bulku nuk dëgjohet. Çdo gjë është struktur në vetvete, është mbyllur e kyçur në therrën e gjumit.

E lart, atje lart nëpër hapësirën e kupës së qiellit, një yll noton duke lënë mbas vetes një hark të gjatë vezullues.

II

Një klithmë u dëgjua.

Korbi krokati.

E penjtë e qetësisë u prenë si me shpatë.

Lisat e gjatë, që duken si fantazma të trishtueshme, shushuruan. Edhe qyqja kukati tri herë. As bulku nuk mbeti pa lëshuar zë.

Kurse hëna ndali rigën e praruar të rrezeve të veta. Ajo u fsheh mbas një reje me skaje të grisura. Nuk desh të shihte krimin, nuk desh të përlyhej nga pikat e gjakut që i lëshonte prerja e korbit.

Një hije, si hije vdekjeje, kaploi vendin.

(Anton Pashku “*Klithma*”)

23. Cila nga strukturat e fjalisë nis thyerjen e atmosferës në këtë rrëfim?

- A. edhe qyqja hesht
- B. një klithmë u dëgjua
- C. qyqja kukati tri herë
- D. as bulku nuk dëgjohet

24. Përmasa e prishjes së qetësisë shprehet më së miri me fjalinë:

- A. terri u derdh, e një rrigë e praruar e rrezëve të hënës e lau kreshtën e malit
- B. çdo gjë është struktur në vetvete, është mbyllur e kyçur në therrën e gjumit
- C. e lart, atje lart nëpër hapësirën e kupës së qiellit, një yll noton
- D. lisat e gjatë, që duken si fantazma të trishtueshme, shushuruan

25. Figura e simbolit vërehet në shprehjen:

- A. fantazma të trishtueshme
- B. ishte e struktur në vetvete
- C. penjtë e qetësisë u prenë
- D. ajo u fsheh mbas një reje

Lexo fragmentin e dhënë më poshtë dhe përgjigju pyetjeve vijuese

...Kush mundetë me i raam mboh se ma i vobek kje Vuça Pasha, i silli, për të mbledhë një ushtërij 12 mijë vetësh, nuk' imbastuenë shumë milionj aarm, se Kelmandasitë tanë, të sijtë, me një zaan' – Eja kush anshtë trim – mbëledhunë afërë 500 vetë, vraanë, Vuçe Pashënë, vjetit së Krishtit 1639, e ndë nevojë mpsuen me granë lëkurën' e qarrit, posi të begatët majën' e miellit ende atyne ajo gjellë ma shije u ka, se pashallarëvet e sanxhakëvet mishi i kingjave e vjetëvat njomë....

(Pjetër Bogdani “*Burrënija e malësorëve*”)

26. Gjuha e këtij fragmenti i takon:

- A. gegërishtes së shek. XVI
- B. gegërishtes së shek. XVII
- C. toskërishtes së shek. XVI
- D. toskërishtes së shek. XVII

27. Nëse fjalia: “*Kush mundet me i raam mboh se Kelmandasitë tanë, me një zaan mbëledhunë afërë 500 vetë.*”, kthehet në shqipen e sotme standarde, bën:

- A. Kush mund ta mohojë se kelmendasit tanë me një zë mblodhën 500 veta.
- B. Kush mund ta mohojë se kelmendasit tanë me një za mblodhën 500 veta.
- C. Kush mund ta mohon se kelmendasit tanë me një zë mblodhën 500 veta.
- D. Kush mund ta mohon se kelmendasit tanë me një za mblodhën 500 veta.

Lexo vargjet e mëposhtme dhe përgjigju pyetjeve

Në mes tuaj kam qëndruar

E jam duke përvëluar,

Që t'u ap pakëzë dritë,

Natënë t'ua bënj ditë.

Do të tretem, të kullohem,

Të digjem, të përvëlohem,

Që t'u ndrinq mir' e të shihni,

Njëri-tjatërin të njihni.

(Naim Frashëri “*Fjalët e qiririt*”)

28. Poezia e mësipërme është e shkruar në frymë:

- A. iluministe
- B. klasiciste
- C. realiste
- D. surrealiste

29. Neologjizmat janë karakteristike tipike për poezinë e:

- A. Bejtexhinjve
- B. Realizmit
- C. Rilindjes
- D. Modernitetit

Lexo paragrafin e dhënë dhe përgjigju pyetjes

Ai është i ri, kryetrim, i vrullshëm dhe në zemërim i papërmbajtur, që ka përdhosur kufomën e armikut të vranë, Hektorit, duke e tërhequr përreth mureve të Trojës pa çarë kokën për lutjet e një plaku të pafuqishëm - Priamit.

30. Për cilin nga heronjtë e veprave të Homerit bëhet fjalë?

- A. Hektori
- B. Agamemnoni
- C. Odiseu
- D. Akili

ENGLISH LANGUAGE

31. Choose the correct alternative to complete the following sentence:

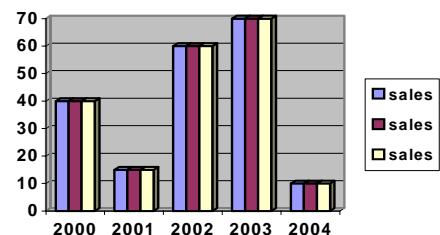
Kosova declared its independence on 17/02/2008.

The Independence of Kosova was declared on _____.

- A. the seventeenth of February, two thousand and eight
- B. the seventeenth of two thousand and eight, February
- C. the February of seventeenth, two thousand and eight
- D. the seventeenth February of two thousand and eight

32. This graph shows the business scale of a company during five years period. Look at the chart below and choose the correct sentence:

- A. In the year 2001 sales rose slightly.
- B. In 2002 sales rose rapidly.
- C. In 2003 there was a steady fall of sales.
- D. In the five year period the sales rose steadily.



33. Read the following sentences:

1. Oh, he's a very good friend of mine.
2. I can't believe this. How come you never mentioned him?
3. You've never asked me, have you?
4. Where have you been all day? The boss was asking for you.
5. I had lunch with a very interesting man, Tom Henson.

The correct order of sentences to form a dialogue is:

- A. 3 2 1 5 4
- B. 1 2 3 4 5
- C. 4 5 1 2 3
- D. 5 4 3 1 2

34. ONLY ONE of the words below CANNOT be used to complete the following sentence. Which one?

My friends constantly speak well of our professors. They say they are very much _____ to their professors for everything they did for them for all these years.

- A. obliged
- B. indebted
- C. thankful
- D. infuriated

35. Read this text and then choose a sentence to complete the paragraph:

I am planning to continue my studies. I always wanted to study in England. Last month, I applied and I took an English language test but I was just two points short to pass it. That's why _____.

- A. I started learning English again
- B. I am very happy
- C. I am very surprised
- D. I am planning to quit

36. In the following dialogue:

Barbara: I have always imagined him _____.

Peter: Me too, but he seems quite a nice guy.

from the following words:

- 1. differently
- 2. likely
- 3. hopefully
- 4. unlikely

Barbara should say, '**differently**' because _____.

- A. it is probable that he should look similar
- B. it is expected that he should be similar
- C. the reality does not fit the image she had in her mind
- D. it is improbable that he doesn't look as she expected

37. Choose the correct answer to complete the sentence:

This is the _____ drink I have ever drunk.

- A. sweetest
- B. sweeter
- C. more sweet
- D. most sweet

38. The sentence: 'Everybody wants to be rich and famous.' is in the _____.

- A. Present continuous tense
- B. Present simple tense
- C. Past simple tense
- D. Future continuous tense

39. Look at the following adjectives. One of them DOES NOT exist. Which one?

- A. careful
- B. fruitful
- C. rightful
- D. funniful

40. Choose the best way to join the following sentences:

We arrived very late that day.

The teacher told us to wait until the next class.

- A. We arrived very late that day so the teacher told us to wait outside.
- B. We arrived very late that day since the teacher told us to wait outside.
- C. We arrived very late that day but the teacher told us to wait outside.
- D. We arrived very late that day or the teacher told us to wait outside.

41. Choose the correct sentence:

- A. In France as parts of Italy they speak French as well.
- B. They in France speak French as well as parts of Italy.
- C. They speak French in France as well as parts of Italy.
- D. They French speak in Italy as well as parts of France.

42. Look at the words in the box:

away - several – got – money – robbers – bags – the – with - of

The correct combination to form a sentence is:

- A. The robbers got with several away bags of money.
- B. The robbers got away with several bags of money.
- C. The robbers with bags got away several of money.
- D. The robbers with several bags got away of money.

43. Which word is different?

- A. blue
- B. quick
- C. hard
- D. slow

44. Read the following sentences and then choose a sentence to complete the dialogue:

We always _____ the flowers in the evening.

The world faces the _____ crisis.

- A. watch
- B. drink
- C. care
- D. water

45. One of the words below DOES NOT rhyme with the word meat? Which one?

- A. mean
- B. seen
- C. slim
- D. feast

46. In the string of words: **books, shelves, magazines, novels, anthologies**, the word **shelves** is different because _____.

- A. it is a noun
- B. it is in plural
- C. it can be read
- D. it can't be read

47. Read the paragraph carefully:

Angela Bond is a student. **I suppose she is a first year student. She studies French and Spanish at Oxford University.** She's wearing a white skirt – its quite long – with a green blouse, and white shoes. She's around average height, and she's got brown hair and dark brown eyes.

Look at the highlighted part of the text and complete the following sentence:

The author _____.

- A. is sure she's a first year student
- B. isn't sure if she is in her first year of studies
- C. doesn't tell in which year of studies she is
- D. is quite convinced that she is not a student

48. The following sign means that _____

- A. this is where you can get information you are interested in
- B. this is where you have to answer all the questions
- C. this is where people can ask you all questions
- D. this is where people are interviewed



49. This sport is very popular in the English speaking world and especially in America. It is known as:

- A. cricket
- B. polo
- C. baseball
- D. soccer



50. Read the following paragraph:

Two airplanes are taking off at the same time from Berlin Airport: a Boeing 747 with 452 passengers and the crew of 3 and an Airbus A310 carrying 220 passengers and 3 crew members. They are flying to London. The total number of people on board of the two planes is _____.

- A. 667
- B. 678
- C. 687
- D. 676

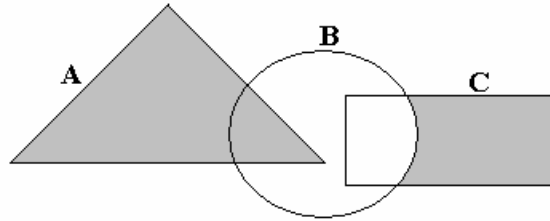
MATEMATIKË

51. Pas thjeshtimit shprehja $A = \frac{x^2 - 5x}{x+1} \cdot \frac{x^2 - 1}{x-5}$ ka formën :

- A. $A = x(x-1)$
- B. $A = \frac{2}{x-1}$
- C. $A = \frac{2}{x+1}$
- D. $A = x(x+1)$

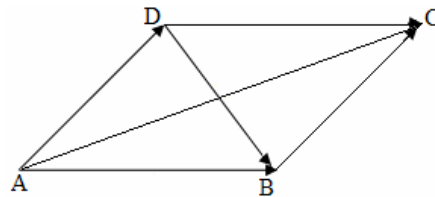
52. Është dhënë diagrami. Cila shprehje i përgjigjet pjesës së hijesuar në diagram ?

- A. $A \setminus (B \cup C)$
- B. $A \cup (B \setminus C)$
- C. $A \cup (C \setminus B)$
- D. $(A \cup C) \setminus B$



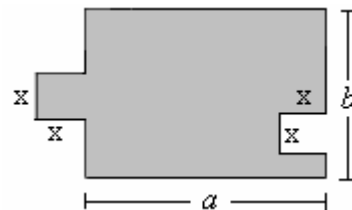
53. Është dhënë figurat. Cila shprehje paraqet shumën $\vec{AB} + \vec{BC}$?

- A. $\vec{AB} + \vec{BC} = \vec{DB}$
- B. $\vec{AB} + \vec{BC} = \vec{DC}$
- C. $\vec{AB} + \vec{BC} = \vec{AD}$
- D. $\vec{AB} + \vec{BC} = \vec{AC}$



54. Është dhënë figura. Cila nga shprehjet vijuese paraqet syprinën e figurës?

- A. $a \cdot b$
- B. $a \cdot b - x^2$
- C. $a \cdot b + x^2$
- D. $a + b + x^2 + 2x$

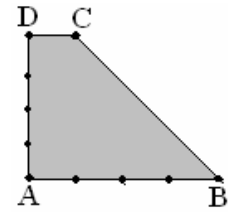


55. Cilat janë zgjidhjet e ekuacionit: $\frac{2x+1}{x} - x = 2$?

- A. $x_1 = -\frac{1}{2}, x_2 = \frac{1}{2}$
- B. $x_1 = -\frac{1}{3}, x_2 = \frac{3}{3}$
- C. $x_1 = -1, x_2 = 1$
- D. $x_1 = -2, x_2 = 2$

56. Është dhënë trapezi kënddrejtë ABCD me kënde të drejta te kulmi A dhe D dhe me brinjë $[AB] = 4 \text{ cm}$, $[AD] = 4 \text{ cm}$ dhe $[DC] = 1 \text{ cm}$. Sa është perimetri i trapezit?

- A. $P = 12 \text{ cm}$
- B. $P = 14 \text{ cm}$
- C. $P = 16 \text{ cm}$
- D. $P = 18 \text{ cm}$



57. Është dhënë funksionit $f(x) = \frac{1}{2}(x^2 - 1)$. Sa është vlera: $3 \cdot f(-1) + 4 \cdot f(0)$?

- A. 1
- B. 2
- C. -1
- D. -2

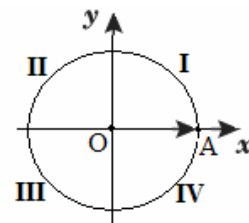
58. Është dhënë brinja e kubit $a = (x + 1) \text{ cm}$. Në qoftë se brinja e kubit zvogëlohet për 1 cm , atëherë sa është syprina e kubit?

- A. $S = x^2 \text{ cm}^2$
- B. $S = (x - 1)^2 \text{ cm}^2$
- C. $S = 6x^2 \text{ cm}^2$
- D. $S = 6(x - 1)^2 \text{ cm}^2$

59. Në rrethin e dhënë \overrightarrow{OA} paraqet rrezevektori i fillimit të këndit $x = \frac{11\pi}{4}$ ku $\pi = 180^\circ$.

Në cilin kuadrant ndodhet rrezevektori i mbarit të këndit x ?

- A. I
- B. II
- C. III
- D. IV



60. Janë dhënë gjykimet:

$$p: \frac{1 + \frac{1}{4}}{2 - \frac{1}{3}} = \frac{3}{4};$$

$$q: \frac{2}{3} + \frac{5}{4} = \frac{8 + 15}{7} = \frac{13}{7};$$

$$r: \text{Zgjidhja e sistemi të ekuacionit: } \left. \begin{array}{l} x^2 - y^2 = 3 \\ 2x - y = 2 \end{array} \right\} \text{ është } x = 2, y = -1.$$

Cili nga pohimet është i saktë:

- A. Vetëm gjykimi p është i saktë.
- B. Vetëm gjykimi q është i saktë.
- C. Vetëm gjykimi r është i saktë.
- D. Të tre gjykimet janë të saktë.

61. Me cilën shprehje është e barabartë shprehja $\frac{3x^6y^5z^3}{2xz^8} \cdot 8x^2y^4z^3$?

- A. $\frac{12x^7y^3}{z^2}$
- B. $\frac{12x^5y^9}{z^2}$
- C. $12x^7y^9z^{-2}$
- D. $12x^7y^9z^2$

62. Sa është vlera e x ashtu që mesi aritmetik i numrave: 3, 7, 13, x , 5 të jetë i barabartë me 8 ?

- A. 6
- B. 8
- C. 10
- D. 12

63. Është dhënë numri kompleks $z = (2+i)^2$, (ku $i = \sqrt{-1}$). Vlera reale imagjinare $\text{Im}(z)$ është:

- A. $\text{Im}(z) = 3$
- B. $\text{Im}(z) = 4$
- C. $\text{Im}(z) = -3$
- D. $\text{Im}(z) = -4$

64. Cili barazim paraqet probabilitetin e kundërt të ngjarjes A ?

- A. $P(\bar{A}) = \Phi$
- B. $P(\bar{A}) = 1 + P(A)$
- C. $P(\bar{A}) = 1 - P(A)$
- D. $P(\bar{A}) = 1 - P(\bar{A})$

65. Është dhënë barazimi $\frac{4 \cdot 9}{16} = 2^a \cdot 3^b$. Sa është shuma $a + b$?

- A. 0
- B. 2
- C. 4
- D. 6

66. Sa korda mund të caktohen me 7 pika në një vije rrethore?

- A. 14
- B. 15
- C. 20
- D. 21

67. Cili nga thyesat e mëposhtme ka vlerë më të madhe për çdo x numër pozitiv ?

- A. $\frac{x-1}{x}$
- B. $\frac{x+2}{x+1}$
- C. $\frac{x-1}{x+1}$
- D. $\frac{x}{x+1}$

68. Një shitëse lulesh në një panair që zgjati 7 ditë shiti: në ditën e parë 6 lule në ditën e dytë 10 në ditën e tretë 15 në ditën e katër 21 lule dhe kështu me radhë. Sa lule ajo shiti në ditën e fundit në se vazhdimisht rritej shitja sipas rregullës së fituar ?

- A. 40
- B. 43
- C. 45
- D. 47

69. Cili jobarazim është i saktë për vlerën e $\cos 100^\circ$?

- A. $-\frac{1}{2} < \cos 100^\circ < 0$
- B. $-1 < \cos 100^\circ < -\frac{1}{2}$
- C. $0 < \cos 100^\circ < \frac{1}{2}$
- D. $\frac{1}{2} < \cos 100^\circ < 1$

70. Ndryshimi i dy numrave është 5, ndërsa prodhimi i tyre është 104. Cilët janë ata numra?

- A. 6 dhe 11
- B. 7 dhe 12
- C. 8 dhe 13
- D. 9 dhe 14

INFORMATIKË

71. Opsioni i zgjedhur në figurë mundëson:

- A. Mbylljen e animacionit
- B. Përgatitjen e animacionit
- C. Përgatitjen e nën animacionit
- D. Shikimin paraprak të animacionit



72. Frekuenca e taktit të një mikroprocesori (njësia qendrore e përpunimit të të dhënave-CPU) , vlerësohet me njësinë:

- A. Shumëfishe të njësisë Hz (MHz, GHz)
- B. Shumëfishe të njësisë Bajt (KB, MB,GB)
- C. Shumëfishe të njësisë Bit (Kb, Mb, Gb)
- D. MIPS

73. Dëshironi të përdorni postën elektronike gjatë një udhëtimi të gjatë. Cila nga alternativat në vijim mund të lehtësoj pranimin dhe dërgimin e e-mailave gjatë udhëtimit?

- A. Website personal në Internet
- B. Një e-mail llogari e bazuar në Web
- C. Anëtarësimi në një grup diskutues në Internet
- D. Një llogari e shfrytëzuesit të 'chat' faqeve

74. Rrjeti Ethernet pa tela , i cili mundëson lidhjen e kompjuterëve mobil, telefonave mobil dhe pajisjeve tjera të dorës, quhet:

- A. MAN (Metropolitan Area Network)
- B. LAN (Local Area Network)
- C. PAN (Personal Area Network)
- D. WAN (Wide Area Network)

75. Cila pjesë e Web adresës tregon domenin kryesor të Web faqes së paraqitur?

- A. http://
- B. net
- C. www
- D. enlight

76. Në bazë të të dhënave në figure, çfarë vlere do të fitohet në celulën F11?

- A. 300.00
- B. 54.00
- C. 21.50
- D. 74.00

	A	B	C	D	E	F	G
1			Tabela e shpenzimeve Mujore				
2							
3			Shpenzimi			Vlera	
4			Qiraja			300.00 €	
5			Telefoni fiks			42.00 €	
6			Telefoni mobil			54.00 €	
7			Pagesa per uje			6.20 €	
8			Pagesa per rryme			21.50 €	
9			Tjera			74.00 €	
10							
11						=MAX(F5;F9)	
12							

77. Hiperlidhja mund të krijohet për të ndërlidhur dy dokumente në:

- A. Kompjuter, rrjet, Intranet të korporatës ose në Internet
- B. Në një Gjuhë programuese
- C. Në një Firewall
- D. Në një tabelë

78. Opsioni **Tasks** në programin **MS Outlook**, ka të bëjë me:

- A. Krijimin e notesit elektronik,
- B. Detyrimet të cilat duhet të kryhen
- C. E-mai mesazhet që pranohen,
- D. Ruajtjen e adresave të kontaktit

79. Ndryshimin e të dhënave në programin **MS Excel** e mundëson tasti:

- A. Alt
- B. Insert
- C. F2
- D. F5

80. Objektet: **Tables, Queries, Forms, Reports, Pages, Macros, etj.**, i takojnë programit:

- A. MS Word
- B. MS Excel
- C. MS Access
- D. MS PowerPoint

HISTORI

- 81.** Cili popull u formua nga fiset: dor, akej dhe jon?
A. Sllavë
B. Grekë
C. Ilirë
D. Hungarezë
- 82.** Lufta e Dytë Botërore përfundoi me disfatën e:
A. Francës
B. Anglisë
C. Gjermanisë
D. Polonisë
- 83.** Gjendjen e krijuar në Greqi pas fitoreve të dorëve e paraqet Homeri, në një nga poemat e tija ku flitet për luftën e Trojës.
Në tekstin e dhënë bëhet fjalë për:
A. Iliadën
B. Odisean
C. Eneida e Virgjilit
D. Epin e Gilgameshit
- 84.** "Koalicioni i forcave ballkanike i përbërë nga princërit, mbretërit dhe fisnikët shqiptarë, bullgarë, boshnjak, rumun, hungarez, serb etj, u bashkua në luftë kundër osmanve. Në betejën e zhvilluar me 15 qershor 1389 u vranë shumë luftëtar në mesin e të cilëve edhe Sulltan Murati i parë dhe Millosh Kopili?"
Në tekstin e dhënë bëhet fjalë për:
A. Rrethimin e parë të Krujës
B. Rrethimin e dytë të Krujës
C. Betejën e parë të Kosovës
D. Betejën e dytë të Kosovës
- 85.** Cili ishte qëndrimi i politikës së xhonturqve ndaj popujve jo turq të Perandorisë pas shpalljes së kushtetutës të vitit 1908?
A. Zbatimi i sistemit politik pluralist dhe sigurimi i lirive qytetare
B. Zbatimi i sistemit politik në baza fetare dhe sigurimi i lëvizjes së lirë
C. Zhvillimi i politikës liberale që mbështetë lirinë fetare dhe gjuhësore
D. Zhvillimi i politikës nacionaliste dhe Osmanizimi i popujve jo turq
- 86.** Cilat ishin dallimet në mes të Partisë Demokratike dhe Partisë Republikane të SHBA-ve në fillim të Luftës Civile?
A. Partia Demokratike mbronte interesat e poseduesve të plantacioneve kurse Partia Republikane ishte kundër skllavërisë
B. Partia Republikane mbronte interesat e popullatës së jugut kurse Partia demokratike mbronte interesat e popullatës së veriut
C. Partia Republikane mbronte interesat e popullatës me ngjyrë të bardhë kurse Partia Demokratike mbronte interesat e zezakëve
D. Partia Demokratike mbronte interesat e industrialistëve kurse Partia Republikane mbronte skllavërinë

87. Renditni Radhitni sipas rendit kronologjik, ngjarjet te cilat shënuan fillimin e shturjes se së sistemit socialist (komunist)?

- A. Krijimi i Solidaritetit në Poloni, shpërbërja e BRSS-së dhe rënia e murit të Berlinit
- B. Krijimi i Solidaritetit në Poloni, rënia e murit të Berlinit dhe shpërbërja e BRSS-së
- C. Revolucioni në Rumani, krijimi i Solidaritetit në Poloni dhe rënia e murit të Berlinit
- D. Revolucioni në Rumani, krijimi i Solidaritetit në Poloni dhe shpërbërja e BRSS-së

88. Gjergj Kastrioti- Skënderbeu u bëri ballë Osmanëve një çerek shekulli. Cilët ishin faktorët që e mundësuan këtë qëndresë heroike të Arbërve (Shqiptarëve) ?

- A. Krijimi i ushtrisë shqiptare, caktimi i komandantit të përgjithshëm dhe mbretit shqiptar
- B. Themelimi i Lidhjes së Lezhës dhe shpallja e shtetit centralist me në krye Skënderbeun
- C. Krijimi i ushtrisë shqiptare, caktimi i komandantit të përgjithshëm dhe arkës së përbashkët
- D. Themelimi i mbretërisë shqiptare dhe shpallja e Krujës si kryeqendër e saj

89. Renditni sipas rendit kronologjik mbajtjen e organizimeve politike shqiptare.

- A. Lidhje shqiptare e Pejës, Kuvendi kombëtar i Vlorës, Lidhja shqiptare e Prizrenit
- B. Kuvendi kombëtar i Vlorës, Lidhje shqiptare e Pejës, Lidhja shqiptare e Prizrenit
- C. Kuvendi kombëtar i Vlorës, Lidhja shqiptare e Prizrenit, Lidhje shqiptare e Pejës
- D. Lidhja shqiptare e Prizrenit, Lidhje shqiptare e Pejës, Kuvendi Kombëtar i Vlorës

90. Janë dhënë pohimet:

- I. Konferenca e Helsinkit miratoi një dokument sipas të cilit kufijtë e shteteve nuk mund të ndryshohen me dhunë
- II. Konferenca e Helsinkit miratoi një dokument sipas të cilit ndaloheshin armët bërthamore në Evropë
- III. Konferenca e Helsinkit miratoi dokumentin mbi garantimin e lirive politike dhe sistemit shumëpartiak

Cili nga pohimet është i saktë?

- A. Vetëm I
- B. Vetëm II
- C. Vetëm III
- D. II dhe III

GJEOGRAFI

91. Kanionet formohen si rezultat i veprimtarisë së:

- A. akullnajave
- B. lumenjve
- C. oqeanëve dhe deteve
- D. ujërave nëntokësore

92. Në cilat male gjendet pika më e lartë Gjeravica 2656 m?

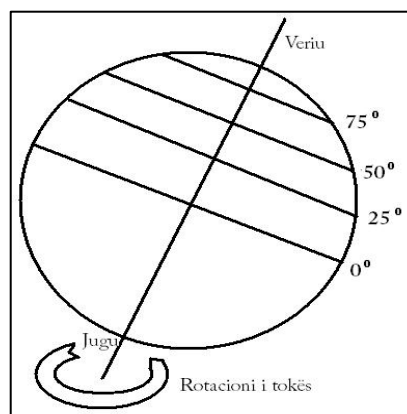
- A. Në Malet e Sharrit
- B. Në Malet Rodope
- C. Në Alpet Shqiptare (Bjeshkët e Nemuna)
- D. Në Malet Qendrore të Shqipërisë

93. Nëse në një vend dominon sektori ekonomik primar për nga funksioni ai mund të jetë:

- A. tregtar-komunikativ
- B. bujqësor-blegtoral
- C. strategjik-ushtarak
- D. turistik-kulturor

94. Cila pikë në figurën e dhënë ka shpejtësi më të vogël rrotulluese gjatë rotacionit të Tokës?

- A. 0°
- B. 25°
- C. 50°
- D. 75°



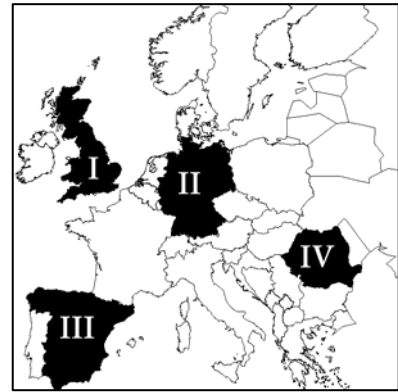
95. Cila nga zonat bimore në kontinentin e Australisë zënë sipërfaqe më të madhe?

- A. Stepet dhe shkretëtirat
- B. Zona e tundrave dhe akullnajave
- C. Pyjet halore dhe pyjet gjetherënëse
- D. Zona e pyjeve të lagështa dhe savanet



96. Nga harta e kontinentit të Evropës konstato se kryeqytet i cilit shtet është Madridi?

- A. I
- B. II
- C. III
- D. IV



97. Cili lumë i përket pellgut të Ibrit?

- A. Drini
- B. Sitnica
- C. Ereniku
- D. Lepenci

98. Janë dhënë pohimet:

- I. Prishtina është në jug të Ferizajt, jug të Podujevës dhe juglindje të Pejës
- II. Peja është në veri të Prishtinës, lindje të Podujevës dhe Jugë të Ferizajt
- III. Ferizaji është në jug të Prishtinës, jug të Podujevës dhe Juglindje të Pejës

Cilat nga pohimet është e saktë?

- A. Vetëm I
- B. Vetëm II
- C. Vetëm III
- D. I,II dhe III

99. Në cilat lloje të hartave paraqiten ujërat?

- A. Hartat fitogjeografike
- B. Hartat zoogjeografike
- C. Hartat pedologjike
- Hartat hidrologjike

100. Alaska gjendet në veri-perëndim të Amerikës dhe laget nga ujërat e:

- A. Oqeanit të Ngrirë të Veriut dhe Oqeanit të Qetë
- B. Oqeanit të Ngrirë të Veriut dhe Oqeanit Atlantik
- C. Oqeanit Atlantik dhe Oqeanit Indian
- D. Oqeanit Atlantik dhe Oqeanit të Qetë