



REPUBLIKA E KOSOVËS
REPUBLIKA KOSOVO
REPUBLIC OF KOSOVA

QEVERIA E KOSOVËS - VLADA KOSOVA - GOVERNMENT OF KOSOVA


MINISTRIA E ARSIMIT E
SHKENCËS DHE E TEKNOLOGJISË
KQSHM

MINISTARSTVO OBRAZOVANJA
NAUKE I TEHNOLOGIJE

MINISTRY OF EDUCATION
SCIENCE & TECHNOLOGY
DVSM

TESTI I MATURËS

GJIMNAZI
(SHOQËROR, GJUHËSOR)



Prishtinë, gusht 2009

Emri dhe mbiemri i nxënësit

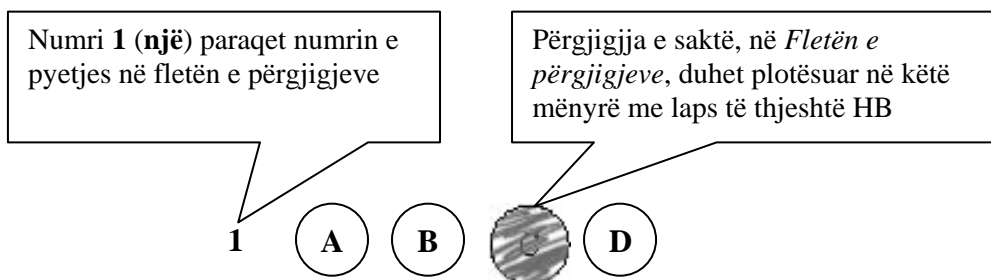
Shkolla.....

Udhëzime:

Koha: Keni 180 minuta që t'u përgjigjeni 100 kërkesave (pyetjeve). Koha numërohet prej momentit kur do të filloni t'i zgjidhni kërkesat.

Si të veproni?

1. Plotësojini me kujdes, sipas udhëzimeve, të gjitha kodet (në rreth), për: komunën, shkollën, paralelen, numrin e ditarit. Nëse këto të dhëna nuk i plotësoni saktë, nuk do të mund të nxirret rezultati i testit tuaj.
2. Para se të filloni t'u përgjigjeni pyetjeve, qetësohuni plotësisht, sepse kjo do t'ju ndihmojë.
3. Lexojini me kujdes kërkesat dhe pastaj shënojeni vetëm përgjigjen e saktë, nga 4 mundësitë e dhëna, për të cilën besoni se është e saktë.
4. Fleta e përgjigjeve duhet të plotësohet vetëm me laps të thjeshtë - laps HB.
5. Mbusheni kodin (në rreth) e përgjigjes së saktë me laps të thjeshtë, pa e shkarravitur jashtë. Shih shembullin e mëposhtëm.



6. Kini kujdes që përgjigjen e saktë të një pyetjeje të mos ia vendosni pyetjes tjetër të radhës.
7. Në Fletën e përgjigjeve nuk bën të shkruani tjetër gjë, përveç përgjigjeve për të cilat jeni të bindur se janë të sakta.
8. Përgjigjet e sakta plotësohen njëkohësisht – në Test dhe në Fletën e përgjigjeve.
9. Çdo lloj llogaritjeje mund ta bëni në faqen e fundit të testit, ndërsa në fletën e përgjigjeve nuk bën të shkruani tjetër gjë, përveç përgjigjeve, për të cilat jeni të bindur se janë të sakta.
10. Mos humbni kohë me pyetjet që nuk i dini, sepse koha mund të mos ju mjaftojë për pyetjet e tjera.
11. Përdoreni deri në fund kohën e testimit, në mënyrë që t'u përgjigjeni të gjitha pyetjeve.

Lexo fragmentin e dhënë më poshtë dhe përgjigju pyetjeve vijuese

"Gjergjit shqiptar, shëndet!

Do të ishte punë më e hijshme për ty si luftëtar i dëgjuar t'i ndiqje deri në fund turqit, për hir të dashurisë për fenë e krishtere nëse ke, dhe jo kështu si vepron ti tashti, që lë vendin tënd dhe hidhesh në Itali për të luftuar me ne të krishterët që jemi vëllezërit tu vetëm në fe, (nëse jemi pasi ti e ndërron fenë sa herë të të pëlqejë!!) Ti e quan veten luftëtar të pa thyeshëm e na je hedhur neve sipër që me plot të drejtë quhemi nga populli si të krishterë të vërtetë. Kur erdhe këtu, mos ke kujtuar se do të luftoje me turqit? Ne jemi tjetër fis. Jemi njerëz me tradita të pasura e të fisëm e jo si ju shqiptarët apo turqit.

Mbase nuk munde dot të shpëtosh shtëpinë tënde nga turqit, mendove të pushtosh shtëpinë e huaj. U gënjeve, këtu në vend të shtëpisë do të gjesh varrin tënd o Gjergj!

1. Fragmenti i mësipërm është pjesë e një:
 - A. letërkëmbimi
 - B. fjalimi
 - C. shkrese
 - D. kredenciali
2. Fragmenti mbizotërohet nga diskursi:
 - A. historik
 - B. letrar
 - C. politik
 - D. religjioz
3. Ironia shprehet në fjalinë:
 - A. ti e quan veten luftëtar të pathyeshëm e na je hedhur sipër
 - B. kur ke ardhur këtu, mos ke kujtuar se do të luftoje me turqit
 - C. u gënjeve, këtu në vend të shtëpisë do të gjesh varrin o Gjergj
 - D. jemi njerëz me tradita të pasura e jo si ju shqiptarët apo turqit
4. Periudha: "Do të ishte punë më e hijshme për ty si luftëtar i dëgjuar t'i ndiqje deri në fund turqit", shpreh marrëdhënie:
 - A. lejore
 - B. shkakore
 - C. kundërshtore
 - D. kushtore

Lexo fragmentin e dhënë më poshtë dhe përgjigju pyetjeve vijuese

Kosova nuk ka shumë alternativa sa i përket zhvillimit ekonomik dhe ofertës për investitorët e jashtëm. Promotorë të këtyre proceseve mund të jenë energjetika dhe xehetaria. Sado që ende ka vlerësime romantike se “Kosova mund ta mbajë vetveten”, megjithatë mundësitë janë shumë të kufizuara. Ato ndërlidhen me resurset, por edhe me mungesën e zgjidhjeve për valorizimin e tyre. Moskompletimi i spektrit ligjor dhe futja e pakontrolluar e konkurrencës nga importi, nxjerrin edhe dilemën se sa ia vlen të investohet në Kosovë. Sado që është një pyetje pesimiste, ajo nuk është larg realitetit tonë.

(Marrë dhe përshtatur nga gazeta *Express*)

5. Fragmenti i mësipërm i takon zhanrit të:
 - A. analizës
 - B. komentit
 - C. reportazhit
 - D. raportit
6. Nga teksti i dhënë më lart del se ekonomia e Kosovës:
 - A. Nuk ka resurse të mjaftueshme energjetike
 - B. Mund të mbështetet në spektrin aktual ligjor
 - C. Nuk është atraktive për investuesit e huaj
 - D. Mund të mbështetet në energjetikë dhe xehetari
7. Informata themelore që nxirret nga ky fragment është:
 - A. Energjetika dhe xehetaria janë atraktive për investuesit
 - B. Spektri ligjor ofron mundësi të mira për investuesit
 - C. Mungojnë zgjidhjet për valorizimin e resurseve
 - D. Kosova e mban vetveten me energjetikë dhe miniera
8. Periudha: “Kosova nuk ka shumë alternativa sa i përket zhvillimit ekonomik” në kohën më se të kryer të mënyrës habitore bën:
 - A. Kosova nuk paska shumë alternativa sa i përket zhvillimit ekonomik
 - B. Kosova nuk paskësh shumë alternativa sa i përket zhvillimit ekonomik
 - C. Kosova nuk paska pasur shumë alternativa sa i përket zhvillimit ekonomik
 - D. Kosova nuk paskësh pasur shumë alternativa sa i përket zhvillimit ekonomik

Lexo paragrafin e dhënë më poshtë dhe përgjigju pyetjeve vijuese

Të zbatohet detyrimisht norma e gjuhës letrare kombëtare sipas drejtshkrimit të njësuar. Kjo ka të bëjë me të gjitha institucionet kulturore që kanë të bëjnë me trajtën e saj të folur. Nga institucionet dhe organet përkatëse kërkohet të merren masa që punonjësit e botimeve, të teatrove, të radiotelevizionit dhe të institucioneve të tjera kulturore të përvetësojnë në mënyrë të organizuar e të kontrolluar drejtshkrimin e njësuar dhe normën e gjuhës letrare kombëtare.

9. Përmbajtja e këtij fragmenti obligon institucionet e përmendura kulturore për:
 - A. Zbatimin e normës së gjuhës letrare kombëtare në të folur
 - B. Zbatimin e gjuhës së shkruar në medie dhe teatër
 - C. Zbatimin e gjuhës së folur në medie dhe teatër
 - D. Zbatimin e normës së gjuhës letrare kombëtare në të shkruar

10. Fjalinë: *Të zbatohet detyrimisht në medie norma e gjuhës letrare kombëtare sipas drejtshkrimit të njësuar*, e bën urdhërore fjala a formanti:

- A. në
- B. të
- C. zbatohet
- D. norma

Lexo paragrafin e dhënë dhe përgjigju pyetjeve vijuese

Ai vetëm një dhembje nuk duronte dot: dhembjen për motrën e dashur të varrosur së gjalli pranë tij, në kullën e lartë, që t'ia mjekonte plagët, të përkujdesej për të.

11. Mbështetur mbi këtë paragraf, ju mund të identifikoni rrethanat se fjala është për:

- A. motrën e Kostandinit
- B. motrën e Halil Garrisë
- C. motrën e Gjergj Elez Alisë
- D. motrën e Mujit e Halilit

12. Virtyti kryesor që nxirret në pah në këtë paragraf është:

- A. Mirënjohja e vëllait për motrën e përkushtuar
- B. Përballimi i dhimbjes që shkaktonin plagët
- C. Dashuria e motrës për vëllanë e sëmurë
- D. Përkushtimi i motrës ndaj vëllait të sëmurë

13. Cili nga autorët njihet me veprën e parë të përkthyer në gjuhën shqipe?

- A. Marin Barleti
- B. Gjon Buzuku
- C. Pjetër Budi
- D. Pjetër Bogdani

Lexo fragmentin e dhënë më poshtë dhe përgjigju pyetjeve vijuese

Nuk do ta merrja këtë libër tepër seriozisht. Kjo nuk është një përpjekje për të zgjidhur një pe në nyjën ballkanike; nuk është studim për popujt primitivë; nuk është kontribut për dijet njerëzore dhe shpresoj se asnjëri nuk do ta lexojë për ta përmirësuar trurin e vet. Kjo duhet të lexohet ashtu siç janë përjetuar aventurat në të, me një ngarendje të hareshme të mendjes, me një shije për popujt e huaj dhe shtigje të panjohura dhe me një kënaqësi për të papriturën.

Këtu po u jap vetëm atë që kam parë, ndier dhe sidomos që kam mësuar në baritjet në mesin e fiseve në brendi të maleve veriore shqiptare. Madje, kjo nuk është as e tërë Shqipëria, ai vend i vogël, tepër i vogël edhe për ta gjetur edhe në hartë. Ky nuk është pos një fragment i kësaj bote të gjerë, tjetërfare dhe romantike, që ua sjell me vete një shtegtare atyre që rrinë në shtëpi.

R. W. L. (Rouz Uajlder Lein “*Majat e Shalës*”)

14. Mbështetur në shpjegimin autorial të këtij teksti, mund të konstatohet se ky libër është i zhanrit:

- A. historik
- B. letrar
- C. autobiografik
- D. udhëpërshkrues

- 15.** Cila nga fjalitë e këtij teksti shpreh më së miri zhanrin të cilit i takon ky libër?
- A. ky është një fragment i kësaj bote, që ua sjell me vete atyre që rrinë në shtëpi
 - B. këtu po u jap vetëm atë që kam parë, ndier dhe sidomos që kam mësuar
 - C. kjo nuk është as e tërë Shqipëria, ai vend i vogël, tepër i vogël
 - D. ky nuk është pos një fragment i kësaj bote të gjerë, tjetërfare dhe romantike

- 16.** Kuptimisht, fjalisë: “*Nuk do ta merrja këtë libër tepër seriozisht*” **nuk** i referohet vetëm fjalia:
- A. nuk është një përpjekje për të zgjidhur një pe në nyjën ballkanike
 - B. shpresoj se asnjëri nuk do ta lexojë për ta përmirësuar trurin e vet
 - C. nuk është as e tërë Shqipëria, ai vend i vogël për ta gjetur edhe në hartë
 - D. nuk është studim për popujt primitivë; as kontribut për dijet njerëzore

- 17.** Përgjatë gjithë fragmentit, autorja përpiqet të shpjegojë:
- A. të dhënat që ofron në libër
 - B. se Shqipëria është një vend i vogël
 - C. se veriu i Shqipërisë është primitiv
 - D. zgjidhjen e nyjës ballkanike

- 18.** Në aspektin kompozicional, fragmenti i shkëputur mund të vendoset:
- A. vetëm në fund të librit
 - B. vetëm në fillim të librit
 - C. vetëm në mes të librit
 - D. qoftë në fillim qoftë në fund

Lexo poezinë e dhënë më poshtë dhe përgjigju pyetjeve vijuese

Le mbas vetes Detin, Malin, Tokën, Fushën,

E shtëpisë së moçme i vë dry në derë

Me litar shpëtimi prapë e lidhe gushën

Frymën zënë që pate e hudhe në erë

I ikur nga dheu nis mërgim të ri

Ta gjesh botën tënde që ik diku larg

Nëpër terr të qiellit që të vesh në zi

Ndjek yjet e shpresës të nisur në varg

Me ngulm e ndjek kohën që ik e ik

Ajo të vjen mbas gjurmëve si breshkë

Duke ngrënë veten në fund gjaku pik

I kuq, jo i zverdhur si gjethi në vjeshtë

Këmba doras koha nuk është ti, është rrenë

Nuk do ta thotë lajmin pos qeshjes së kotë

Tash gjurmët e breshkës i ruan një qen

Në qafë i var ndërrimet që bëhen në botë

.....
(Sabri Hamiti, “*Trungu Ilir*”)

- 19.** Në këtë poezi shprehet një ndjesi e rrëfimit lirik për:
- A. largimin
 - B. kthimin
 - C. zemërimin
 - D. përmallimin

20. Vargjet: *Nëpër terr të qiellit që të vesh në zi*
Ndjek yjet e shpresës të nisur në varg,
janë gërshetim i figurës së:

- A. krahasimit dhe hiperbolës
- B. antitezës dhe alegorisë
- C. metaforës dhe simbolit
- D. ironisë dhe personifikimit

21. Cila vetë është subjekt lirik i kësaj poezie?

- A. veta e parë njëjës
- B. veta e dytë shumës
- C. veta e parë shumës
- D. veta e dytë njëjës

22. Kjo poezi është me:

- A. rimë të alternuar dhe varg të matur
- B. rimë të kryqëzuar dhe varg të bardhë
- C. rimë të puthur dhe varg të lirë
- D. rimë të ndërprerë dhe varg të thyer

Lexo fragmentin e dhënë më poshtë dhe përgjigju pyetjeve vijuese

I.

Terri u derdh, e një rrigë e praruar e rrezëve të hënës e lau kreshtën e malit, luginën dhe u ngrit poshtë, atje mbi syprinën e lëmuar të lumit që rimon buzët dredharake të fushës. Çdo gjë është lidhur e shtrënguar mirë e mirë nga penjtë e qetësisë, nga penjtë e kësaj heshtjeje, e cila është e rëndë, e palëvizshme. Edhe qyqja hesht. As bulku nuk dëgjohet. Çdo gjë është struktur në vetvete, është mbyllur e kyçur në therrën e gjumit.

E lart, atje lart nëpër hapësirën e kupës së qiellit, një yll noton duke lënë mbas vetes një hark të gjatë vezullues.

II

Një klithmë u dëgjua!

Korbi krokati.

E penjtë e qetësisë u prenë si me shpatë.

Lisat e gjatë, që duken si fantazma të trishtueshme, shushuruan. Edhe qyqja kukati tri herë. As bulku nuk mbeti pa lëshuar zë.

Kurse hëna ndali rigën e praruar të rrezeve të veta. Ajo u fsheh mbas një reje me skaje të grisura. Nuk desh të shihte krimin, nuk desh të përlyhej nga pikat e gjakut që i lëshonte prerja e korbit.

Një hije, si hije vdekjeje, kaploi vendin.

(Anton Pashku “*Klithma*”)

23. Cila nga strukturat e fjalisë nis thyerjen e atmosferës në këtë rrëfim?

- A. edhe qyqja hesht
- B. një klithmë u dëgjua
- C. qyqja kukati tri herë
- D. as bulku nuk dëgjohet

24. Përmasa e qetësisë shprehet më së miri me fjalinë:

- A. një rrigë e pruar e rrezëve të hënës e lau kreshtën
- B. ajo u fsheh mbas një reje me skaje të grisura.
- C. edhe qyqja hesht, as bulku nuk dëgjohet
- D. nëpër hapësirën e kupës së qiellit, një yll noton

25. Figura e simbolit vërehet në shprehjen:

- A. një hark i gjatë vezullues
- B. penjtë e qetësisë u prenë
- C. çdo gjë është lidhur e shtrënguar
- D. në hapësirën e kupës së qiellit

Lexo fragmentin e dhënë më poshtë dhe përgjigju pyetjeve vijuese

Herodian (lib. 2 Cesarum) shkruen se perëndori Çesar August' dëshëronte fort me pasunë ndër ushtërij të tijnaj t'Arbëneshëtë, përse thoj se pësonjë shumë e nukë druenë për huue për het, e se janë ma zemërorë se të tjerëtë. Posi duketë se bani Leka i madh, Skanderbegu, e 300 Maqedonas kundër panjefunet ushtërij Ksersit. E nd'e vonë (si përsipëri), malësorët tanë, të sijtë kuraj nukë përvihenë ndërë nd'anët sanxhakëvet, qefalij të një kaqi t'madhi mizuar, qi ban me djersunë gjithë shekullinë...

(Pjetër Bogdani "*Burrënija e malësorëve*")

26. Gjuha e këtij fragmenti i takon:

- A. gegërishtes së shek. XVI
- B. toskërishtes së shek. XVI
- C. gegërishtes së shek. XVII
- D. toskërishtes së shek. XVII

27. Nëse fjalia: "*Posi duketë se bani Leka i madh, e 300 Maqedonas kundër panjefunet ushtërij Ksersit*", kthehet në shqipen e sotme standarde, bën:

- A. Njëjtë veproi Leka i Madh, me 300 maqedonas kundër ushtrisë së panumërt të Ksersit.
- B. Sikur veproi Leka i Madh, me 300 maqedonas kundër ushtrisë së panumërt të Ksersit.
- C. Njëjtë veproi Leka i Madh, me 300 maqedonas kundër ushtrisë së panjohur të Ksersit.
- D. Sikur veproi Leka i Madh, me 300 maqedonas kundër ushtrisë së panjohur të Ksersit.

Lexo vargjet e mëposhtme dhe përgjigju pyetjeve

Në mes tuaj kam qëndruar

E jam duke përvëluar,

Që t'u ap pakëzë dritë,

Natënë t'ua bënj ditë.

Do të tretem, të kullohem,

Të digjem, të përvëlohem,

Që t'u ndrinq mir' e të shihni,

Njëri-tjatërin të njihni.

(Naim Frashëri "*Fjalët e qiririt*")

28. Poezia e mësipërme është e shkruar në frymë:

- A. klasiciste
- B. realiste
- C. surrealistike
- D. iluministe

29. Orientalizmat janë karakteristikë tipike për poezinë e:

- A. Bejtexhinjve
- B. Rilindjes
- C. Realizmit
- D. Modernitetit

Lexo paragrafin e dhënë dhe përgjigju pyetjes

Kjo vepër ka në epiqendër trimin i cili përjeton peripecitë e panumërta gjatë rrugës duke u kthyer nga lufta e Trojës për në atdhe, peripeci e rreziqe që ia shkaktton Poseidoni, Perëndia e Detit, të cilës ky trim ia verboi të birin, prijësin e Qiklopëve.

30. Për cilin nga heronjtë e veprave të Homerit bëhet fjalë?

- A. Hektori
- B. Agamemnoni
- C. Odiseu
- D. Akili

ENGLISH LANGUAGE

31. Choose the correct alternative to complete the following sentence:

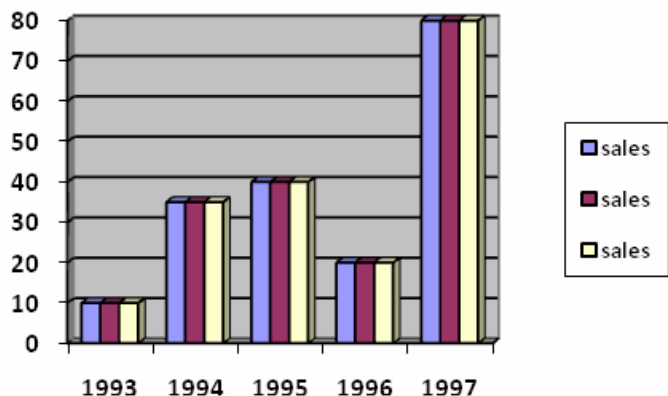
The opening ceremony of his exhibition was held on 22/07/2008.

It was held on _____.

- A. the twenty-second of July, two thousand and eight
- B. the twenty-second July, of two thousand and eight
- C. twenty-two July, at two thousand and eight
- D. twenty-second of July, in two thousand and eight

32. This graph shows the business scale of a company during five years period. Look at the chart below and choose the correct sentence:

- A. In 1994 sales fell slightly.
- B. In 1995 there was a sharp fall.
- C. In 1997 business reached the peak of its success.
- D. In the five year period sales showed constant increase.



33. Read the following sentences carefully:

1. Come on! It wasn't so bad after all, was it?
2. No, never. Too much trouble.
3. Yes, but I also remember the cold winter nights and...
4. Why? Don't you remember those green fields and the fresh air?
5. Have you ever thought of moving to the countryside?

The correct order of sentences to form a dialogue is _____.

- A. 1 2 5 4 3
- B. 5 2 4 3 1
- C. 2 1 4 5 3
- D. 4 3 5 2 1

34. ONLY ONE of the words below CANNOT be used to complete the following paragraph. Which one?

We have always very careful in our behaviour at school. We have never insulted anyone, cheated on tests, or done any mischief. We have always been very _____.

- A. respectful
- B. well-mannered
- C. rude
- D. polite

35. Read the following sentences and then choose a sentence to complete the dialogue:

Barbara: Maria and Philip are getting married.

Becky: _____

Barbara: They're in love, remember?

- A. It isn't very interesting, is it?
- B. And they did not see you?
- C. What a sad story.
- D. This can't be true.

36. In the following dialogue:

Barbara: I have always imagined him differently.

Peter: _____ , but he seems quite a nice guy.

From the following words:

- 1. So did I
- 2. Me neither
- 3. Hopefully
- 4. Unlikely

Peter should say, '**So did I.**' because _____.

- A. Peter agrees with Barbara
- B. Peter disagrees with Barbara
- C. Peter hopes he is different
- D. Peter doesn't believe he is different

37. Choose the correct answer to complete the sentence:

I always wanted to have black _____.

- A. hairs
- B. hair
- C. hair's
- D. hairy

38. The sentence: 'My brother is doing a test right now.' is in the _____.

- A. Present simple tense
- B. Present perfect tense
- C. Present continuous tense
- D. Present perfect continuous tense

39. Look at the following nouns. One of them DOES NOT exist. Which one?

- A. readiness
- B. happiness
- C. business
- D. agreeness

40. Choose the best way to join the following sentences:

We wanted to see him so much.

He was very busy as usual.

- A. We wanted to see him so much but he was very busy as usual.
- B. We wanted to see him so much and she was very busy as usual.
- C. We wanted to see him so much because he was very busy as usual.
- D. We wanted to see him so much so he was very busy as usual.

41. Choose the correct sentence:

- A. Last week I went to see my father to Canada.
- B. Last week I went to my father to see Canada.
- C. Last week I went to Canada to see my father.
- D. Last week I went to see Canada to my father.

42. Look at the words in the box:

like - would - you - I - calling - to - not - for - apologize

The correct combination to form a sentence is:

- A. I would like apologize to for not calling you.
- B. I would like to apologize for not calling you.
- C. I would not to apologize like for calling you.
- D. I would not apologize like to for calling you.

43. Which word is different?

- A. bar
- B. pub
- C. café
- D. shop

44. Read the following sentences and then choose a sentence to complete the dialogue:

I wanted to go for a _____.

You can _____, can't you?

- A. drive
- B. paint
- C. call
- D. write

45. One of the word below DOES NOT rhyme with the word **fight. Which one?**

- A. right
- B. bite
- C. fate
- D. ride

46. In the string of words: **whale, dolphin, fish, monkey, shark the word **monkey** is different because _____.**

- A. it is a noun
- B. it is an animal
- C. it lives in the sea
- D. it doesn't live in the sea

47. Read the paragraph carefully:

Mrs Fox is an elderly woman. She was born in 1918. Her hair has turned white now, but she's still got bright blue eyes. She's not very tall. **She doesn't seem to be taller than one meter fifty.** She's wearing a grey dress with a white jacket. It's an old dress, I know, because I've seen her in that dress a number of times. However, it looks very nice on her.

Look at the highlighted part of the text and complete the following sentence:

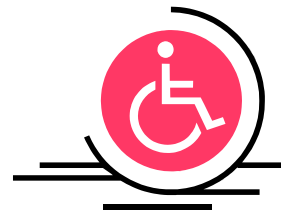
The author _____.

- A. doesn't know if she is tall or short
- B. doesn't know how tall she is exactly
- C. knows how tall she is exactly
- D. is sure she is not one meter and fifty

48. When you see this sign, you instantly know that

_____.

- A. everyone can use the facilities
- B. everyone except the disabled can use the facilities
- C. only disabled can use the facilities
- D. only disabled people cannot use the facilities



49. This sport is very popular in the English speaking world and especially in America. It is known as:

- A. cricket
- B. golf
- C. polo
- D. rugby



50. Read the following paragraph:

Two airplanes are landing on London Heathrow Airport: a Lockheed L1011 with 246 passengers and 3 members of the crew and a Boeing 767 with a crew of 2 and the total of 255 passengers. The total number of people on board of the two planes is _____.

- A. 506
- B. 560
- C. 605
- D. 650

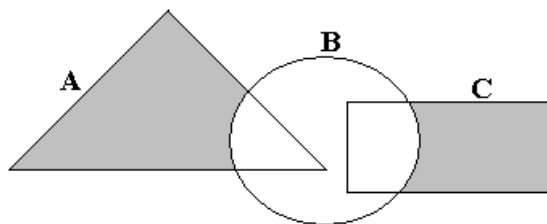
MATEMATIKË

51. Pas thjeshtimit shprehja $A = \frac{x^2 + 3x}{x-1} \cdot \frac{x^2 - 1}{x+3}$ ka formën :

- A. $A = x(x-1)$
- B. $A = x(x+1)$
- C. $A = \frac{2}{x-1}$
- D. $A = \frac{2}{x+1}$

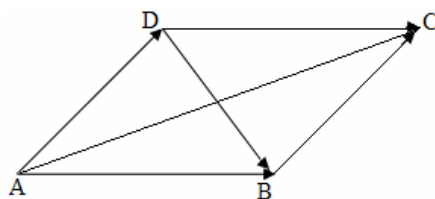
52. Është dhënë diagrami. Cila shprehje i përgjigjet pjesës së hijesuar në diagram ?

- A. $C \setminus (A \cup B)$
- B. $(A \setminus B) \cup (B \cap C)$
- C. $B \setminus (A \cup C)$
- D. $(A \cup C) \setminus B$



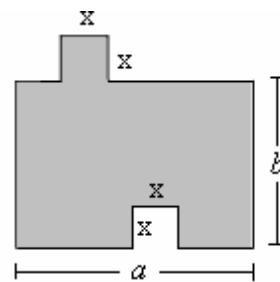
53. Është dhënë figurat. Cila është shuma e vektorëve: $\vec{AB} + \vec{AD}$?

- A. $\vec{AB} + \vec{AD} = \vec{DB}$
- B. $\vec{AB} + \vec{AD} = \vec{DC}$
- C. $\vec{AB} + \vec{AD} = \vec{AC}$
- D. $\vec{AB} + \vec{AD} = \vec{BC}$



54. Është dhënë figura. Cila nga shprehjet vijuese paraqet syprinën e figurës?

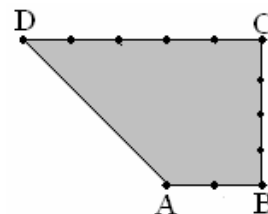
- A. $a \cdot b$
- B. $a \cdot b - x^2$
- C. $a \cdot b + x^2$
- D. $a + b + x^2 + 2x$



55. Cilat janë zgjidhjet e ekuacionit: $\frac{x+1}{x} - 1 = x$?

- A. $x_1 = -2, x_2 = 2$
- B. $x_1 = -1, x_2 = 1$
- C. $x_1 = -\frac{1}{2}, x_2 = \frac{1}{2}$
- D. $x_1 = -\frac{1}{3}, x_2 = \frac{3}{3}$

56. Është dhënë trapezi kënddrejtë ABCD me kënde të drejta te kulmi B dhe C dhe me brinjë $[AB] = 2 \text{ cm}$, $[BC] = 4 \text{ cm}$ dhe $[CD] = 5 \text{ cm}$. Sa është perimetri i trapezit?



- A. $P = 12 \text{ cm}$
 B. $P = 14 \text{ cm}$
 C. $P = 16 \text{ cm}$
 D. $P = 18 \text{ cm}$

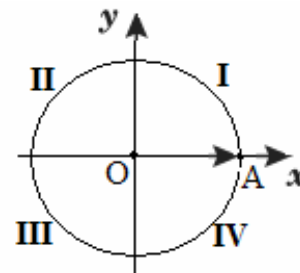
57. Është dhënë funksionit $f(x) = \frac{1}{2}(x^2 - 4)$. Sa është vlera: $2 \cdot f(-2) + 3 \cdot f(0)$?

- A. -6
 B. 6
 C. -8
 D. 8

58. Është dhënë brinja e kubit $a = (x - 1) \text{ cm}$. Në qoftë se brinja e kubit rritet për 1 cm , atëherë sa është syprina e kubit?

- A. $S = x^2 \text{ cm}^2$
 B. $S = 6x^2 \text{ cm}^2$
 C. $S = (x + 1)^2 \text{ cm}^2$
 D. $S = 6(x + 1)^2 \text{ cm}^2$

59. Në rrethin e dhënë, $[\overrightarrow{OA}]$ paraqet rrezevektorin e fillimit të këndit $x = \frac{11\pi}{3}$ ku $\pi = 180^\circ$. Në cilin kuadrant ndodhet rrezevektori i mbarit të këndit x ?



- A. I
 B. II
 C. III
 D. IV

60. Janë dhënë gjykimet:

$$p: \frac{2}{3} - \frac{5}{4} = \frac{8-15}{7} = \frac{-7}{7} = -1.$$

$$q: \frac{2 + \frac{1}{3}}{1 - \frac{1}{4}} = \frac{28}{9}.$$

$$r: \left. \begin{array}{l} \text{Zgjidhja e sistemi të ekuacionit: } x^2 + y^2 = 0 \\ x - y = 2 \end{array} \right\} \text{ është } x = 2, y = -2.$$

Cili nga pohimet është i saktë?

- A. Vetëm gjykimi p është i saktë.
 B. Vetëm gjykimi q është i saktë.
 C. Vetëm gjykimi r është i saktë.
 D. Tre gjykimet janë të saktë.

61. Me cilën shprehje është e barabartë shprehja $\frac{2x^5y^6z^4}{3xz^7} \cdot 9x^2y^3z$?

- A. $6x^6y^9z^{-2}$
- B. $6x^6y^9z^2$
- C. $\frac{6x^6y^3}{z^2}$
- D. $\frac{6x^5y^3}{z^2}$

62. Sa është vlera e x ashtu që mesi aritmetik i numrave : 5, 8, 11, x , 4 të jetë i barabartë me 6 ?

- A. 1
- B. 2
- C. 3
- D. 4

63. Është dhënë numri kompleks $z = (2+i)^2$, (ku $i = \sqrt{-1}$). Vlera reale $\text{Re}(z)$ është:

- A. $\text{Re}(z) = -3$
- B. $\text{Re}(z) = -4$
- C. $\text{Re}(z) = 3$
- D. $\text{Re}(z) = 4$

64. Cili barazim paraqet probabilitetin e kundërt të ngjarjes A ?

- A. $P(\bar{A}) = \Phi$
- B. $P(\bar{A}) = 1 - P(\bar{A})$
- C. $P(\bar{A}) = 1 + P(A)$
- D. $P(\bar{A}) = 1 - P(A)$

65. Është dhënë barazimi $\frac{6 \cdot 8}{18} = 2^a \cdot 3^b$. Sa është shuma $a + b$?

- A. 1
- B. 2
- C. 3
- D. 4

66. Sa korda mund të caktohen me 8 pika në një vije rrethore?

- A. 16
- B. 20
- C. 24
- D. 28

67. Cili nga thyesat e mëposhtme ka vlerë më të madhe për çdo x numër pozitiv ?

- A. $\frac{x+1}{x}$
- B. $\frac{x-1}{x}$
- C. $\frac{x}{x+1}$
- D. $\frac{x+1}{x+2}$

68. Një shitëse lulesh në një panair që zgjati 7 ditë shiti: në ditën e parë 7 lule në ditën e dytë 12 në ditën e tretë 18 në ditën e katër 25 lule dhe kështu me radhë. Sa lule ajo shiti në ditën e fundit në se vazhdimisht rritej shitja sipas rregullës së fituar ?

- A. 48
- B. 50
- C. 52
- D. 54

69. Cili jobarazim është i saktë për vlerën e $\sin 100^\circ$?

- A. $-1 < \sin 100^\circ < -\frac{1}{2}$
- B. $\frac{1}{2} < \sin 100^\circ < 1$
- C. $-\frac{1}{2} < \sin 100^\circ < 0$
- D. $0 < \sin 100^\circ < \frac{1}{2}$

70. Ndryshimi i dy numrave është 3, ndërsa prodhimi i tyre është 108. Cilët janë ata numra?

- A. 7 dhe 10
- B. 8 dhe 11
- C. 9 dhe 12
- D. 10 dhe 13

INFORMATIKË

71. Opsioni i zgjedhur në figurë mundëson:

- A. Fillimin e prezantimit
- B. Mbylljen e prezantimit
- C. Përgatitjen e prezantimeve
- D. Përgatitjen e nën prezantimeve



72. Frekuenca e taktit në një mikroprocesor (njësia qendrore e përpunimit të të dhënave-CPU), tregon:

- A. Numrin e operacioneve të cilat fillojnë të ekzekutohen, në njësi të kohës.
- B. Numrin e operacioneve të cilat ekzekutohen, në njësi të kohës.
- C. Numrin e operacioneve të cilat janë planifikuar të ekzekutohen, në njësi të kohës.
- D. Numrin e operacioneve të cilat nuk mund të ekzekutohen, në njësi të kohës.

73. Shkurtesa 'HTTP', është e shpeshtë në fushat e termave të lidhur me Internetin. Në cilën fushë është me rëndësi 'HTTP'?

- A. Gjatë programimit të bazave të dhënave
- B. Gjatë kërkimit të fajllave ndërmjet kompjuterëve
- C. Gjatë leximit të Web faqeve
- D. Gjatë shifrimit të shënimeve

74. Cila pjesë e Web adresës tregon domenin kryesor të Web faqes së paraqitur?

- A. http://
- B. net
- C. www
- D. enlight

75. Funkzionimin e rrjetit Ethernet pa tela, për lidhjen e kompjuterëve mobil, telefonave mobil dhe pajisjeve tjera të dorës, e mundëson:

- A. TCP/IP
- B. H232
- C. HTML
- D. Bluetooth

76. Në bazë të të dhënave në figure, çfarë vlere do të fitohet në celulën F11?

- A. 42
- B. 54
- C. 6
- D. 74

	A	B	C	D	E	F	G
1			Tabela e shpenzimeve Mujore				
2							
3			Shpenzimi			Vlera	
4			Qiraja			300.00 €	
5			Telefoni fiks			42.00 €	
6			Telefoni mobil			54.00 €	
7			Pagesa per uje			6.20 €	
8			Pagesa per rryme			21.50 €	
9			Tjera			74.00 €	
10							
11						= MIN(F4:F6)	
12							

- 77.** Dukuria e ndërlidhjes së dokumenteve ndërmjet veti, në bazë të kuptimeve të caktuara ose në bazë të grupit të fjalëve, quhet :
- A. URL
 - B. Hyperlink
 - C. TCP/IP
 - D. TCP
- 78.** Opsionet: **Outlook Today, Calendar, Inbox, Contacts, Tasks, Notes,** i takojnë programit,
- A. Google
 - B. Yahoo
 - C. MS Outlook
 - D. MS PowerPoint
- 79.** Sipërfaqja e punës në programin MS Excel përbëhet nga :
- A. Regjistrat
 - B. Hapësirat
 - C. Fushat
 - D. Celulat
- 80.** Prapashtesa e dokumenteve të programit MS Access është :
- A. .mdb
 - B. .doc
 - C. .ppt
 - D. .xcl

HISTORI

- 81.** Cili popull është autokton në Ballkan?
- A. Sllavë
 - B. Grekë
 - C. Ilirë
 - D. Hungarezë
- 82.** Lufta e Dytë Botërore filloi me sulmin e Gjermanisë kundër:
- A. Austrisë
 - B. Polonisë
 - C. Italisë
 - D. Francës
- 83.** Në tregimin mbi mbretin legjendar të Urukut, flitet për heroizmat e tij dhe të Enkidus. Ata luftonin kundër përbindëshave, të cilët njerëzve iu sillnin fatkeqësi. Në fund mbreti dhe miku i tij vdesin.
Në tekstin e dhënë bëhet fjalë për:
- A. Iliadën
 - B. Odisean
 - C. Eneida e Virgjilit
 - D. Epin e Gilgameshit

84. "Pas sukseseve të Kryengritjes së Përgjithshme, Skënderbeu me qëllim të bashkimit të gjithë forcave shqiptare në luftë kundër Perandorisë osmane ftoi me 2 mars 1444 mbajtjen e një kuvendi ku u themelua Besëlidhja shqiptare dhe Skënderbeu u caktua Komandant i Përgjithshëm i ushtrisë së posa formuar"

Në tekstin e dhënë bëhet fjalë për organizimin e:

- A. Kuvendit të Lezhës
- B. Kuvendit të Krujës
- C. Kuvendit të Pejës
- D. Kuvendit të Prizrenit

85. Cili ishte qëllimi i zbatimit të reformave të njohura me emrin Tanzimat në Perandorinë Osmane?

- A. Ripërtrirja e sistemit timar dhe fuqizimi i jeniçerëve
- B. Zhdukja e sistemit timar, riorganizimi i sistemit fiskal dhe gjyqësor
- C. Ripërtrirja e sistemit timar, e drejta e votimit për të gjithë qytetarët
- D. Ripërtrirja e sistemit timar dhe fuqizimi i pashallarëve

86. Cilat ishin dallimet politike dhe ekonomike midis veriut dhe jugut të SHBA-ve para fillimit të Luftës Civile?

- A. Veriu ishte më i zhvilluar industrialisht kurse jugu i jepte përparësi sistemit bujqësor
- B. Veriu ishte më i prapambetur industrialisht kurse jugu i jepte përparësi sistemit bujqësor
- C. Jugu ishte për heqjen e skllavërisë ndërkaq veriu e favorizonte skllavërinë
- D. Jugu ishte më i zhvilluar industrialisht dhe me liberal ndaj të drejtave të zezakëve

87. Renditni sipas rendit kronologjik, ngjarjet të cilat shënuan fillimin e shturjes së sistemit socialist (komunist)?

- A. Krijimi i Solidaritetit në Poloni, shpërbërja e BRSS-së dhe rënia e murit të Berlinit
- B. Revolucioni në Rumani, krijimi i Solidaritetit në Poloni dhe rënia e murit të Berlinit
- C. Krijimi i Solidaritetit në Poloni, rënia e murit të Berlinit dhe shpërbërja e BRSS-së
- D. Revolucioni në Rumani, krijimi i Solidaritetit në Poloni dhe shpërbërja e BRSS-së

88. Lidhja e Lezhës ishte një aleancë politike dhe ushtarake, e themeluar për të luftuar kundër osmanëve. Cilat të drejta të princërve mbetën të paprekura?

- A. Çdo anëtar i Lidhjes ruajti autonominë në zotërimet e veta, me përjashtim të Skënderbeut
- B. Anëtarët e Lidhjes nuk kishin obligime financiare dhe ushtarake
- C. Anëtarët e Lidhjes nuk kishin obligime ushtarake dhe politike
- D. Çdo anëtar i Lidhjes ruajti autonominë në zotërimet e veta, pa të drejta të ndërhynte në zotërimet e të tjerëve

89. Renditni sipas rendit kronologjik mbajtjen e Kongreseve me karakter kulturor shqiptar.

- A. Kongresi i Drejtshkrimit, Kongresi i Elbasanit, Kongresi i Manastirit
- B. Kongresi i Manastirit, Kongresi i Elbasanit, Kongresi i Drejtshkrimit
- C. Kongresi i Elbasanit, Kongresi i Manastirit, Kongresi i Drejtshkrimit
- D. Kongresi i Elbasanit, Kongresi i Drejtshkrimit, Kongresi i Manastirit

90. Janë dhënë pohimet:

- I. Konferenca e Helsinkit miratoi një dokument sipas të cilit kufijtë e shteteve nuk mund të ndryshohen me dhunë
- II. Konferenca e Helsinkit miratoi një dokument sipas të cilit ndaloheshin armët bërthamore në Evropë
- III. Konferenca e Helsinkit miratoi dokumentin mbi garantimin e lirive politike dhe sistemit shumëpartiak

Cili nga pohimet është i saktë?

- A. Vetëm I
- B. Vetëm II
- C. Vetëm III
- D. II dhe III

GJEOGRAFI

91. Cirqet formohen si rezultat i veprimtarisë së:

- A. erës
- B. lumenjëve
- C. akullnajave
- D. ujrave nëntokësore

92. Në cilat male gjendet pika më e lartë e Korabit 2751 m?

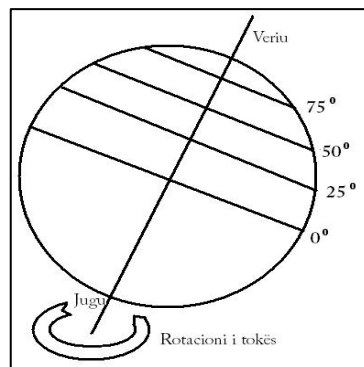
- A. Në Alpet Shqipëtare
- B. Në Malet Qendrore të Shqipërisë
- C. Në Malet Jugore të Shqipërisë
- D. Në Malet e Kopaunikut

93. Nëse në një qytet dominon sektori ekonomik sekondar, për nga funksionoi ai mund të jetë:

- A. tregtar-komunikativ
- B. strategjik-ushtarak
- C. turistik-kulturor
- D. xehtar-industrial

94. Cila pikë në figurën e dhënë ka shpejtësi më të madhe rrotulluese gjatë rotacionit të Tokës?

- A. 0°
- B. 25°
- C. 50°
- D. 75°



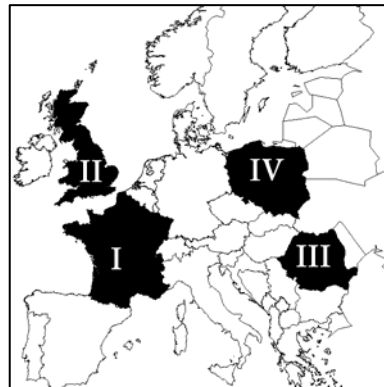
95. Cila nga zonat bimore në kontinentin e Australisë zënë sipërfaqe më të madhe?

- A. Zona e tundrave dhe akullnajave
- B. Pyjet halore dhe pyjet gjetherënëse
- C. Stepet dhe shkretëtirat
- D. Zona e pyjeve të lagështa dhe savanet



96. Nga harta e kontinentit të Evropës konstato se kryeqytet i cilit shtet është Parisi?

- A. I
- B. II
- C. III
- D. IV



97. Cili lumë i përket pellgut të Drinit?

- A. Llapi
- B. Sitnica
- C. Ereniku
- D. Lepenci

98. Janë dhënë pohimet

- I. Prishtina është në veri të Ferizajt, jug të Podujevës dhe lindje të Pejës
- II. Peja është në veri të Prishtinës, lindje të Podujevës dhe Jug të Ferizajit
- III. Ferizaji është në veri të Prishtinës, lindje të Podujevës dhe Jug të Pejës

Cilat nga pohimet është e saktë?

- A. Vetëm I
- B. Vetëm II
- C. Vetëm III
- D. I,II dhe III

99. Në cilat lloje të hartave paraqiten tipet e tokave?

- A. Hartat hidrologjike
- B. Hartat fitogjeografike
- C. Hartat zoogjeografike
- D. Hartat pedologjike

100. Grendlanda është masë tokësore e mbuluar me borë të përhershme e cila lagët nga ujërat e:

- A. Oqeanit të Ngrirë të Veriut dhe Oqeanit të Qetë
- B. Oqeanit të Ngrirë të Veriut dhe Oqeanit Atlantik
- C. Oqeanit Atlantik dhe Oqeanit Indian
- D. Oqeanit Atlantik dhe Oqeanit të Qetë