



REPUBLIKA E KOSOVËS
REPUBLIKA KOSOVO
REPUBLIC OF KOSOVA

QEVERIA E KOSOVËS - VLADA KOSOVA - GOVERNMENT OF KOSOVA


MINISTRIA E ARSIMIT E
SHKENCËS DHE E TEKNOLOGJISË
KQSHM

MINISTARSTVO OBRAZOVANJA
NAUKE I TEHNOLOGIJE

MINISTRY OF EDUCATION
SCIENCE & TECHNOLOGY
DVSM

TESTI I MATURËS

**ARSIMI
PROFESIONAL**



Prishtinë, gusht 2008

Emri dhe mbiemri i nxënësit

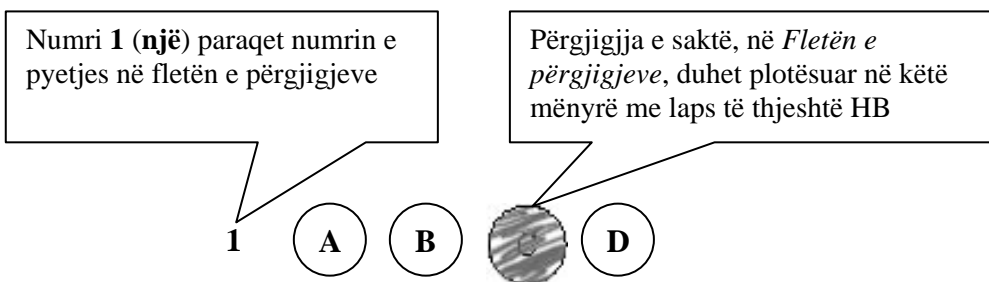
Shkolla.....

Udhëzime:

Koha: Keni 180 minuta që t'u përgjigjeni 100 kërkesave (pyetjeve). Koha numërohet prej momentit kur do të filloni t'i zgjidhni kërkesat.

Si të veproni?

1. Plotësojini me kujdes, sipas udhëzimeve, të gjitha kodet (në rreth), për: komunën, shkollën, paralelen, numrin e ditarit. Nëse këto të dhëna nuk i plotësoni saktë, nuk do të mund të nxirret rezultati i testit tuaj.
2. Para se të filloni t'u përgjigjeni pyetjeve, qetësohuni plotësisht, sepse kjo do t'ju ndihmojë.
3. Lexojini me kujdes kërkesat dhe pastaj shënojeni vetëm përgjigjen e saktë, nga 4 mundësitë e dhëna, për të cilën besoni se është e saktë.
4. Fleta e përgjigjeve duhet të plotësohet vetëm me laps të thjeshtë - laps HB.
5. Mbusheni kodin (në rreth) e përgjigjes së saktë me laps të thjeshtë, pa e shkarravitur jashtë. Shih shembullin e mëposhtëm.



6. Kini kujdes që përgjigjen e saktë të një pyetjeje të mos ia vendosni pyetjes tjetër të radhës.
7. Në Fletën e përgjigjeve nuk bën të shkruani tjetër gjë, përveç përgjigjeve për të cilat jeni të bindur se janë të sakta.
8. Përgjigjet e sakta plotësohen njëkohësisht – në Test dhe në Fletën e përgjigjeve.
9. Çdo lloj llogaritjeje mund ta bëni në faqen e fundit të testit, ndërsa në fletën e përgjigjeve nuk bën të shkruani tjetër gjë, përveç përgjigjeve, për të cilat jeni të bindur se janë të sakta.
10. Mos humbni kohë me pyetjet që nuk i dini, sepse koha mund të mos ju mjaftojë për pyetjet e tjera.
11. Përdoreni deri në fund kohën e testimit, në mënyrë që t'u përgjigjeni të gjitha pyetjeve.

Tregtar flamujsh**I**

-Posi... U ba Shqipnija. Dalin të marrët e vikasin: Rrnoftë Shqipnija! Ti i meçëm, përgjegje tue bërtitë në kupë të qiellës: Rrnoftë, po! e shpejt me porositë flamujt. Na shkyeju: rrnoftë! e ti shit, ban pare tue tregtue mbi ndiesit t'ona. Lojë e bukur, por s'të ka dalë...

II

Gaspër Tragaci lëshoi shtizën e u avit kërcnueshëm kah djali. Flamuri ra për tokë. Hilushi s'luejti vendit. Shikonte syt e ftohtë që lëshojshin shkëndija idhnimi. Tregtari u ndal para tij.

-Mos me kenë hatri i mikses së moçme që kam me shtëpen t'ande, dij un...

I riu i a priti:

Për hatër t'asaj miksije tash qes bejta me t'u shit flamujt.

Me za që dridhej prej pezmit, tjetri i a këthei:

-Po, zata ti s'din veç me qitë bejta. Jeto me pralla, bieru mbas andrrave. Më vjen keq për gjind të tuej se tash i qet në rrugë të madhe, më shka shof un. Hajt, hajt qit bejta e dueje Shqipnin: bejta e Shqipnija kanë me të qitë në dritë...

III

U afrue edhe ma tepër e pëshpëriti si në një fishkullimë:

-U shitne a s'u shitne flamujt, qëndroi a s'qëndroi Shqipnija, un kam mjaft, shyqyr, me jetue: a more veshtë? e tash jashtë...

-Kadalë... – i a priti djaloshi me t'eger e syt i vetuen: dal vetë, s'asht nevoja me më qitë jashtë. Por edhe një fjalë due me t'a thanë e të lutem vire në vesh si at këshill që më dhae par në dugajë. Ti thue se jeton, por rrehesh. Ti je shlye prej numrit të të gjallve qyshse je ndry në kët dugajë mbushë me mall. Ky asht vorri yt. E sa për Shqipni, po të siguroj un se ka me qindrue.

Ernest Koliqi

1. E folmja e personazheve në këtë fragment tregon se ngjarja ndodh në :
 - A. Shqipërinë e Veriut
 - B. Shqipërinë e Mesme
 - C. Kosovën Qendrore
 - D. Kosovën Lindore

2. Fjalja „*Jeto me pralla!*” shpreh:
 - A. çudi
 - B. urdhër
 - C. gëzim
 - D. pikëllim

3. Për ta argumentuar situatën më realisht autori i këtij teksti mbështetet në:
 - A. gjuhën e narratorit
 - B. gjuhën e personazheve
 - C. tekstin e narratorit të jashtëm
 - D. dialogun ndërmjet personazheve

4. Zëri i narratorit flet në fjalinë:
A. Po, zati ti s' din veç me qitë bejta
B. Ti thue se jeton po rrelesh
C. Me za qi dridhej prej pezmit, tjetri ia ktheu
D. Dalin të marrët e vikasin: Rrnoftë Shqipnija
5. Paragrafi i parë shquhet për:
A. sarkazëm
B. ironi
C. simbolikë
D. retorikë
6. Informata themelore e fragmentit përmbledhet në fjalinë:
A. Dalin të marrët e vikasin: Rrnoftë Shqipnija
B. Na shkyeju: rrnoftë! e ti shit, ban pare tue tregtue mbi ndiesit t'ona
C. Po, zati ti s' din veç me qitë bejta. Jeto me pralla, bieru mbas andrrave
D. Për hatër t'asaj miksije tash qes bejta me t'u shit flamujt
7. Personazhi i drejtohet tjetrit: „Lojë e bukur, por s'të ka dalë”, sepse:
A. loja e tij nuk është parë
B. loja e tij nuk është vërejtur
C. përpjekja ishte e pasuksesshme
D. përpjekja e tij ishte e bukur
8. Lidhëza „qyshse” në fjalinë: „Ti je shlye prej numrit të të gjallve qyshse je ndry në këtë dugajë mbushë me mall” mund të zëvendësohet me lidhëzën:
A. prej se
B. sepse
C. meqenëse
D. megjithëse
9. Fjalja: „Shikonte syt e ftohtë qi lëshojshin shkëndija idhnimi” në shqipen standarde bën:
A. Shiqonte sytë e ftohtë që lëshonin shkëndija hidhërimi
B. Shikonte sytë e ftofët që lëshonin shkëndija hidhërimi
C. Shiqonte sytë e ftohtë që lëshojshin shkëndija hidhërimi
D. Shikonte sytë e ftohtë që lëshonin shkëndija hidhërimi
10. Fraza: „bieru mbas andrrave”, në paragrafin e dytë do të thotë:
A. jeto me ëndrra
B. vdis me ëndrra
C. shko pas ëndrrave
D. shpjego ëndrrat
11. Në fjalinë: „Shikonte syt e ftohtë qi lëshojshin shkëndija idhnimi”, figura e paradoksit ndërtohet ndërmjet gjymtyrëve:
A. sytë dhe idhnimi
B. ftohtë dhe shkëndija
C. shikonte dhe lëshojshin
D. idhnimi dhe ftohtë

12. Indiferenca ndaj atdheut dhe egoizmi shprehen në fjalinë:

- A. U shitne a s' u shitne flamujt, qëndroi a s' qëndroi Shqipnija , un kam mjaft, shqyrr, me jetue
- B. Ti i meçëm, përgjegje tue bërtitë në kupë të qiellës: Rrnoftë, po! e shpejt me porositë flamujt
- C. Mos me kenë hatri i miksis së moçme qi kam me shtëpin t' ande, dij une
- D. Gaspër Tragaci lëshoi shtizën e u avit kërcënueshëm kah djali

13. Folja „*tue bërtitë*” në paragrafin e parë është formë e:

- A. dëftores
- B. pjesores
- C. paskajores
- D. përcjellores

Lexo me kujdes poezinë e mëposhtme dhe përgjigju pyetjeve!

ME JETUE

Erdhe në jetë
Nuk ka më nevojë për kuje lutje
Kryesorja të jetosh
Këtë gur ta hedhësh më lart se Unë

Prandaj

Sa më pak shikoje veten në pasqyrë
Dhe kurrë mos mendo: i pari
Ai që ka ekzistuar para teje jam unë
Ai që do të kujdeset për ditët e mia të mbrema
Për ëndrrat e mia e qetësinë je Ti
Me pleh kurrë mos u pajto: Nxirre në gjysmë
të natës
në pikë të vapës
asgjë mos rrit, asgjë mos krijo me dhunë
rast i humbur nuk je edhe pse pylli
Dendësohet
Mund ta kalosh natën në Kullën time të vetmuar
Në botë
Dhe si të duash Ti Lumi
Kryesorja: Jetën ta jetosh pa e vrarë
Dhe pa të mbetur në këmbë ndonjë therrë
E saj e zezë
Bashkudhëtari im
Ta provojmë vetveten derisa të kemi frymë.

Ali Podrimja

14. Motivi i kësaj poezie është:

- A. erotik dhe meditativ
- B. meditativ dhe personal
- C. patriotik dhe filozofik
- D. social dhe përshkrues

15. Forma e poezisë së dhënë është:

- A. sonet
- B. akrostik
- C. varg i lirë
- D. varg i rimuar

16. Vargu: „*Ta provojmë vetveten derisa të kemi frymë*” mund të interpretohet si:

- A. besim në jetë
- B. motivim për jetën
- C. zhgënjim nga jeta
- D. lutje për jetën

17. Mospërfillja e këshillës nga vargu: „*Sa më pak shikoje veten në pasqyrë
Dhe kurrë mos mendo: i pari*”,

çon në formimin e një personaliteti:

- A. narcisoid
- B. injorant
- C. të përgjegjshëm
- D. të papërgjegjshëm

18. Folja në mënyrën lidhore haset në vargun:

- A. Ai që ka ekzistuar para teje jam unë
- B. Sa më pak shikoje veten në pasqyrë
- C. Jetën ta jetosh pa e vrarë
- D. Me pleh kurrë mos u pajto

19. Lidhëza „*edhe pse*” në vargjet: „*rast i humbur nuk je edhe pse pylli
Dendësohet*”

mund të zëvendësohet me lidhëzën:

- A. meqenëse
- B. megjithëse
- C. duke qenë se
- D. për shkak se

20. Gradacioni ngritës hetohet në vargjet:

- A. Asgjë mos rrit, asgjë mos krijo me dhunë
- B. Sa më pak shikoje veten në pasqyrë
- C. Kryesorja: Jetën ta jetosh pa e vrarë / Dhe pa të mbetur në këmbë ndonjë therrë/ E saj e zezë
- D. Ai që ka jetuar par teje jam Unë/ Ai që do të kujdeset për ditët e mia të mbrama/ për ëndrrat e qetësinë je Ti

21. Theksi logjik në vargun „*këtë gur ta hedhësh më lart se Unë*” bie në fjalën apo togfjalëshin:

- A. këtë gur
- B. më lart
- C. ta hedhësh
- D. se Unë

22. Folja urdhërore „mos rrit” në mënyrën dëshirore, veta e tretë njëjës, diateza veprorë, bën:
- A. mos rritë
 - B. mos u rritsh
 - C. mos rritsh
 - D. mos u rritshin

Lexo me kujdes fragmentin e mëposhtëm dhe përgjigju pyetjeve!

Problematiciteti shqiptar

Problemi ose Problematiciteti shqiptar... - Kemi trashëguar, thonë, një të shkuar kaotike; po kalojmë, thonë, një të tanishme kaotike: e ardhmja paraqitet si një zero matematike: „*Shiko të shpëtosh kokën tënde!*” - Këtë këngë vajtuese të këndojnë sot Pleq e të Rinj, dogmatikë e liberalë. Të ditur, të paditur, të gjithë njerëzit këtu brenda, i ka zënë një dobësi mistike, një lodhje morale dhe materiale. Dhe, si një rrjedhje e natyrshme e gjithë kësaj gjendjeje, një egoizëm vetjak, materialist, i lidhur ngusht me indiferencën, mërinë, ligësinë, dinakërinë më të përçmuar tejprtej!. – Simptoma më tipike dhe me klasike të dekompozimit. Simptoma të dekadencës, që paraqitin popujt në mbrëmjen e historisë së tyre...
Ku gjendemi?

Branko Merxhani

23. Forma e shkrimit si në fragmentin e dhënë më lart është tipike për:
- A. kritikën
 - B. poezinë
 - C. prozën
 - D. esenë
24. Diskursi i këtij fragmenti është:
- A. eseistik - letrar
 - B. bisedor - politik
 - C. eseistik - politik
 - D. gazetaresk - artistik
25. Në tekstin e dhënë, cilat janë simptomat e „*dekadencës, që paraqitnin popujt në mbrëmjen e historisë së tyre...*”?
- A. e shkuara kaotike, e tanishmja kaotike, e ardhmja si zero matematike
 - B. pleq e të rinj, dogmatikë e liberalë, këndojnë të njëjtën këngë vajtuese
 - C. të gjithë njerëzit i ka zënë një dobësi mistike, lodhje morale e materiale
 - D. egoizmi vetjak, materializmi, indiferenca, mëria, ligësia, dinakëria
26. Titulli më i përshtatshëm për këtë tekst do të ishte:
- A. mbrëmja e historisë
 - B. kaosi shqiptar
 - C. dekadencia morale
 - D. politika shqiptare

27. Sinonimi i fjalës „*kaos*” në shqip është:

- A. pengesë
- B. rrëmuje
- C. stagnim
- D. ngecje

28. Fraza: „*Shiko të shpëtoç, kokën t'ënde!*” në kuptim jo të figurshëm bën:

- A. përpiqu të shpëtosh vetveten
- B. shiko të shpëtosh kokën
- C. shiko të shpëtosh vetveten
- D. përpiqu ta shpëtosh kokën

29. Periudha asindetike: „*Kemi trashëguar, thonë, një të shkuar kaotike; po kalojmë, thonë, një të tashme kaotike, e ardhmja na paraqitet si një zero matematike*” është në të vërtetë:

- A. periudhë e bashkërenditur këpujore
- B. periudhë e bashkërenditur filluese
- C. periudhë e nënrenditur shkakore
- D. periudhë e nënrenditur lejore

30. Pas Kongresit të Drejtshkrimit, gjuha jostandarde mund të përdoret në shkrimet:

- A. administrative
- B. fiksiionale
- C. shkencore
- D. jofiksiionale

ENGLISH LANGUAGE

31. Mary has been saving for years. Now she has got \$ 3,562 on her bank account. She has got _____.

- A. three thousand and five hundred and sixty-two dollars
- B. three thousand and five hundred sixty-two dollars
- C. three thousand, five hundred, sixty-two dollars
- D. three thousand, five hundred and sixty-two dollars

32. Samantha, John and Ricky are students. They have had six examinations so far. Below is the table with their examination scores taken from students' examination records.

Read the table carefully and choose the correct answer:

EXAMS	SAMANTHA	JOHN	RICKY
ENGLISH	10	9	6
LITERATURE	7	8	9
SPANISH	8	8	7
ARTS	9	10	6
MEDIA & COMMUNICATIONS	6	9	10
GENDER STUDIES	10	8	9
Average grade	8.33	8.66	7.83

- A. Ricky proved poorer in media & communications than John.
- B. Samantha has got a higher grade than John in arts.
- C. Samantha has got the highest grade of all in gender studies.
- D. John is the best student in media and communications.

33. Read this text and then choose a sentence to complete the paragraph:

I am crazy about football. I always watch the matches of my favourite team. Last time, my team won a very important match. That's why _____.

- A. I treated all my friends
- B. I was very unhappy
- C. I was very disappointed
- D. I wanted to change my team

34. Choose the correct answer to complete the sentence:

Come and sit under the shadow. It's _____ here.

- A. more cooler
- B. much cooler
- C. more cool
- D. the coolest

35. Choose a word to complete the following sentence:

It's my father's birthday tomorrow. I'm in a trouble. I don't know what to buy and I don't have much time. Can you, please, _____ me?

- A. help
- B. support
- C. endorse
- D. sponsor

36. Look at the following adjectives. One of them DOES NOT exist. Which one?

- A. ruthless
- B. senseless
- C. tasteless
- D. smokyless

37. Choose the correct sentence:

- A. She told to me be on time for the meeting.
- B. She told me on time to be for the meeting.
- C. She told me to be on time for the meeting.
- D. She told me for the meeting to be on time.

38. Look at the words in the box and choose which sentence below is correct:

number – the – increasing - of – cars - the – is – road – on

- A. Number of the cars on the road is increasing.
- B. The number of cars on the road is increasing.
- C. The cars number of on the road is increasing.
- D. The number of cars on the increasing road is.

39. In this group of words three words have similar meaning except one.

Choose one word that is NOT similar to other three.

- A. award
- B. prize
- C. gift
- D. race

40. In many shops there is a small room in which you can put the clothes on and see whether you like them before you buy them. Therefore, from the following expressions:

1. guest room
2. change room
3. fitting room
4. wardrobe

you should ask the shop assistant to show you the '**fitting room**' because _____.

- A. this is the room where you try the clothes.
- B. this is the room where you store the clothes.
- C. this is the room where you change the clothes.
- D. this is the room where you fit the clothes.

41. The word **blew** does **NOT** rhyme with only one of these words. Which one?

- A. through
- B. thorough
- C. horseshoe
- D. bird-flu

42. In the string of words: **worked smiled, read, walked, talked**, the word **read** is different because _____.

- A. it is a regular verb
- B. it is in the past simple
- C. it is an irregular verb
- D. it is in the present simple

43. Read the paragraph carefully:

About ten percent of the population is left-handed and it seems to run in families. **The cause, therefore, seems obvious: genetics.** However, identical twins, who have identical genetic blueprint, aren't necessarily both left-handed. This would appear to disprove the theory that being left-handed is inherited.

Look at the highlighted text and complete the following sentence:

The author _____.

- A. has no idea of the cause of left-handedness
- B. is sure the cause of left-handedness is genetic
- C. approves the theory of inherited left-handedness
- D. supposes the cause of left-handedness is genetic

44. Read the following sentences carefully:

1. She will be a girl of seventeen wearing a bright red dress and black stockings.
2. She must be at least thirty-five years old.
3. Jennifer Jones is an experienced actress.
4. In spite of this she often appears on the stage as a young girl.
5. Jennifer will take part in a new play soon.

The correct order of sentences to form a paragraph is _____.

- A. 3 1 5 2 4
- B. 3 1 2 5 4
- C. 3 2 4 5 1
- D. 3 4 5 2 3

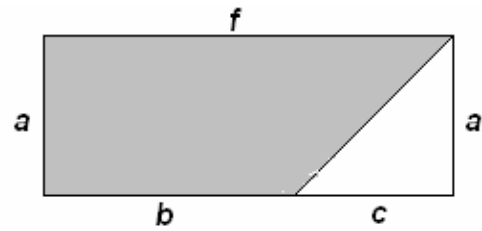
45. Many people from all over the world in those days were heading west in order to reach the 'Promised Land.' The expression 'Promised Land' was a synonym of a country. This country was _____.

- A. America
- B. Canada
- C. Mexico
- D. Argentina

MATEMATIKË

46. Është dhënë figura. Cila nga shprehjet vijuese paraqet syprinën e pjesës së hijezuar të figurës?

- A. $af - \frac{1}{2}ac$
- B. $ab - \frac{1}{2}ac$
- C. $\frac{1}{2}(ab - af)$
- D. $\frac{1}{2}(ab + ac)$



47. Një trup është hedhur nga lartësia prej 230m. Gjatë sekondës së parë ai zbret për 25m, gjatë sekondës së dytë 35m, gjatë sekondës së tretë 45m e kështu me radhë. Kur do të bjerë trupi në tokë?

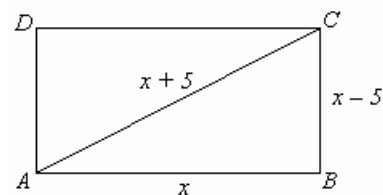
- A. për më pak se 5 sek.
- B. ndërmjet sekondës 5 dhe 6
- C. ndërmjet sekondës 6 dhe 7
- D. pas sekondës së 7

48. Cila është pikë e përbashkët e funksioneve $y = x^2 - x$ dhe $y = x$?

- A. (0, 1)
- B. (1, 0)
- C. (0, 0)
- D. (1, 1)

49. Është dhënë katërkëndëshi ABCD. Cili ekuacion kuadratik përcakton vlerën e x -it sipas të dhënave në figurë ?

- A. $x^2 + 20x = 0$
- B. $x^2 - 20x = 0$
- C. $x^2 - 20x + 25 = 0$
- D. $x^2 + 20x + 25 = 0$



50. Në qoftë se vlen: $a^2 - b^2 = 117$ dhe $a - b = 3$, atëherë sa është vlera e shprehjes $a + b$?

- A. 31
- B. 33
- C. 36
- D. 39

51. Sa është vlera shprehjes numerike komplekse: $A = (\sqrt{1+i})^4$, ku $i^2 = -1$?

- A. $A = 1$
- B. $A = i$
- C. $A = 2i$
- D. $A = 1 + 2i$

52. Në një bufe ndodhen 60 mysafirë, prej të cilëve 39 pinë kafe, 28 pinë ujë, kurse 16 pinë edhe kafe edhe ujë. Sa prej tyre nuk pinë as kafe e as ujë ?

- A. 0
- B. 1
- C. 8
- D. 9

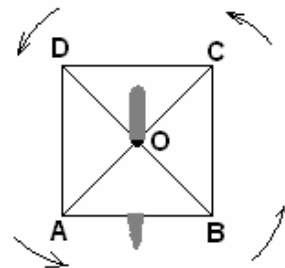
53. Në një kompani janë tre grupe punëtorësh që marrin të ardhura sipas kualifikimeve siç është paraqitur në tabelë. Sa janë përafërsisht të ardhurat mesatare ?

- A. 260 €
- B. 243.28 €
- C. 244.29 €
- D. 263 €

Grupi	Numri i punëtorëve	Të ardhurat
I	20	220€
II	10	260 €
II	5	310€

54. Është dhënë katrori ABCD (shih figurën) i cili rrotullohet për 540° me qendrën e rrotullimit në pikën e prerjes së diagonaleve të tij. Cili përkëmbim i përgjigjet këtij rrotullimi ?

- A. $f \begin{pmatrix} A & B & C & D \\ B & C & D & A \end{pmatrix}$
- B. $f \begin{pmatrix} A & B & C & D \\ C & D & A & B \end{pmatrix}$
- C. $f \begin{pmatrix} A & B & C & D \\ D & A & B & C \end{pmatrix}$
- D. $f \begin{pmatrix} A & B & C & D \\ A & B & C & D \end{pmatrix}$



55. Cila shprehje numerike i përgjigjet fjalisë:

“Prodhimi i shumës së numrave 0.4 dhe 0.2 me diferencën e tyre i rritur për 0.64“ ?

- A. 0.72
- B. 0.74
- C. 0.76
- D. 0.78

56. Me cilën shprehje është ekuivalente shprehja $(3^{-1} \cdot \sqrt{2})^{-2}$?

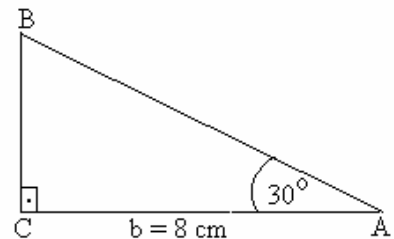
- A. $\frac{9}{2}$
- B. $\frac{9}{4}$
- C. $\frac{3}{2}$
- D. $\frac{3}{4}$

57. Në qoftë se $\log_2 x = 3$ dhe $\log_3 y = 2$ atëherë sa është vlera e $\frac{x}{y}$?

- A. $\frac{3}{2}$
- B. $\frac{9}{4}$
- C. $\frac{8}{9}$
- D. $\frac{64}{81}$

58. Në trekëndëshin kënddrejtë njëri kënd i ngushtë është $\alpha = 30^\circ$ dhe njëri katet është $b = 8 \text{ cm}$. Sa është kateti tjetër ?

- A. 4 cm
- B. 8 cm
- C. $\frac{4\sqrt{3}}{3} \text{ cm}$
- D. $\frac{8\sqrt{3}}{3} \text{ cm}$



59. Në një mbrëmje shoqërore marrin pjesë: 32 nxënës të drejtimit shoqëror, 24 të drejtimit natyror dhe 26 të drejtimit matematikor. Nga salla nxirret rastësisht një nxënës. Sa është probabiliteti $P(x)$ që nxënësi i nxjerrë të jetë i drejtimit natyror ?

- A. $0.1 < P(x) < 0.2$
- B. $0.2 < P(x) < 0.3$
- C. $0.3 < P(x) < 0.4$
- D. $0.4 < P(x) < 0.5$

60. Janë dhënë tre termat e parë të vargut gjeometrik: 3, x , 48. Sa është vlera e x ?

- A. 8
- B. 12
- C. 16
- D. 24

61. Me sa është e barabartë shuma: $S = 1 + 3 + 5 + 7 + 9 + \dots + 29$?

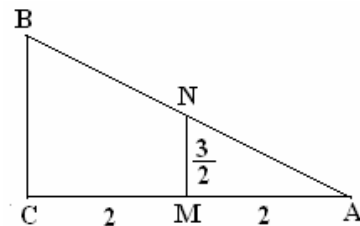
- A. 200
- B. 215
- C. 225
- D. 250

62. Është dhënë figura e mëposhtme ku

$[CM] = [MA] = 2$ dhe $[MN] = \frac{3}{2}$, kurse BC është paralel

me MN. Sa është $[AB]$?

- A. 5
- B. 6
- C. $\sqrt{15}$
- D. $\sqrt{16}$



63. Në cilin rast vlerat e funksioneve vijuese janë të barabarta ndërmjet vete për $x \neq 0$?

- A. $y = 1$ dhe $y = \sin^2 x - \cos^2 x$
- B. $y = \frac{x^2 + x}{x + 1}$ dhe $y = \frac{x^3 + x^2}{x^2 + x}$
- C. $y = \sqrt[3]{x^2}$ dhe $y = \sqrt[4]{x^3}$
- D. $y = |x|$ dhe $y = \sqrt{x}$


64. Sa numra treshifrorë formohen prej numrave 1, 2, 3, 4, në mënyrë që asnjë shifër të mos përsëritet ?

- A. C_3^4
- B. V_3^4
- C. $\frac{4!}{3!}$
- D. $4!3!$

65. Cila është zgjidhja e ekuacionit : $|x - 2| = 3$?

- A. $x = 5 \vee x = 1$
- B. $x = -5 \vee x = 1$
- C. $x = 5 \vee x = -1$
- D. $x = -5 \vee x = -1$

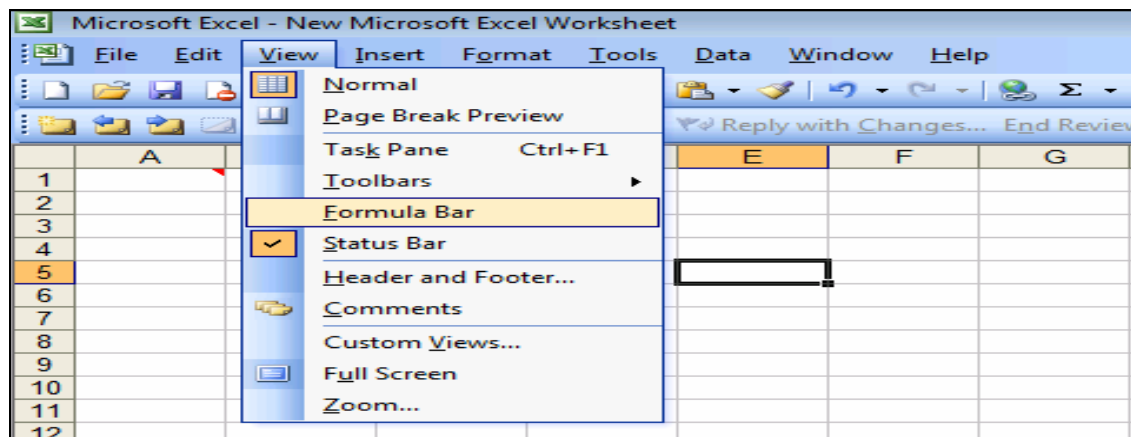
INFORMATIKË

- 66.** Opsioni i Windowsit me ndihmën e të cilit anulohen ndryshimet e bëra në kompjuter, pa dëmtuar fajllat personalë, dokumentet ose fotot është:
- A. Reinstall sistem
 - B. Restore point
 - C. Restore System
 - D. Undo changes
- 67.** Programi kompjuterik i cili starton në momentin e kyçjes së tij dhe që mundëson fillimin e punës së sistemit operativ, quhet:
- A. Control Panel
 - B. Basic Input/Output System
 - C. System Information
 - D. System Cleanup
- 68.** Në figurë është treguar :
- A. Kartela grafike
 - B. Njësia e disketave
 - C. Njësia për CD
 - D. Kujtesa RAM
- 
- 69.** Në cilën hapësirë të memories (kujtesës) mund të rishkruhen të dhënat:
- A. DVD
 - B. CD
 - C. ROM
 - D. CD-RW
- 70.** Keni pranuar një E-mail me një fajll të bashkëngjitur nga një burimi i panjohur. Si do ta trajtoni nga aspekti i sigurisë:
- A. Si të pa rrezikshëm në aspektin e sigurisë
 - B. Do ta fshijmë menjëherë
 - C. Si i infektuar dhe do ta trajtojmë me program antivirus aktual
 - D. Vazhdojmë punën normalisht
- 71.** Në cilat raste preferohet të bëhet kompresimi i fajllave.
- A. Kur duhet të hapet më shpejt
 - B. Kur duhet të mbrohet nga viruset
 - C. Kur duhet të ruhet për kohë të gjatë
 - D. Kur duhet të zërë më pak hapësirë në memorie
- 72.** Kapaciteti i nevojshëm i memories (kujtesës) për ruajtjen e një libri me 250 faqe, të cilat kanë mesatarisht nga 4000 simbole për faqe është:
- A. 1 KB
 - B. 1 MB
 - C. 1 GB
 - D. 1 TB

73. Nëse në celulën C3 është shënuar numri 7, në E5 numri 12, ndërsa në atë D5 numri 3, funksioni =SQRT(C3+E5-D5), i shënuar në celulën A2 jep këtë rezultat:

- A. 4
- B. 16
- C. 32
- D. 256

74. Opsioni i zgjedhur në dritaren e programit MS Excel mundëson:



- A. Vendosjen e shiritit të formulave në dritaren e cilitdo program
- B. Ndryshime në shiritin e formulave në dritaren e cilitdo program
- C. Vendosjen e shiritit të formulave në dritaren e programit MS Excel
- D. Ndryshime në shiritin e formulave në dritaren e programit MS Excel

75. Si mund të zvogëloni rrezikun nga qasja e paautorizuar në një sistem kompjuterik?

- A. Duke e riinstaluar programin për e-mail
- B. Duke përdorë një firewall.
- C. Duke shifruar të gjitha të dhënat e sistemit.
- D. Duke krijuar kopje të të dhënave në intervale të shpeshta kohore

76. Tregtimi elektronik nënkupton:

- A. Emërtim të përbashkët për gjithë tregtinë elektronike
- B. Emërtim të përbashkët për tregtinë me kompjuterë
- C. Mënyrën e porositjes dhe pagesës së mallrave nëpërmjet Internetit
- D. Kuptim të panjohur në TIK

77. Teknologjia e cila mundëson lidhje të shpejtë në internet, me përdorimin e linjave standarde telefonike (me tela bakri), quhet:

- A. ADSL (Asymmetric Digital Subscriber Line)
- B. HTTP (Hypertext Transfer Protocol)
- C. HTML (Hypertext Markup Language)
- D. URL (Uniform Resource Locator)

78. Cili është rrjeti më i përshtatshëm për një kompani e cila i ka zyrat që shtrihen në tërë qytetin :

- A. MAN (Metropolitan Area Network)
- B. LAN (Local Area Network)
- C. WAN (Wide Area Network)
- D. PAN (Personal Area Network)

79. Për çfarë përdoret një **Web browser**:

- A. Krijimin e web faqeve
- B. Ruajtjen e web faqeve
- C. Ndryshimin e web faqeve
- D. Prezantimin e web faqeve

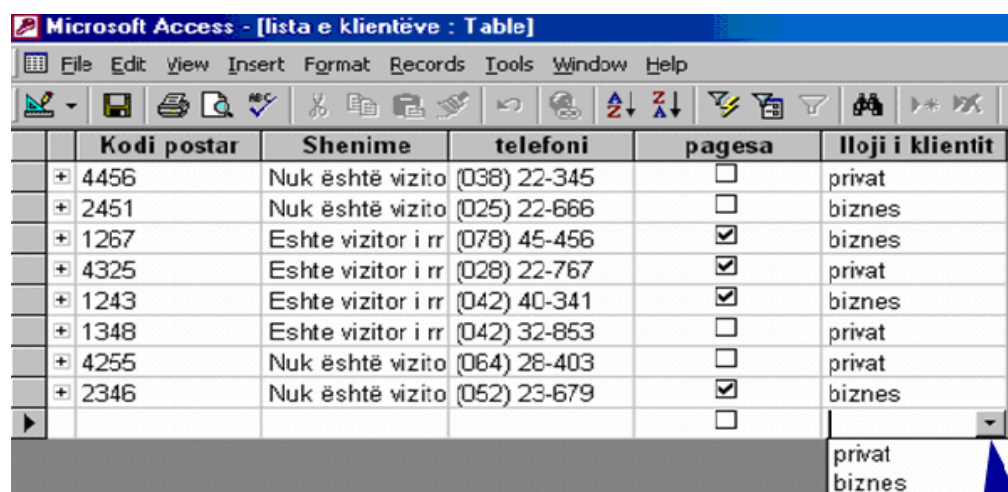
80. Cilat janë veprimet më të preferuara, për të zvogëluar lodhjen dhe tendosjet gjatë punës me kompjuter:

- A. Puna me programe të ndryshme, jo të mërzitshme
- B. Rregullimi i vendit të punës sipas përmasave të trupit
- C. Evitimi i punës së gjatë dhe marrja e pauzave të shpeshta
- D. Puna në pozitë të shtrirë ose çfarë ju përgjigjet më së miri

81. Për incizim të një audio falli , në formatin **.wav** , në kohëzgjatje prej 5 minutash nevojitet përafërsisht :

- A. 21 MB
- B. 31 MB
- C. 41 MB
- D. 51 MB

82. Menyja rënëse, si në figurën e mëposhtme, krijohet me përdorimin e opsionit



Menyja rënëse

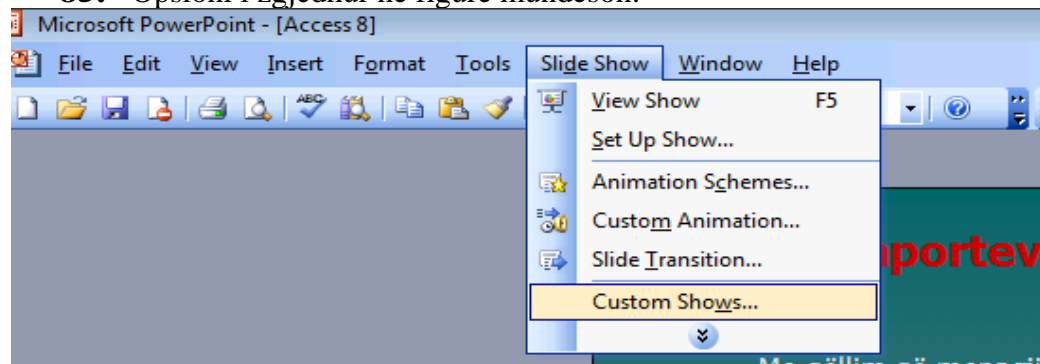
- A. MEMO
- B. Input Mask
- C. Relationships
- D. Lookup Wizard

83. Fajllat e tipit audio karakterizohen me ekstensionet vijuese:

- A. .avi, .m1v, .mp2, .mp2v, .mpe, .mpeg, .mpg, .mpv2, .wm, dhe .wmv
- B. .aif, .aifc, .aiff, .asf, .au, .mp2, .mp3, .mpa, .snd, .wav, dhe .wma
- C. .doc, .ppt, .xls, .com, .exe,
- D. .cdrw, .cdr, cdr6

- 84.** TCP/IP paraqet:
- A. Protokoll për komunikim të kompjuterëve në Internet
 - B. Gjuhë Programuese
 - C. Kod Programor
 - D. Protokoll për të gjitha llojet e komunikimeve

85. Opsioni i zgjedhur në figurë mundëson:



- A. Shfrytëzimin e të gjitha mundësive për animacione të sllajdeve
- B. Përgatitjen e nën prezantimeve nga një prezantim ekzistues
- C. Hapjen e një baze të shënimeve nëpërmjet programit MS PowerPoint
- D. Hapjen e një prezantimi nëpërmjet programit MS Access

EKONOMI

86. Si quhet metoda ekonomike e cila për realizimin e qëllimeve të veta nisat nga e përgjithshmja për të arritur te konkretja?

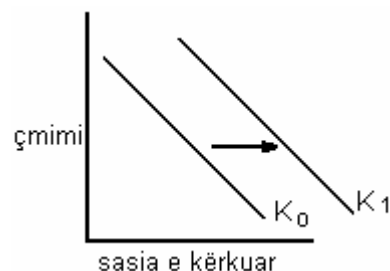
- A. Metodë e vrojtimit
- B. Metodë e krahasimit
- C. Metodë e induksionit
- D. Metodë e deduksionit

87. Politikat të cilat udhëhiqen nga Banka Qendrore dhe kanë të bëjnë me rritjen apo zvogëlimin e sasisë së parave në qarkullim i quajmë:

- A. politika monetare
- B. politika të tregtisë së jashtme
- C. politika doganore
- D. politika fiskale

88. Cili nga faktorët ka ndikuar në zhvendosjen e kurbës së kërkesës nga K_0 në K_1 ?

- A. rritja a shpenzimeve të prodhimit
- B. rritja e të ardhurave të konsumatorëve
- C. progresi teknologjik
- D. importi i mallrave



- 89.** Detyrat e ekonomisë përmblihen në:
- maksimizimin e efekteve të prodhimit përmes shfrytëzimit të burimeve materiale ose minimizimin e kostove
 - prodhimin e sa më shumë produkteve dhe shërbimeve përmes shfrytëzimit të burimeve dhe maksimizimin e kostove
 - krijimin e politikave të tregtisë së jashtme të cilat favorizojnë importin
 - prodhimin e sa më pak produkteve dhe shërbimeve pavarësisht nga shpenzimet
- 90.** Ligji i kërkesës tregon:
- sasinë e produkteve që konsumatorët janë të gatshëm ta blejnë në një kohë, në një vend të caktuar dhe me një çmim të dhënë
 - sasinë e produkteve dhe të shërbimeve që shitësit janë në gjendje ta ofrojnë në një kohë të dhënë me një çmim të caktuar
 - kur çmimet e produkteve ulen, sasia që blerësit janë të gatshëm dhe në gjendje ta blejnë rritet dhe anasjelltas
 - kur çmimet e produkteve rriten, shitësit janë në gjendje të ofrojnë sasi më të madhe të produkteve dhe anasjelltas
- 91.** Çka kuptojmë me elasticitet të kërkesës?
- përqindjen e rritjes së çmimeve
 - përqindjen e zvogëlimit të çmimeve
 - shkallën e reagimit të shitësve ndaj ndryshimi të çmimit
 - shkallën e reagimit të konsumatorëve ndaj ndryshimit të çmimit
- 92.** Vlerën e tregut të produkteve dhe shërbimeve finale të prodhuara brenda vendit në një periudhë të caktuar e tregon:
- GNP (produkti kombëtar bruto)
 - GDP (produkti i brendshëm bruto)
 - NNP (produkti kombëtar neto)
 - NX (eksporti neto)
- 93.** Produkti kombëtar bruto (GNP) është i barabartë me:
- $GNP = GDP + \text{konsumi} - \text{investimet} + \text{eksporti}$
 - $GNP = GDP + \text{shpenzimet qeveritare} - \text{importi} + \text{eksporti}$
 - $GNP = GDP + \text{të hyrat e rezidentëve jashtë vendit} - \text{të hyrat e fituara nga jorezidentët në ekonomin vendore}$
 - $GNP = GDP - \text{të hyrat e rezidentëve jashtë vendit} + \text{të hyrat e jorezidentëve në ekonominë vendore}$
- 94.** Në periudhat e recensionit ekonomik kemi:
- rritje të papunësisë, zvogëlim të prodhimit dhe të të ardhurave
 - rritje të prodhimit, të të ardhurave dhe të papunësisë
 - rritje të inflacionit, përmirësim të bilancit të pagesave dhe bilancit tregtar
 - rritje të shpenzimeve, rritje të deflacionit dhe rritje ekonomike
- 95.** Cili nga faktorët e mëposhtëm është shkaktari më i shpeshtë i inflacionit?
- rritja e prodhimit
 - rritja e kursimit
 - mungesa e parave në ekonomi
 - emetimi i tepërt i parave në ekonomi

- 96.** Sistemi bankar i Kosovës përbëhet nga këto nivele të institucioneve financiare:
- A. bankat investive të Kosovës dhe bankat komerciale
 - B. bankat universale të Kosovës dhe bankat tregtare
 - C. autoriteti qendror bankar i Kosovës dhe bankat komerciale
 - D. autoriteti qendror bankar i Kosovës dhe bankat universale
- 97.** Funkcionet kryesore të cilat duhet t'i ketë paraja janë:
- A. funksioni si mjet shkëmbimi, i njësisë matëse dhe depozituese vlerash
 - B. funksioni si mjet shkëmbimi, tregues i fuqisë ekonomike dhe i inflacionit
 - C. funksioni si tregues i inflacionit, tregues i papunësisë dhe i njësisë matëse
 - D. funksioni si njësi matëse, depozituese vlerash dhe tregues i papunësisë
- 98.** Si i klasifikojmë shpenzimet buxhetore sipas karakterit ekonomik?
- A. Në shpenzime variabile dhe shpenzime fikse
 - B. Në shpenzime operative dhe shpenzime progresive
 - C. Në shpenzime të konsumit dhe shpenzime variabile
 - D. Në shpenzime korente dhe shpenzime kapitale
- 99.** Politika fiskale në realizimin e objektivave të veta në stabilizimin e ekonomisë i përdor këto instrumente:
- A. operacionet e tregut të hapur dhe normat e interesit
 - B. rezervat e detyrueshme dhe tatimet
 - C. taksat dhe tatimet
 - D. rirfinancimin dhe kontributet
- 100.** Bilanci i pagesave në llogaritë e tij i regjistron:
- A. vetëm importet dhe eksportet e mallrave dhe të shërbimeve ndërmjet banorëve të një vendi dhe pjesës tjetër të botës
 - B. të gjitha transaksionet tregtare dhe financiare ndërmjet banorëve të një vendi dhe pjesës tjetër të botës
 - C. vetëm shpenzimet të cilat i realizojnë banorët e një vendi ndaj pjesës tjetër të botës
 - D. të gjitha shpenzimet dhe të hyrat buxhetore të cilat realizohen gjatë një viti